



الدرس رقم 19: استخدام الأدوات والمعدات

نموذج اختبار - اختبار التقييمي الأول			
اسم الوحدة	يلتزم بقواعد الأمن والسلامة	مخرج التعلم	• يطبق الإجراءات في المحافظة على سلامته في الأماكن المختلفة
معيار الأداء	يطبق الممارسات الآمنة عند استخدام الأدوات أو المعدات المتوفرة في مكان العمل	السنة الدراسية / الفصل الدراسي	2023 الفصل الأول
اسم الطالب/ة	داره الفندي	اسم المجموعة	



أسئلة الاختبار	
السؤال الأول	ماهي الصورة الصحيحة لإدخال السلك في فيشة الكهرباء بشكل امن



الدرس رقم 19: استخدام الأدوات والمعدات

نموذج اختبار - اختبار التقييمي الأول			
اسم الوحدة	يلتزم بقواعد الأمن والسلامة	مخرج التعلم	• يطبق الإجراءات في المحافظة على سلامته في الأماكن المختلفة
معيار الأداء	يطبق الممارسات الآمنة عند استخدام الأدوات أو المعدات المتوفرة في مكان العمل	السنة الدراسية / الفصل الدراسي	2023 الفصل الأول
اسم الطالب/ة	زهرة سالم	اسم المجموعة	

أسئلة الاختبار	
السؤال الأول	ماهي الصورة الصحيحة لإدخال السلك في فيشة الكهرباء بشكل امن



الدرس رقم 19: استخدام الأدوات والمعدات

نموذج اختبار - اختبار التقييمي الأول			
اسم الوحدة	يلتزم بقواعد الأمن والسلامة	مخرج التعلم	• يطبق الإجراءات في المحافظة على سلامته في الأماكن المختلفة
معيار الأداء	يطبق الممارسات الآمنة عند استخدام الأدوات أو المعدات المتوفرة في مكان العمل	السنة الدراسية / الفصل الدراسي	2023 الفصل الأول
اسم الطالب/ة	فانزه عاكي	اسم المجموعة	

أسئلة الاختبار	
السؤال الأول	ماهي الصورة الصحيحة لإدخال السلك في فيشة الكهرباء بشكل امن






الدرس رقم 19: استخدام الأدوات والمعدات

نموذج اختبار - اختبار التقييمي الأول			
اسم الوحدة	يلتزم بقواعد الأمن والسلامة	مخرج التعلم	• يطبق الإجراءات في المحافظة على سلامته في الأماكن المختلفة
معيار الأداء	يطبق الممارسات الآمنة عند استخدام الأدوات أو المعدات المتوفرة في مكان العمل	السنة الدراسية / الفصل الدراسي	2023 الفصل الأول
اسم الطالب/ة	زينب عمران	اسم المجموعة	


أسئلة الاختبار	
السؤال الأول	ماهي الصورة الصحيحة لإدخال السلك في فيشة الكهرباء بشكل امن



الدرس رقم 19: استخدام الأدوات والمعدات

نموذج اختبار – اختبار التقييمي الأول			
اسم الوحدة	يلتزم بقواعد الأمن والسلامة	مخرج التعلم	• يطبق الإجراءات في المحافظة على سلامته في الأماكن المختلفة
معيار الأداء	يطبق الممارسات الآمنة عند استخدام الأدوات أو المعدات المتوفرة في مكان العمل	السنة الدراسية / الفصل الدراسي	2023 الفصل الأول
اسم الطالب/ة	محمد سالم	اسم المجموعة	



أسئلة الاختبار	
السؤال الأول	ماهي الصورة الصحيحة لإدخال السلك في فيشة الكهرباء بشكل امن



الدرس رقم 19: استخدام الأدوات والمعدات

نموذج اختبار - اختبار التقييمي الأول			
اسم الوحدة	يلتزم بقواعد الأمن والسلامة	مخرج التعلم	• يطبق الإجراءات في المحافظة على سلامته في الأماكن المختلفة
معيار الأداء	يطبق الممارسات الآمنة عند استخدام الأدوات أو المعدات المتوفرة في مكان العمل	السنة الدراسية / الفصل الدراسي	2023 الفصل الأول
اسم الطالب/ة	بجيتة محمد	اسم المجموعة	

أسئلة الاختبار	
السؤال الأول	ماهي الصورة الصحيحة لإدخال السلك في فيشة الكهرباء بشكل امن



الدرس رقم 19: استخدام الأدوات والمعدات

نموذج اختبار - اختبار التقييمي الأول			
اسم الوحدة	يلتزم بقواعد الأمن والسلامة	مخرج التعلم	• يطبق الإجراءات في المحافظة على سلامته في الأماكن المختلفة
معياري الأداء	يطبق الممارسات الآمنة عند استخدام الأدوات أو المعدات المتوفرة في مكان العمل	السنة الدراسية / الفصل الدراسي	2023 الفصل الأول
اسم الطالب/ة	محمد محمد	اسم المجموعة	

الطالب غير ناطقه بالعربية

أسئلة الاختبار	
السؤال الأول	ماهي الصورة الصحيحة لإدخال السلك في فيشة الكهرباء بشكل امن

