

الدرس رقم 19: استخدام الأدوات والمعدات

نموذج اختبار - اختبار التقييمي الأول			
اسم الوحدة	يلتزم بقواعد الأمن والسلامة	مخرج التعلم	• يطبق الإجراءات في المحافظة على سلامته في الأماكن المختلفة
معيار الأداء	يطبق الممارسات الآمنة عند استخدام الأدوات أو المعدات المتوفرة في مكان العمل	السنة الدراسية / الفصل الدراسي	2023 الفصل الأول
اسم الطالب/ة	عزته سالم	اسم المجموعة	

أسئلة الاختبار	
السؤال الأول	ماهي الصورة الصحيحة لإدخال السلك في فيشة الكهرباء بشكل امن







الدرس رقم 19: استخدام الأدوات والمعدات

نموذج اختبار - اختبار التقييمي الأول			
اسم الوحدة	يلتزم بقواعد الأمن والسلامة	مخرج التعلم	• يطبق الإجراءات في المحافظة على سلامته في الأماكن المختلفة
معيار الأداء	يطبق الممارسات الآمنة عند استخدام الأدوات أو المعدات المتوفرة في مكان العمل	السنة الدراسية / الفصل الدراسي	2023 الفصل الأول
اسم الطالب/ة	محمد	اسم المجموعة	


أسئلة الاختبار	
السؤال الأول	ماهي الصورة الصحيحة لإدخال السلك في فيشة الكهرباء بشكل امن



الدرس رقم 19: استخدام الأدوات والمعدات

نموذج اختبار - اختبار التقييمي الأول			
اسم الوحدة	يلتزم بقواعد الأمن والسلامة	مخرج التعلم	• يطبق الإجراءات في المحافظة على سلامته في الأماكن المختلفة
معيار الأداء	يطبق الممارسات الآمنة عند استخدام الأدوات أو المعدات المتوفرة في مكان العمل	السنة الدراسية / الفصل الدراسي	2023 الفصل الأول
اسم الطالب/ة	صانه صيد	اسم المجموعة	



أسئلة الاختبار	
السؤال الأول	ماهي الصورة الصحيحة لإدخال السلك في فيشة الكهرباء بشكل امن



الدرس رقم 19: استخدام الأدوات والمعدات

نموذج اختبار - اختبار التقييمي الأول			
اسم الوحدة	يلتزم بقواعد الأمن والسلامة	مخرج التعلم	• يطبق الإجراءات في المحافظة على سلامته في الأماكن المختلفة
معيار الأداء	يطبق الممارسات الآمنة عند استخدام الأدوات أو المعدات المتوفرة في مكان العمل	السنة الدراسية / الفصل الدراسي	2023 الفصل الأول
اسم الطالب/ة	ساره خليفه	اسم المجموعة	



أسئلة الاختبار	
السؤال الأول	ماهي الصورة الصحيحة لإدخال السلك في فيشة الكهرباء بشكل امن



الدرس رقم 19: استخدام الأدوات والمعدات

نموذج اختبار - اختبار التقييمي الأول			
اسم الوحدة	يلتزم بقواعد الأمن والسلامة	مخرج التعلم	• يطبق الإجراءات في المحافظة على سلامته في الأماكن المختلفة
معيار الأداء	يطبق الممارسات الآمنة عند استخدام الأدوات أو المعدات المتوفرة في مكان العمل	السنة الدراسية / الفصل الدراسي	2023 الفصل الأول
اسم الطالب/ة	عائشة سير	اسم المجموعة	

أسئلة الاختبار	
السؤال الأول	ماهي الصورة الصحيحة لإدخال السلك في فيشة الكهرباء بشكل امن



الدرس رقم 19: استخدام الأدوات والمعدات

نموذج اختبار - اختبار التقييمي الأول			
اسم الوحدة	يلتزم بقواعد الأمن والسلامة	مخرج التعلم	• يطبق الإجراءات في المحافظة على سلامته في الأماكن المختلفة
معيار الأداء	يطبق الممارسات الآمنة عند استخدام الأدوات أو المعدات المتوفرة في مكان العمل	السنة الدراسية / الفصل الدراسي	2023 الفصل الأول
اسم الطالب/ة	فاطمة عمر	اسم المجموعة	

أسئلة الاختبار	
السؤال الأول	ماهي الصورة الصحيحة لإدخال السلك في فيشة الكهرباء بشكل امن

