
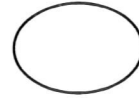




## الدرس رقم 23: قواعد السلامة في النقل

| نموذج اختبار |  |                                   |                                    |
|--------------|--|-----------------------------------|------------------------------------|
| اسم الوحدة   | يلتزم بقواعد الأمن والسلامة                  | مخرج التعلم                       | • يستخدم وسائل النقل الآمنة للتنقل |
| معيار الأداء | يستخدم قواعد السلامة عند استخدام وسائل النقل | السنة الدراسية /<br>الفصل الدراسي | 2023                               |
| اسم الطالب/ة | فاطمة محمد                                   | اسم المجموعة                      | الفصل الأول                        |

| اختبار       |   |
|--------------|---|
| السؤال الأول | اختر الصورة التي تدل على قواعد السلامة في النقل |



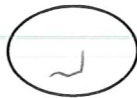
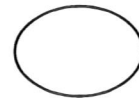
## الدرس رقم 23: قواعد السلامة في النقل

### نموذج اختبار

|              |  |  |                                   |                                    |
|--------------|--|--|-----------------------------------|------------------------------------|
| اسم الوحدة   |  | يلتزم بقواعد الأمن والسلامة                  | مخرج التعلم                       | • يستخدم وسائل النقل الآمنة للتنقل |
| معيار الأداء |  | يستخدم قواعد السلامة عند استخدام وسائل النقل | السنة الدراسية /<br>الفصل الدراسي | 2023                               |
| اسم الطالب/ة |  | محمد   | اسم المجموعة                      | الفصل الأول                        |

### اختبار

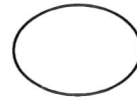
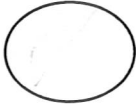
|              |  |
|--------------|--|
| السؤال الأول | اختار الصورة التي تدل على قواعد السلامة في النقل |
|--------------|--|



## الدرس رقم 23: قواعد السلامة في النقل

| نموذج اختبار |  |                                   |                                    |
|--------------|--|-----------------------------------|------------------------------------|
| اسم الوحدة   | يلتزم بقواعد الأمن والسلامة                  | مخرج التعلم                       | • يستخدم وسائل النقل الآمنة للتنقل |
| معيار الأداء | يستخدم قواعد السلامة عند استخدام وسائل النقل | السنة الدراسية /<br>الفصل الدراسي | 2023                               |
| اسم الطالب/ة | مزنة سالم                                    | اسم المجموعة                      | الفصل الأول                        |

| اختبار       |   |
|--------------|---|
| السؤال الأول | اختر الصورة التي تدل على قواعد السلامة في النقل |



## الدرس رقم 23: قواعد السلامة في النقل

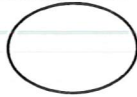
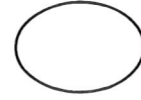
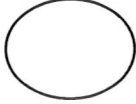
### نموذج اختبار

|                                    |      |                                   |   |              |
|------------------------------------|------|-----------------------------------|---|--------------|
| • يستخدم وسائل النقل الآمنة للتنقل |      | مخرج التعلم                       | يلتزم بقواعد الأمن والسلامة                     | اسم الوحدة   |
| الفصل الأول                        | 2023 | السنة الدراسية /<br>الفصل الدراسي | يستخدم قواعد السلامة عند استخدام وسائل<br>النقل | معيار الأداء |
|                                    |      | اسم المجموعة                      | ساره خليفه                                      | اسم الطالب/ة |

### اختبار

اختار الصورة التي تدل على قواعد السلامة في النقل

السؤال الأول



## الدرس رقم 23: قواعد السلامة في النقل

### نموذج اختبار

|                                    |      |                                   |   |              |
|------------------------------------|------|-----------------------------------|---|--------------|
| • يستخدم وسائل النقل الآمنة للتنقل |      | مخرج التعلم                       | يلتزم بقواعد الأمن والسلامة                     | اسم الوحدة   |
| الفصل الأول                        | 2023 | السنة الدراسية /<br>الفصل الدراسي | يستخدم قواعد السلامة عند استخدام وسائل<br>النقل | معيار الأداء |
|                                    |      | اسم المجموعة                      | ماه صيد   | اسم الطالب/ة |

### اختبار

|              |  |
|--------------|--|
| السؤال الأول | اختار الصورة التي تدل على قواعد السلامة في النقل |
|--------------|--|

