





نموذج اختبار			
اسم الوحدة	مهارات إعادة التدوير	مخرج التعلم	يُميز المواد القابلة للتدوير
معيّار الأداء	يُميز أنواع البلاستيك التي سيعود تدويرها والمنتجات التي يمكن ان يتّجها بعد إعادة تدويرها	السنة الدراسية / الفصل الدراسي	2024
اسم الطالب/ة	خالد الرصيني	اسم المجموعة	٢١١

اسئلة الاختبار " الدرس الأول " .

السؤال الأول / ضع علامة صح أمام صورة منتج البلاستيك الذي تم إعادة تدويره ؟




نموذج اختبار


اسم الوحدة	مهارات إعادة التدوير	مخرج التعلم	يتميز المواد القابلة للتدوير
معيّار الأداء	يتميز أنواع البلاستيك التي سيعود تدويرها والمنتجات التي يمكن أن يتبناها بعد إعادة تدويرها	السنة الدراسية / الفصل الدراسي	2024 الفصل الثاني
اسم الطالب/ة	زارع النخعي	اسم المجموعة	Y11

اسئلة الاختبار "الدرس الأول".

السؤال الأول / ضع علامة صح أمام صورة منتج البلاستيك الذي تم إعادة تدويره ؟



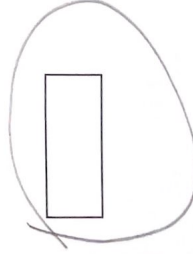






نموذج اختبار		اسم الوحدة
يُميز المواد القابلة للتدوير	مخرجات التعلم	مهارات إعادة التدوير
الفصل الثاني	2024	يُميز أنواع البلاستيك التي يعود تدويرها والمنتجات التي يمكن أن ينتجها بعد إعادة تدويرها
Y11	اسم المجموعة	عبد الرحمن البشير

اسئلة الاختبار " الدرس الأول " .

السؤال الأول / ضع علامة صح أمام صورة منتج البلاستيك الذي تم إعادة تدويره ؟







نموذج اختبار		اسم الوحدة	مهارات إعادة التدوير	مخرج التعلم	يُميز المواد القابلة للتدوير
الفصل الثاني	2024	معيار الأداء	يُميز أنواع البلاستيك التي سيعود تدويرها والمنتجات التي يمكن ان ينتجها بعد إعادة تدويرها	السنة الدراسية / الفصل الدراسي	
	٧١١	اسم الطالب/ة	عبدالله المنهالي	اسم المجموعة	

اسئلة الاختبار " الدرس الأول ".

السؤال الأول / ضع علامة صح أمام صورة منتج البلاستيك الذي تم إعادة تدويره ؟











نموذج اختبار				
يُميز المواد القابلة للتدوير		مخرج التعلم	مهارات إعادة التدوير	اسم الوحدة
الفصل الثاني	2024	السنة الدراسية / الفصل الدراسي	يُميز أنواع البلاستيك التي سيعود تدويرها والمنتجات التي يمكن ان ينتجها بعد إعادة تدويرها	معيار الأداء
٧١١		اسم المجموعة	حنان البلوشي	اسم الطالب/ة

اسئلة الاختبار " الدرس الأول ".

السؤال الأول / ضع علامة صح أمام صورة منتج البلاستيك الذي تم إعادة تدويره ؟











نموذج اختبار		اسم الوحدة	مهارات إعادة التدوير	مخرج التعلم	يُميز المواد القابلة للتدوير
الفصل الثاني	2024	معيار الأداء	يُميز أنواع البلاستيك التي سيعود تدويرها والمنتجات التي يمكن أن ينتجها بعد إعادة تدويرها	السنة الدراسية / الفصل الدراسي	
	٤١١	اسم الطالب/ة	أحمد الحوسني	اسم المجموعة	

اسئلة الاختبار " الدرس الأول " .

السؤال الأول / ضع علامة صح أمام صورة منتج البلاستيك الذي تم إعادة تدويره ؟












نموذج اختبار				
يُميز المواد القابلة للتدوير		مخرج التعلم	مهارات إعادة التدوير	اسم الوحدة
الفصل الثاني	2024	السنة الدراسية / الفصل الدراسي	يُميز أنواع البلاستيك التي سيعود تدويرها والمنتجات التي يمكن أن ينتجها بعد إعادة تدويرها	معايير الأداء
٧١١		اسم المجموعة	خَيِّق العامري	اسم الطالب/ة

اسئلة الاختبار " الدرس الأول ".

السؤال الأول / ضع علامة صح أمام صورة منتج البلاستيك الذي تم إعادة تدويره ؟





نموذج اختبار				
يُميز المواد القابلة للتدوير		مخرج التعلم	مهارات إعادة التدوير	اسم الوحدة
الفصل الثاني	2024	السنة الدراسية / الفصل الدراسي	يُميز أنواع البلاستيك التي سيعود تدويرها والمنتجات التي يمكن ان ينتجها بعد إعادة تدويرها	معياري الأداء
X II		اسم المجموعة	محمد بن حبيبي	اسم الطالب/ة

اسئلة الاختبار " الدرس الأول " .

السؤال الأول / ضع علامة صح أمام صورة منتج البلاستيك الذي تم إعادة تدويره ؟

