






نموذج اختبار

اسم الوحدة		مخرجات التعلم	مهارات إعادة التدوير
الفصل الثاني	2024	السنة الدراسية / الفصل الدراسي	يُميز أنواع البلاستيك التي سيعود تدويرها والمنتجات التي يمكن ان ينتجها بعد إعادة تدويرها
اسم الطالب/ة		اسم المجموعة	

اسئلة الاختبار " الدرس الأول " .

السؤال الأول / ضع علامة صح أمام صورة منتج البلاستيك الذي تم إعادة تدويره ؟



نموذج اختبار

يُميز المواد القابلة للتدوير		مخرج التعلم	مهارات إعادة التدوير	اسم الوحدة
الفصل الثاني	2024	السنة الدراسية / الفصل الدراسي	يُميز أنواع البلاستيك التي سيعود تدويرها والمنتجات التي يمكن ان ينتجها بعد إعادة تدويرها	معيّار الأداء
2		اسم المجموعة	نوريه	اسم الطالب/ة

اسئلة الاختبار " الدرس الأول " .

السؤال الأول / ضع علامة صح أمام صورة منتج البلاستيك الذي تم إعادة تدويره ؟

