



نموذج اختبار

يُميز المواد القابلة للتدوير		مخرج التعلم	مهارات إعادة التدوير	اسم الوحدة
الفصل الثاني	2024	السنة الدراسية / الفصل الدراسي	يُميز أنواع البلاستيك التي سيعود تدويرها والمنتجات التي يمكن أن ينتجها بعد إعادة تدويرها	معايير الأداء
	1	اسم المجموعة	شاهر مسعود	اسم الطالب/ة

اسئلة الاختبار "الدرس الأول".

السؤال الأول / ضع علامة صح أمام صورة منتج البلاستيك الذي تم إعادة تدويره ؟





نموذج اختبار

يُميز المواد القابلة للتدوير		مخرج التعلم	مهارات إعادة التدوير	اسم الوحدة
الفصل الثاني	2024	السنة الدراسية / الفصل الدراسي	يُميز أنواع البلاستيك التي سيعود تدويرها والمنتجات التي يمكن أن ينتجها بعد إعادة تدويرها	معايير الأداء
	١	اسم المجموعة	عبدان السمر	اسم الطالب/ة

اسئلة الاختبار " الدرس الأول " .

السؤال الأول / ضع علامة صح أمام صورة منتج البلاستيك الذي تم إعادة تدويره ؟



نموذج اختبار

يُميز المواد القابلة للتدوير		مخرج التعلم	مهارات إعادة التدوير	اسم الوحدة
الفصل الثاني	2024	السنة الدراسية / الفصل الدراسي	يُميز أنواع البلاستيك التي سيعود تدويرها والمنتجات التي يمكن أن ينتجها بعد إعادة تدويرها	معايير الأداء
	↑	اسم المجموعة	نحيد أسعر	اسم الطالب/ة

اسئلة الاختبار "الدرس الأول".

السؤال الأول / ضع علامة صح أمام صورة منتج البلاستيك الذي تم إعادة تدويره ؟

