


## نموذج اختبار

|                               |      |                                |   |              |
|-------------------------------|------|--------------------------------|---|--------------|
| يُعيد تدوير المخلفات الزراعية |      | مراجحة التعل                   | مهارات إعادة التدوير                                    | اسم الوحدة   |
| الفصل الثاني                  | 2024 | السنة الدراسية / الفصل الدراسي | يُعيد تدوير المنتجات الزراعية لإنتاج سماد عضوي للنباتات | معيان الأداء |
|                               |      | اسم المجموعة                   | طار   | اسم الطالب/ة |

### الاختبار " الدرس الحادي عشر " .

#### السؤال الأول :

ضع دائرة على صورة المخلفات الغذائية المستخدمة لتصنيع السماد العضوي :




| نموذج الاختبار |   |                                |                               |              |
|----------------|---|--------------------------------|-------------------------------|--------------|
| اسم الوحدة     | مهارات إعادة التدوير                                    | مناج التعلم                    | يُعيد تدوير المخلفات الزراعية |              |
| معيار الأداء   | يُعيد تدوير المنتجات الزراعية لإنتاج سماد عضوي للنباتات | السنة الدراسية / الفصل الدراسي | 2024                          | الفصل الثاني |
| اسم الطالب/ة   | توربة كيد المحسنة                                       | اسم المجموعة                   |                               |              |

### الاختبار " الدرس الأحادي عشر " .

#### السؤال الأول :

ضع دائرة على صورة المخلفات الغذائية المستخدمة لتصنيع السماد العضوي :




| نموذج الاختبار |   |                                |                               |
|----------------|---|--------------------------------|-------------------------------|
| اسم الوحدة     | مهارات إعادة التدوير                                    | مناج النظام                    | يُعيد تدوير المخلفات الزراعية |
| معيار الأداء   | يُعيد تدوير المنتجات الزراعية لإنتاج سماد عضوي للنباتات | السنة الدراسية / الفصل الدراسي | 2024 الفصل الثاني             |
| اسم الطالب/ة   | اية   | اسم المجموعة                   |                               |

### الاختبار " الدرس الاحادي عشر " .

#### السؤال الأول :

ضع دائرة على صورة المخلفات الغذائية المستخدمة لتصنيع السماد العضوي :




| نموذج الاختبار                |              |                                |   |
|-------------------------------|--------------|--------------------------------|---|
| يُعيد تدوير المخلفات الزراعية | مراج التعداد | مهارات إعادة التدوير           | اسم الوحدة  |
| الفصل الثاني                  | 2024         | السنة الدراسية / الفصل الدراسي | معيار الأداء  |
|                               |              | اسم مجموعة                     | يُعيد تدوير المنتجات الزراعية لإنتاج سماد عضوي للنباتات |
|                               |              |                                | اسم الطالب/ة  |

### الاختبار " الدرس الحادي عشر " .

#### السؤال الأول :

ضع دائرة على صورة المخلفات الغذائية المستخدمة لتصنيع السماد العضوي :



| نموذج الاختبار |   |                                |                               |
|----------------|---|--------------------------------|-------------------------------|
| اسم الوحدة     | مهارات إعادة التدوير                                    | مناج التعلم                    | يُعيد تدوير المخلفات الزراعية |
| معيار الأداء   | يُعيد تدوير المنتجات الزراعية لإنتاج سماد عضوي للنباتات | السنة الدراسية / الفصل الدراسي | 2024 الفصل الثاني             |
| اسم الطالب/ة   | و ع ر لها   | اسم المجموعة                   |                               |

### الاختبار " الدرس الحادي عشر "

#### السؤال الأول :

ضع دائرة على صورة المخلفات الغذائية المستخدمة لتصنيع السماد العضوي :

