




اختبار 9

نموذج اختبار


اسم الوحدة		مخرج التعلم	يدير شؤونه المالية	اسم الطالب/ة
يستخدم بطاقة الصراف الآلي بالشكل الصحيح				
الفصل الثاني	2024	السنة الدراسية / الفصل الدراسي	يستخدم بطاقة الصراف الآلي لسحب المال	
		اسم المجموعة		علاء
ضع دائرة حول بطاقة الصراف الآلي				السؤال الأول





اختبار 9


نموذج اختبار			
اسم الوحدة	يدير شؤونه المالية	مخرج التعلم	يستخدم بطاقة الصراف الآلي بالشكل الصحيح
معيار الأداء	يستخدم بطاقة الصراف الآلي لسحب المال	السنة الدراسية / الفصل الدراسي	2024 الفصل الثاني
اسم الطالب/ة	حسن	اسم الامموة	211
السؤال الأول	ضع دائرة حول بطاقة الصراف الآلي		





اختبار 9


نموذج اختبار			
اسم الوحدة	مدير شؤونه المالية	مخرج التعلم	يستخدم بطاقة الصراف الآلي بالشكل الصحيح
معياري الأداء	يستخدم بطاقة الصراف الآلي لسحب المال	السنة الدراسية / الفصل الدراسي	2024 الفصل الثاني
اسم الطالب/ة	أ.ع	اسم المجموعة	2
السؤال الأول	ضع دائرة حول بطاقة الصراف الآلي		





اختبار 9

نموذج اختبار			
اسم الوحدة	يدبر شؤونه المالية	مخرج التعلم	يستخدم بطاقة الصراف الآلي بالشكل الصحيح
معيار الأداء	يستخدم بطاقة الصراف الآلي لسحب المال	لسنة دراسية / الفصل الدراسي	2024 الفصل الثاني
اسم الطالب/ة	سماحة	اسم المجموعة	2
السؤال الأول	ضع دائرة حول بطاقة الصراف الآلي		





اختبار 9

نموذج اختبار			
اسم الوحدة	مدير شؤونه المالية	مخرج التعلم	يستخدم بطاقة الصراف الآلي بالشكل الصحيح
معيار الأداء	يستخدم بطاقة الصراف الآلي لسحب المال	السنة الدراسية / الفصل الدراسي	2024 الفصل الثاني
اسم الطالب/ة	نوره	اسم الاممودة	2
السؤال الأول	ضع دائرة حول بطاقة الصراف الآلي		

