

نموذج اختبار

| اسم الوحدة | يظهر مهارة الإستعداد للعمل | السنة الدراسية / الفصل الدراسي | 2024 | الفصل الثاني |
|--------------|---|--------------------------------|------|--------------|
| اسم الطالب/ة | يصف المهارات الشخصية والتوظيفية والمسات التي يحتاجها الشخص في العمل يصف المهارات الخاصة والمسات والإنجازات وشرح مدى ارتباط مهاراته وسماته ومخزاته بتلك المطلوبة في مكان العمل | اسم المجموعة | 26 | |

أسئلة الاختبار

| | |
|---------------|---|
| السؤال الأول | تلكم عن سమాك الشخصية ووظيفتك المستقبلية ؟ |
| السؤال الثاني | السؤال الثالث |
| السؤال الرابع | |

آمينه دة المفلح

الدرس الواحد والعشرون

| المعيار | المخرج | مخرجات الدرس | الوحدة |
|--|---|--------------|----------------------------|
| وصف المهارات الشخصية والتوظيفية والسكن التي يحتاجها الشخص في العمل | يدرك كيفية ارتباط المهارات والسكن الشخصية بالمهارات العملية | نشاط على | يظهر مهارة الإستعداد للعمل |

مشهد تمثلي يصف فيه الطالب سماته الشخصية ووظيفته المستقبلية في المنزل ؟


الارزاسه

المساعدة في الاعمال المنزلية

نموذج اختبار

| بنفذ معاملات مالية بسيطة | | مخرج الزعم | يدير شؤونه المالية | اسم الوحدة |
|--------------------------|------|--------------------------------|---|--------------|
| الفصل الثاني | 2024 | السنة الدراسية / الفصل الدراسي | يحدد مجموعته من الطرق التي يمكن من خلالها دفع ثمن المشتريات | معيان الأداء |
| | | اسم المجموعة | أسماء الطلاب | اسم الطالب/ة |
| | | | 26 | السؤال الأول |

ضع دائرة على صورة الدفع الفوري (الكاش).



| رقم السؤال | الخيار | اسم الطالب/ة |
|------------|--------------|-------------------|
| 26 | اسم المجموعة | أحمد محمد العبدان |

الاختبار

ضع الصورة في المكان المناسب (استراتيجية القص والملصق):



ضع الصورة في المكان المناسب بتطبيق مهارة القص والملصق:

| | | | |
|--------------------------|----------------|--------------------------|--------------|
| <input type="checkbox"/> | البس القفازات | <input type="checkbox"/> | مخرج الطوارئ |
| <input type="checkbox"/> | جرس الانذار | <input type="checkbox"/> | البس كمامة |
| <input type="checkbox"/> | علامة الاشتعال | <input type="checkbox"/> | طفاية الحريق |

| نموذج اختبار | | | | |
|---|------|--------------------------------|---|---------------|
| ينفذ معاملات مالية بسيطة | | مخرج التعلم | يدير شؤونه المالية | اسم الوحدة |
| الفصل الثاني | 2024 | السنة الدراسية / الفصل الدراسي | يجري حسابات بسيطة عند الدفع مقابل سلعه ما | معياري الأداء |
| 26 | | اسم المجموعة | أمينة / حفا العفلاتي | اسم الطالب/ة |
| احسب تكلفة السلع المعروضة امامك باستخدام الالة الحاسبة. | | | | السؤال الأول |



+



+



= 25.65



نموذج اختبار

| اسم الوحدة | يظهر مهارة الإستعداد للعمل | مخرج التعلم | يبحث عن فرص، وظيفية مختلفة في سوق العمل | اسم الطالب/ة |
|--------------|---|--------------------------------|---|--------------|
| اسم الوحدة | يظهر مهارة الإستعداد للعمل | مخرج التعلم | يبحث عن فرص، وظيفية مختلفة في سوق العمل | |
| معيار الأداء | عد السيرة الذاتية للتقدم لوظيفة أو مقابلة | السنة الدراسية / الفصل الدراسي | 2024 | الفصل الثاني |
| اسم الطالب/ة | أ صبيحة / حماد / رمضان | اسم المجموعة | 26 | |

أسئلة الاختبار

| | |
|---------------|---|
| السؤال الأول | قم بإعداد سيرة ذاتية بسيطة؟ |
| السؤال الثاني | ما هي الوظيفة المستقبلية التي ترغب بها؟ خيالك و الالتمع |
| | |
| | |

| نموذج اختبار | | | |
|--------------|--|---------------------------------|---------------------------|
| اسم الوحدة | عدد خطوات العملية | المنهج التعليمي / الفصل الدراسي | تاريخ معاملات مالية بسيطة |
| اسم الطالب/ة | عدد خطوات العملية يتم من خلالها دفع نصيب المعنوية | اسم المجموعة | 2024 الفصل الثاني |
| السؤال الأول | أتمنى ان يكون | | 26 |

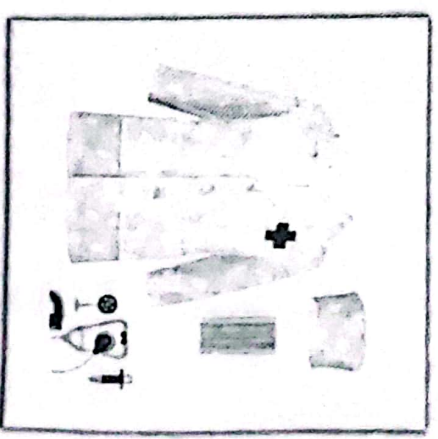

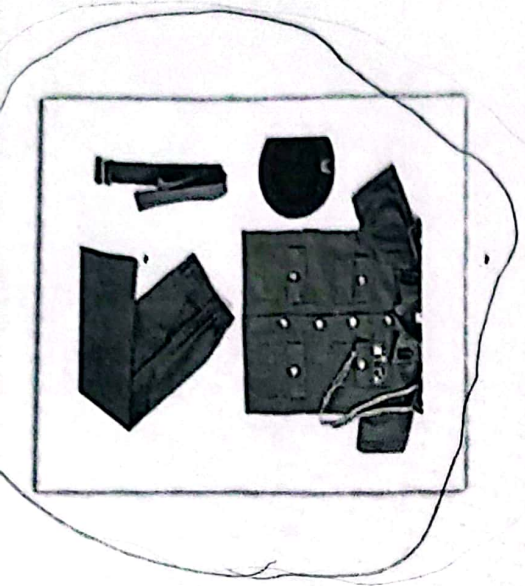
ضع دائرة على صورة الدفع بالبطاقة



| يظهر مهارات العمل مع الأخرين | السنة الدراسية / الفصل الدراسي | الفصل الثاني | اسم الطالب/ة |
|---------------------------------|--------------------------------|--------------|--------------|
| 1- يلتزم بلبس الزي الخاص بالعمل | اسم المجموعة | 2024 | 26 |
| أحمد | | | |

الاختبار

ضع دائرة على ملابس الشرطي (زي العمل المستخدم)؟ السؤال الأول



| | | |
|----|--------------|--------------|
| 26 | اسم المجموعة | اسم الطالب/ة |
|----|--------------|--------------|

أسئلة الاختيار

ضع دائرة على ملابس رجل الإطفاء؟

