






الاختبار			
اسم الوحدة	يُظهر معرفة ومهارة في تصنيع المنتجات الخشبية	مخرج التعلم	• يظهر معرفة ومهارة في استخدام الأدوات والمعدات الأساسية اللازمة لتصنيع المنتجات الخشبية وأدوات نشر الخشب بمختلف أنواعها
معيار الأداء	يفرق بين طرق استخدام كل أداة تستخدم في النجارة	السنة الدراسية / الفصل الدراسي	2023
اسم الطالب/ة	صبيح مهدي لدين	اسم المجموعة	3
الفصل الثالث	7		

السؤال الأول	ضع دائرة على صورة (المطرقة) من بين عدة ادوات
--------------	--



الاختبار			
اسم الوحدة	يُظهر معرفة ومهارة في تصنيع المنتجات الخشبية	مخرج التعلم	• يظهر معرفة ومهارة في استخدام الأدوات والمعدات الأساسية اللازمة لتصنيع المنتجات الخشبية وأدوات نشر الخشب بمختلف أنواعها
معيار الأداء	يفترق بين طرق استخدام كل أداة تستخدم في النجارة	السنة الدراسية / الفصل الدراسي	2023
اسم الطالب/ة	فاطمة قاسم	اسم المجموعة	3
الفصل الثالث			

السؤال الأول	ضع دائرة على صورة (المطرقة) من بين عدة ادوات
--------------	--



الاختبار			
اسم الوحدة	يُظهر معرفة ومهارة في تصنيع المنتجات الخشبية	مخرج التعلم	• يظهر معرفة ومهارة في استخدام الأدوات والمعدات الأساسية اللازمة لتصنيع المنتجات الخشبية وأدوات نشر الخشب بمختلف أنواعها
معياري الأداء	يفتق بين طرق استخدام كل أداة تستخدم في النجارة	السنة الدراسية / الفصل الدراسي	2023
اسم الطالب/ة	شمس هارون	اسم المجموعة	3

السؤال الأول
ضع دائرة على صورة (المطرقة) من بين عدة ادوات

