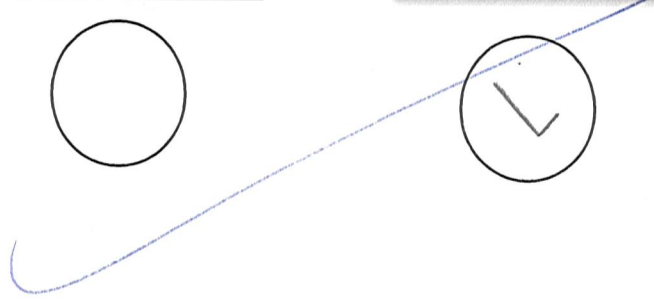
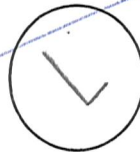






الاختبار				
• يظهر معرفة ومهارة في استخدام الأدوات والمعدات الأساسية اللازمة لتصنيع المنتجات الخشبية وأدوات نشر الخشب بمختلف أنواعها		مخرج التعلم	يُظهر معرفة ومهارة في تصنيع المنتجات الخشبية	اسم الوحدة
الفصل الثالث	2024	السنة الدراسية / الفصل الدراسي	يحضر المواد الأساسية اللازمة لتصنيع المنتجات الخشبية المحددة مسبقا	معياري الأداء
2		اسم المجموعة	أيه	اسم الطالب/ة

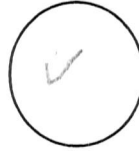
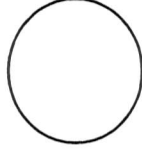

ضع علامة صح على المواد المستخدمة في صناعة المنتجات الخشبية





الاختبار				
• يظهر معرفة ومهارة في استخدام الأدوات والمعدات الأساسية اللازمة لتصنيع المنتجات الخشبية وأدوات نشر الخشب بمختلف أنواعها		مخرج التعلم	يُظهر معرفة ومهارة في تصنيع المنتجات الخشبية	اسم الوحدة
الفصل الثالث	2024	السنة الدراسية / الفصل الدراسي	يحضر المواد الأساسية اللازمة لتصنيع المنتجات الخشبية المحددة مسبقا	معياري الأداء
		اسم المجموعة	و عر لها	اسم الطالب/ة

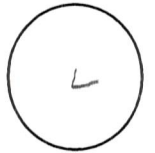
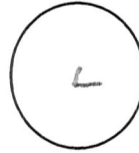

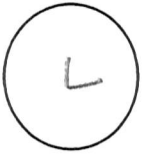

ضع علامة صح على المواد المستخدمة في صناعة المنتجات الخشبية







الاختبار				
• يظهر معرفة ومهارة في استخدام الأدوات والمعدات الأساسية اللازمة لتصنيع المنتجات الخشبية وأدوات نشر الخشب بمختلف أنواعها		مخرج التعلم	يُظهر معرفة ومهارة في تصنيع المنتجات الخشبية	اسم الوحدة
الفصل الثالث	2024	السنة الدراسية / الفصل الدراسي	يحضر المواد الأساسية اللازمة لتصنيع المنتجات الخشبية المحددة مسبقاً	معياري الأداء
		اسم المجموعة	توريبة عبد الرحمن	اسم الطالب/ة

ضع علامة صح على المواد المستخدمة في صناعة المنتجات الخشبية





الاختبار			
اسم الوحدة	يُظهر معرفة ومهارة في تصنيع المنتجات الخشبية	مخرج التعلم	• يظهر معرفة ومهارة في استخدام الأدوات والمعدات الأساسية اللازمة لتصنيع المنتجات الخشبية وأدوات نشر الخشب بمختلف أنواعها
معياري الأداء	يفرق بين طرق استخدام كل أداة تستخدم في النجارة	السنة الدراسية / الفصل الدراسي	2023
اسم الطالب/ة	و كرلما	اسم المجموعة	الفصل الثالث

السؤال الأول	ضع دائرة على صورة (المطرقة) من بين عدة ادوات
--------------	--




الاختبار				
• يظهر معرفة ومهارة في استخدام الأدوات والمعدات الأساسية اللازمة لتصنيع المنتجات الخشبية وأدوات نشر الخشب بمختلف أنواعها		مخرج التعلم	يُظهر معرفة ومهارة في تصنيع المنتجات الخشبية	اسم الوحدة
الفصل الثالث	2023	السنة الدراسية / الفصل الدراسي	يفرّق بين طرق استخدام كل أداة تستخدم في النجارة	معيّار الأداء
		اسم المجموعة	تورية عبد الصمد	اسم الطالب/ة

ضع دائرة على صورة (المطرقة) من بين عدة ادوات	السؤال الأول
--	--------------




الاختبار				
<ul style="list-style-type: none"> • يظهر معرفة ومهارة في استخدام الأدوات والمعدات الأساسية اللازمة لتصنيع المنتجات الخشبية وأدوات نشر الخشب بمختلف أنواعها 		مخرج التعلم	يُظهر معرفة ومهارة في تصنيع المنتجات الخشبية	اسم الوحدة
الفصل الثالث	٢٠٢٤	السنة الدراسية / الفصل الدراسي	يستخدم الأدوات الحادة الخاصة بالنجارة بطريقة صحيحة وأمنة.	معياري الأداء
	1	اسم المجموعة	البر	اسم الطالب/ة

السؤال الاول	اختر ادوات الامن والسلامه المستخدمه في صناعة المنتجات الخشبية
--------------	---


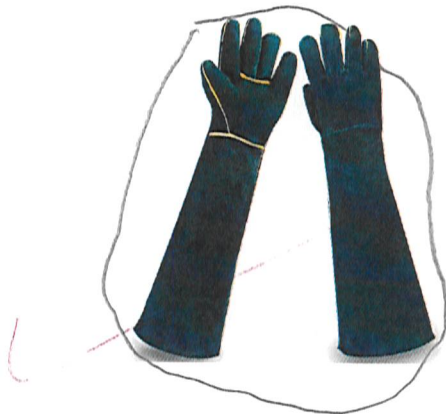


الاختبار			
اسم الوحدة	يُظهر معرفة ومهارة في تصنيع المنتجات الخشبية	مخرج التعلم	• يظهر معرفة ومهارة في استخدام الأدوات والمعدات الأساسية اللازمة لتصنيع المنتجات الخشبية وأدوات نشر الخشب بمختلف أنواعها
معيار الأداء	يستخدم الأدوات الحادة الخاصة بالنجارة بطريقة صحيحة وآمنة.	السنة الدراسية / الفصل الدراسي	٢٠٢٤
اسم الطالب/ة	وكتة	اسم المجموعة	<u>1</u>

السؤال الاول	اختر ادوات الامن والسلامه المستخدمه في صناعة المنتجات الخشبية
--------------	---



KSEBI SHOP



الاختبار

• يظهر معرفة ومهارة في استخدام الأدوات والمعدات الأساسية اللازمة لتصنيع المنتجات الخشبية وأدوات نشر الخشب بمختلف أنواعها		مخرج التعلم	يُظهر معرفة ومهارة في تصنيع المنتجات الخشبية	اسم الوحدة
الفصل الثالث	٢٠٢٤	السنة الدراسية / الفصل الدراسي	يستخدم الأدوات الحادة الخاصة بالنجارة بطريقة صحيحة وأمنة.	معياري الأداء
ح		اسم المجموعة	نوريه	اسم الطالب/ة

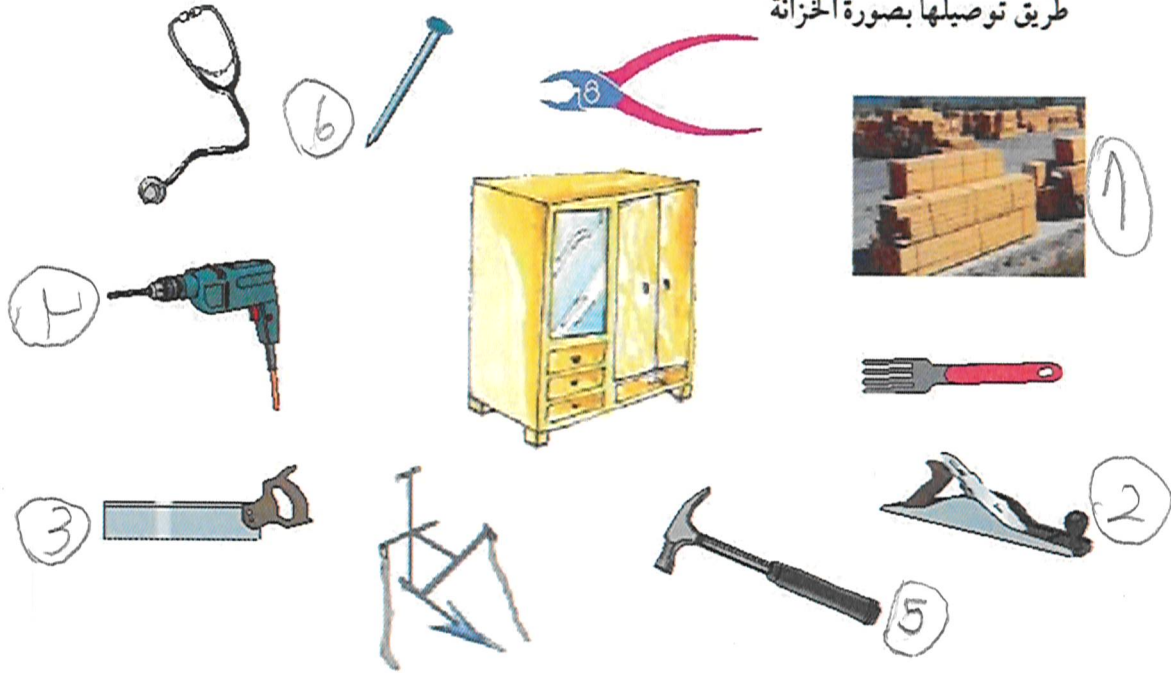
السؤال الاول اختر ادوات الامن والسلامه المستخدمه في صناعة المنتجات الخشبية



اختبار

• يظهر معرفة ومهارة في استخدام الأدوات والمعدات الأساسية اللازمة لتصنيع المنتجات الخشبية وأدوات نشر الخشب بمختلف أنواعها		مخرج التعلم	يُظهر معرفة ومهارة في تصنيع المنتجات الخشبية	اسم الوحدة
الفصل الثالث	2024	السنة الدراسية / الفصل الدراسي	يستخدم أدوات النجارة بطريقة صحيحة وآمنة	معياري الأداء
2		اسم المجموعة	لؤريفة	اسم الطالب/ة

• أنا نجار أريد أن أصنع خزانة لإبني ، هل تستطيع مساعدتي باختيار الأدوات التي تلزمني عن طريق توصيلها بصورة الخزانة



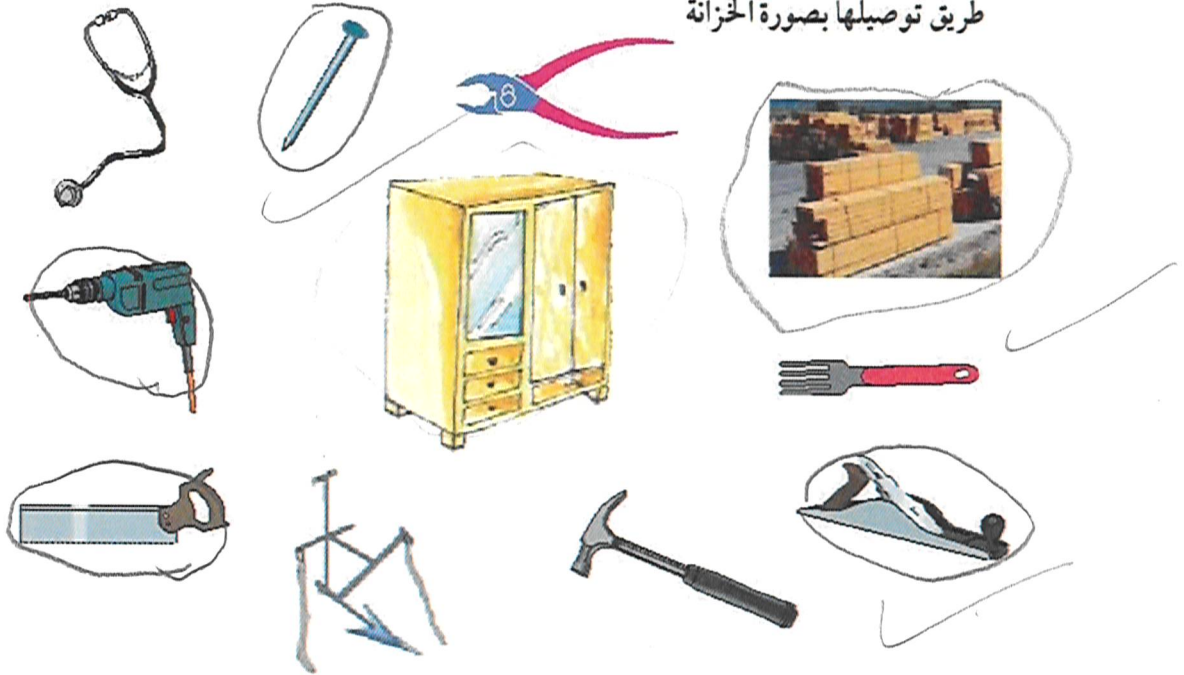


اختبار

اسم الوحدة		مخرج التعلم	يُظهر معرفة ومهارة في تصنيع المنتجات الخشبية	اسم الطالب/ة
الفصل الثالث	2024	السنة الدراسية / الفصل الدراسي	يستخدم أدوات النجارة بطريقة صحيحة وآمنة	وعبد
اسم المجموعة				

● أنا نجار أريد أن أصنع خزانة لإبني ، هل تستطيع مساعدتي باختيار الأدوات التي تلزمني عن

طريق توصيلها بصورة الخزانة



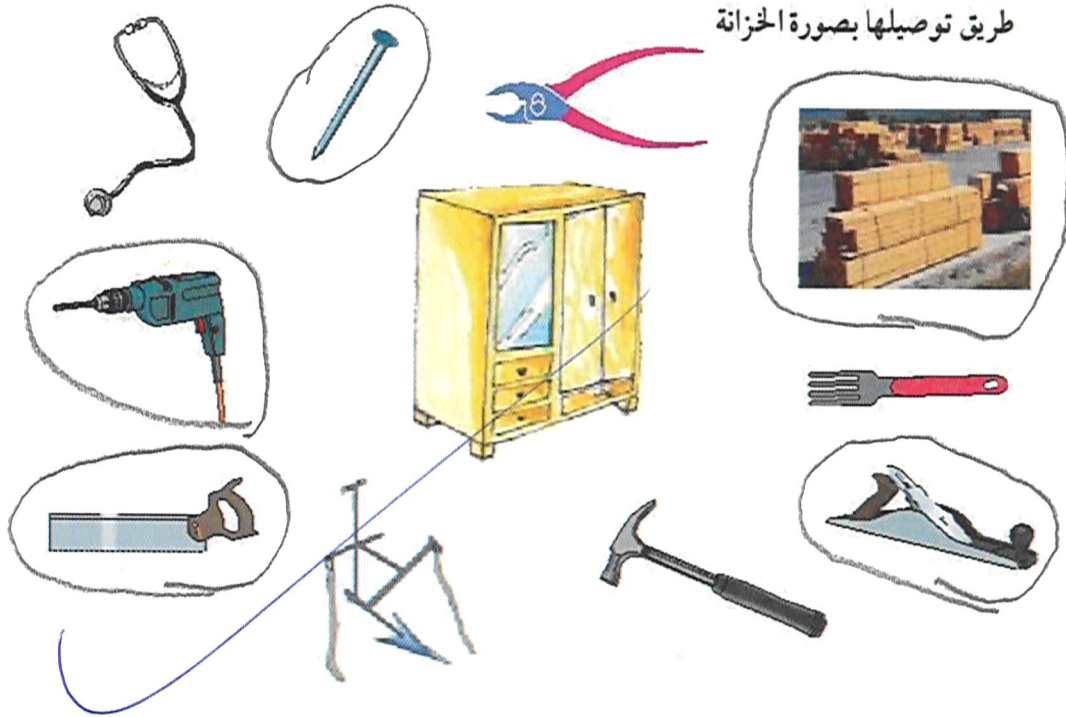


اختبار

اسم الوحدة		مخرج التعلم	يُظهر معرفة ومهارة في تصنيع المنتجات الخشبية	اسم الطالب/ة
الفصل الثالث	2024	السنة الدراسية / الفصل الدراسي	يستخدم أدوات النجارة بطريقة صحيحة وآمنة	1
اسم المجموعة		اسم المجموعة		1

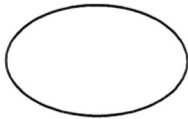
● أنا نجار أريد أن أصنع خزانة لإبني ، هل تستطيع مساعدتي باختيار الأدوات التي تلزمني عن

طريق توصيلها بصورة الخزانة



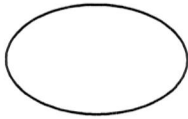
الاختبار			
اسم الوحدة	يُظهر معرفة ومهارة في تصنيع المنتجات الخشبية	مخرج التعلم	• يظهر معرفة ومهارة في استخدام الأدوات والمعدات الأساسية اللازمة لتصنيع المنتجات الخشبية وأدوات نشر الخشب بمختلف أنواعها
معيار الأداء	يفرّق بين أنواع المبارد: المثلث - المربع - الدائرة - النصف دائرة.	السنة الدراسية / الفصل الدراسي	2024 الفصل الثالث
اسم الطالب/ة	اسم المجموعة		

السؤال الاول / ضع علامة صح على صورة المبارد



الاختبار			
اسم الوحدة	يُظهر معرفة ومهارة في تصنيع المنتجات الخشبية	مخرج التعلم	• يظهر معرفة ومهارة في استخدام الأدوات والمعدات الأساسية اللازمة لتصنيع المنتجات الخشبية وأدوات نشر الخشب بمختلف أنواعها
معياري الأداء	يفرق بين أنواع المبارد: المثلث - المربع - الدائرة - النصف دائرة.	السنة الدراسية / الفصل الدراسي	2024
اسم الطالب/ة	9 كرله	اسم المجموعة	الفصل الثالث

السؤال الاول / ضع علامة صح على صورة المبارد



الاختبار			
اسم الوحدة	يُظهر معرفة ومهارة في تصنيع المنتجات الخشبية	مخرج التعلم	• يظهر معرفة ومهارة في استخدام الأدوات والمعدات الأساسية اللازمة لتصنيع المنتجات الخشبية وأدوات نشر الخشب بمختلف أنواعها
معياري الأداء	يفرق بين أنواع المبارد: المثلث - المربع - الدائرة - النصف دائرة.	السنة الدراسية / الفصل الدراسي	2024
اسم الطالب/ة	كؤرع	اسم المجموعة	1

السؤال الاول / ضع علامة صح على صورة المبارد

