

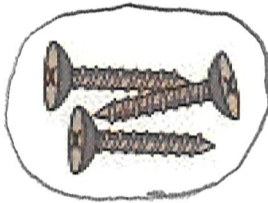



نموذج اختبار			
يُميز أنواع وأدوات الصيانة الأساسية واستخداماتها	مخرج التعلم	يظهر معرفة ومهارة في أعمال الصيانة العامة	اسم الوحدة
الفصل الثالث	2024	السنة الدراسية / الفصل الدراسي	يحدد استخدامات كل أداة
	اسم المجموعة		اسم الطالب/ة

أسئلة الاختبار	
السؤال الاول	صِل كل أداة من ادوات الصيانة ادناه بطريقة استخدامها الصحيحة


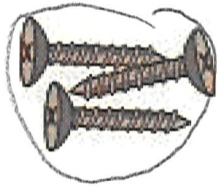



نموذج اختبار			
يُميز أنواع وأدوات الصيانة الأساسية واستخداماتها		مخرج التعلم	اسم الوحدة
الفصل الثالث	2024	السنة الدراسية / الفصل الدراسي	يظهر معرفة ومهارة في أعمال الصيانة العامة
		اسم المجموعة	يحدد استخدامات كل أداة
			اسم الطالب/ة



وعرلطا

أسئلة الاختبار	
السؤال الاول	صنل كل اداة من ادوات الصيانة ادناه بطريقة استخدامها الصحيحة

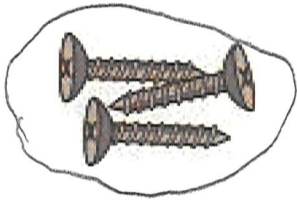



نموذج اختبار

يُميز أنواع وأدوات الصيانة الأساسية واستخداماتها		مخرج التعلم	يظهر معرفة ومهارة في أعمال الصيانة العامة	اسم الوحدة
الفصل الثالث	2024	السنة الدراسية / الفصل الدراسي	يحدد استخدامات كل أداة	معيار الأداء
		اسم المجموعة	نورية عبد الجليل	اسم الطالب/ة


أسئلة الاختبار

السؤال الأول	
صِل كل أداة من أدوات الصيانة أدناه بطريقة استخدامها الصحيحة	



نموذج اختبار				
يُميز أنواع وأدوات الصيانة الأساسية واستخداماتها		مخرج التعلم	يظهر معرفة ومهارة في أعمال الصيانة العامة	اسم الوحدة
الفصل الثالث	2024	السنة الدراسية / الفصل الدراسي	يذكر الأدوات ومسمياتها	معيار الأداء
		اسم المجموعة	وكرها	اسم الطالب/ة

أسئلة الاختبار	
	السؤال الأول
	ضع دائرة على المفك



نموذج اختبار

يُميز أنواع وأدوات الصيانة الأساسية واستخداماتها		مخرج التعلم	يظهر معرفة ومهارة في أعمال الصيانة العامة	اسم الوحدة
الفصل الثالث	2024	السنة الدراسية / الفصل الدراسي	يذكر الأدوات ومسمياتها	معيار الأداء
		اسم المجموعة	نورية كليب الدك	اسم الطالب/ة


أسئلة الاختبار

السؤال الأول		ضع دائرة على المفك
--------------	--	--------------------



نموذج اختبار				
يُميز أنواع وأدوات الصيانة الأساسية واستخداماتها		مخرج التعلم	يظهر معرفة ومهارة في أعمال الصيانة العامة	اسم الوحدة
الفصل الثالث	2024	السنة الدراسية / الفصل الدراسي	يذكر الأدوات ومسمياتها	معيار الأداء
		اسم المجموعة		اسم الطالب/ة


أسئلة الاختبار	
	السؤال الأول
ضع دائرة على المفك	



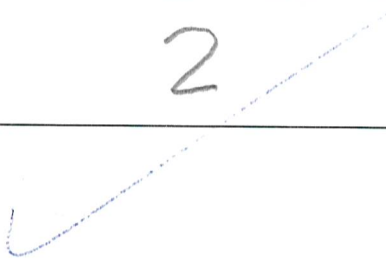


نموذج اختبار			
اسم الوحدة	يظهر معرفة ومهارة في أعمال الصيانة العامة	مخرج التعلم	يستخدم أدوات الصيانة الأساسية وفق الطرق الصحيحة واحتياجاتها
معياري الأداء	يميز بين أنواع المفكات (سالب - موجب)	السنة الدراسية / الفصل الدراسي	2024
اسم الطالب/ة	١٥	اسم المجموعة	٢

أسئلة الاختبار	
السؤال الاول	حدد نوع المفك المناسب لكل نوع من البراغي




		نوع البرغي
2	1	رقم المفك المناسب





نموذج اختبار			
اسم الوحدة	يظهر معرفة ومهارة في أعمال الصيانة العامة	مخرج التعلم	يستخدم أدوات الصيانة الأساسية وفق الطرق الصحيحة واحتياجاتها
معياري الأداء	يميز بين أنواع المفكات (سالب - موجب)	السنة الدراسية / الفصل الدراسي	2024
اسم الطالب/ة	نور الدين عبد الله	اسم المجموعة	الفصل الثالث



أسئلة الاختبار	
السؤال الاول	حدد نوع المفك المناسب لكل نوع من البراغي



		نوع البرغي
2	1	رقم المفك المناسب




نموذج اختبار				
يُميز أنواع وأدوات الصيانة الأساسية واستخداماتها		مخرج التعلم	يظهر معرفة ومهارة في أعمال الصيانة العامة	اسم الوحدة
الفصل الثالث	2024	السنة الدراسية / الفصل الدراسي	يُميز بين أنواع المطارق (حديدية - بلاستيكية)	معيان الأداء
2		اسم المجموعة	وحر	اسم الطالب/ة

أسئلة الاختبار	
السؤال الاول	ضع علامة (✓) على المطرقة الحديدية



الاختبار			
اسم الوحدة	يُظهر معرفة ومهارة في تصنيع المنتجات الخشبية	مخرج التعلم	• يظهر معرفة ومهارة في استخدام الأدوات والمعدات الأساسية اللازمة لتصنيع المنتجات الخشبية وأدوات نشر الخشب بمختلف أنواعها
معيار الأداء	يفترق بين طرق استخدام كل أداة تستخدم في النجارة	السنة الدراسية / الفصل الدراسي	2023
اسم الطالب/ة	آية	اسم المجموعة	الفصل الثالث


السؤال الأول	ضع دائرة على صورة (المطرقة) من بين عدة ادوات
--------------	--





نموذج اختبار				
يُميز أنواع وأدوات الصيانة الأساسية واستخداماتها		مخرج التعلم	يظهر معرفة ومهارة في أعمال الصيانة العامة	اسم الوحدة
الفصل الثالث	2024	السنة الدراسية / الفصل الدراسي	يُميز بين أنواع المطارق (حديدية - بلاستيكية)	معياري الأداء
		اسم المجموعة	نورية عبد الرحمن	اسم الطالب/ة

أسئلة الاختبار	
السؤال الاول	ضع علامة (✓) على المطرقة الحديدية




نموذج اختبار

يُظهر معرفة بأنواع أدوات القص الأساسية في الصيانة واستخداماتها		مخرج التعلم	يُظهر معرفة ومهارة في أعمال الصيانة العامة	اسم الوحدة
الفصل الثالث	2024	السنة الدراسية / الفصل الدراسي	يُميز بين أنواع القواطع (كتر قطع أكثر شدة)	معيار الأداء
		اسم المجموعة		اسم الطالب/ة

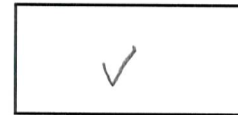
أسئلة الاختبار

السؤال الاول	ضع علامة (✓) على أداة الشد
--------------	----------------------------



نموذج اختبار			
يُظهر معرفة بأنواع أدوات القص الأساسية في الصيانة واستخداماتها	مخرج التعلم	يُظهر معرفة ومهارة في أعمال الصيانة العامة	اسم الوحدة
الفصل الثالث	2024	السنة الدراسية / الفصل الدراسي	معياري الأداء
		اسم المجموعة	اسم الطالب/ة

أسئلة الاختبار	
السؤال الاول	ضع علامة (✓) على أداة الشد



نموذج اختبار

يُظهر معرفة بأنواع أدوات القص الأساسية في الصيانة واستخداماتها		مخرج التعلم	يُظهر معرفة ومهارة في أعمال الصيانة العامة	اسم الوحدة
الفصل الثالث	2024	السنة الدراسية / الفصل الدراسي	يُميز بين أنواع القواطع (كتر قطع-كتر شد)	معيار الأداء
2/		اسم المجموعة	نورية عبد الحامد	اسم الطالب/ة

أسئلة الاختبار

السؤال الاول	ضع علامة (✓) على أداة الشد

