



نموذج اختبار 2 أدوات صنع الفخار

اسم الوحدة	يُظهر معرفة ومهارة في تصنيع المنتجات اليدوية	مخرج التعلم	• يستخدم الأدوات اللازمة لتصنيع وتشكيل المنتجات اليدوية من مادة الصلصال بطريقة صحيحة وأمنة
معيار الأداء	• يستخدم (إبرة الخزف) بطريقة صحيحة وأمنة • يستخدم السكاكين المختصة في صناعة الفخار بطريقة صحيحة وأمنة	السنة الدراسية / الفصل الدراسي	2024 الفصل الدراسي الثالث
اسم الطالب/ة	البر	اسم المجموعة	

الإختبار

السؤال الأول	صل صور أدوات صنع الفخار بما يناسبها :

صل صور الأدوات بما يناسبها:



السكاكين

إبرة الخزف

الفخار



70



نموذج اختبار 2 أدوات صنع الفخار


اسم الوحدة	يُظهر معرفة ومهارة في تصنيع المنتجات اليدوية	مخرج التعلم	• يستخدم الأدوات اللازمة لتصنيع وتشكيل المنتجات اليدوية من مادة الصلصال بطريقة صحيحة وأمنة
معيار الأداء	• يستخدم (إبرة الخزف) بطريقة صحيحة وأمنة • يستخدم السكاكين المختصة في صناعة الفخار بطريقة صحيحة وأمنة	السنة الدراسية / الفصل الدراسي	2024 الفصل الدراسي الثالث
اسم الطالب/ة	AHHA BA	اسم المجموعة	BRAZNAH

الإختبار

صل صور أدوات صنع الفخار بمايناسبها :

السؤال الأول

صل صور الأدوات بما يناسبها:



السكاكين

إبرة الخزف

الفخار

60
✓

✓

✓

✓

نموذج اختبار 2 أدوات صنع الفخار




اسم الوحدة	يُظهر معرفة ومهارة في تصنيع المنتجات اليدوية	مخرج التعلم	• يستخدم الأدوات اللازمة لتصنيع وتشكيل المنتجات اليدوية من مادة الصلصال بطريقة صحيحة وأمنة
معيار الأداء	• يستخدم (إبرة الخزف) بطريقة صحيحة وأمنة • يستخدم السكاكين المختصة في صناعة الفخار بطريقة صحيحة وأمنة	السنة الدراسية / الفصل الدراسي	2024 الفصل الدراسي الثالث
اسم الطالب/ة		اسم المجموعة	

الإختبار

السؤال الأول	صل صور أدوات صنع الفخار بما يناسبها :

صل صور الأدوات بما يناسبها:

100



السكاكين ✓

إبرة الخزف ✓

الفخار ✓


نموذج اختبار 2 أدوات صنع الفخار

اسم الوحدة	يُظهر معرفة ومهارة في تصنيع المنتجات اليدوية	مخرج التعلم	• يستخدم الأدوات اللازمة لتصنيع وتشكيل المنتجات اليدوية من مادة الصلصال بطريقة صحيحة وأمنة
معيار الأداء	• يستخدم (إبرة الخزف) بطريقة صحيحة وأمنة • يستخدم السكاكين المختصة في صناعة الفخار بطريقة صحيحة وأمنة	السنة الدراسية / الفصل الدراسي	2024 الفصل الدراسي الثالث
اسم الطالب/ة	علاء الدين عيسى	اسم المجموعة	

الإختبار

السؤال الأول	صل صور أدوات صنع الفخار بما يناسبها :
--------------	---------------------------------------

صل صور الأدوات بما يناسبها:



السكاكين



إبرة الخزف



الفخار

100%

