

### نموذج اختبار

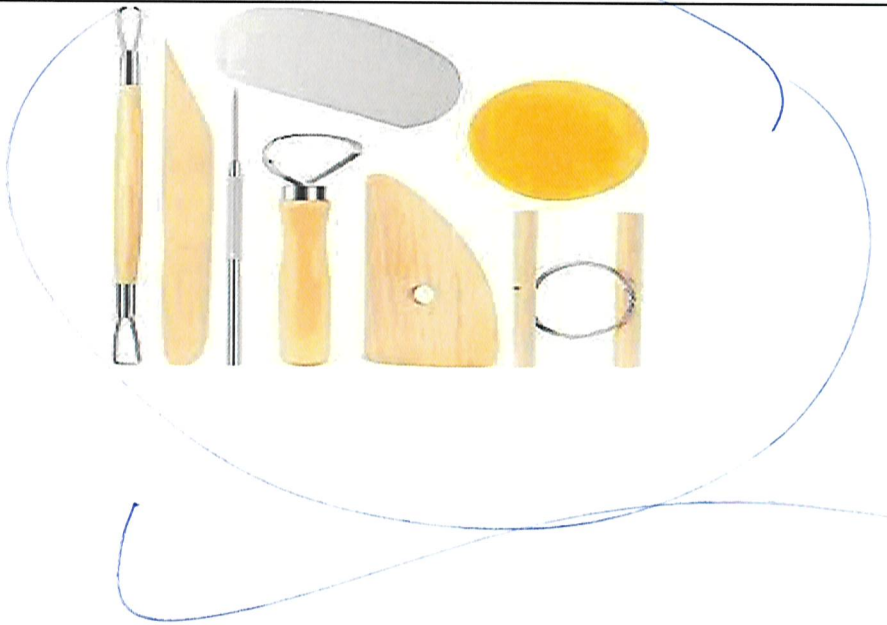
• يستخدم الأدوات اللازمة لتصنيع وتشكيل المنتجات اليدوية من مادة الصلصال بطريقة صحيحة وأمنة		مخرج التعلم	يظهر معرفة ومهارة في تصنيع المنتجات اليدوية	اسم الوحدة
الفصل الدراسي الثالث	2024	السنة الدراسية / الفصل الدراسي	يجهز المادة الصلصال ويقوم بتنظيفها من الجزئيات الغير مرغوب فيها	معيار الأداء
2		اسم المجموعة	21	اسم الطالب/ة

يجهز المادة الصلصال ويقوم بتنظيفها من الجزئيات الغير مرغوب فيها

### الإختبار

ضع دائرة على صورة الأدوات المستخدمة لتجهيز وتنظيف مادة الصلصال ؟

السؤال الأول



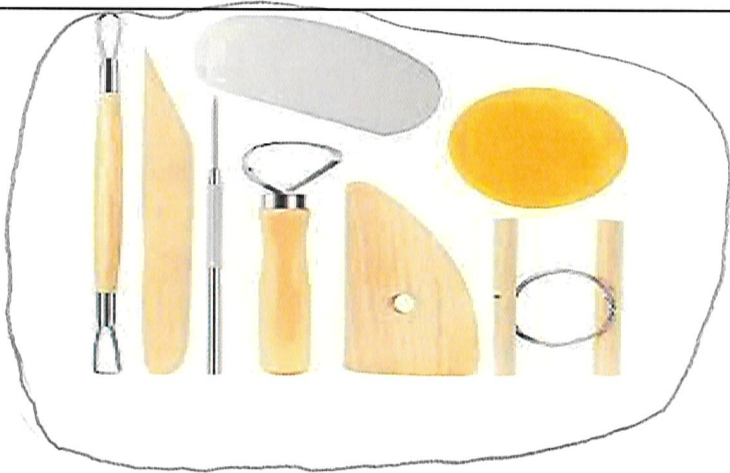
### نموذج اختبار

اسم الوحدة		يُظهر معرفة ومهارة في تصنيع المنتجات اليدوية	مخرج التعلم	• يستخدم الأدوات اللازمة لتصنيع وتشكيل المنتجات اليدوية من مادة الصلصال بطريقة صحيحة وأمنة
معيار الأداء	يجهز المادة الصلصال ويقوم بتنظيفها من الجزئيات الغير مرغوب فيها	السنة الدراسية / الفصل الدراسي	2024	الفصل الدراسي الثالث
اسم الطالبة/ة	نورية عبد الرحيم	اسم المجموعة		

يجهز المادة الصلصال ويقوم بتنظيفها من الجزئيات الغير مرغوب فيها

### الإختبار

السؤال الأول	ضع دائرة على صورة الأدوات المستخدمة لتجهيز وتنظيف مادة الصلصال ؟
--------------	------------------------------------------------------------------



### نموذج اختبار

• يستخدم الأدوات اللازمة لتصنيع وتشكيل المنتجات اليدوية من مادة الصلصال بطريقة صحيحة وأمنة		مخرج التعلم	يظهر معرفة ومهارة في تصنيع المنتجات اليدوية	اسم الوحدة
الفصل الدراسي الثالث	2024	السنة الدراسية / الفصل الدراسي	يجهز المادة الصلصال ويقوم بتنظيفها من الجزئيات الغير مرغوب فيها	معياري الأداء
		اسم المجموعة	وعر لها	اسم الطالب/ة

يجهز المادة الصلصال ويقوم بتنظيفها من الجزئيات الغير مرغوب فيها

### الإختبار

ضع دائرة على صورة الأدوات المستخدمة لتجهيز وتنظيف مادة الصلصال ؟	السؤال الأول
------------------------------------------------------------------	--------------






### نموذج اختبار

اسم الوحدة		يُظهر معرفة ومهارة في تصنيع المنتجات اليدوية	مخرج التعلم	• يستخدم الأدوات اللازمة لتصنيع وتشكيل المنتجات اليدوية من مادة الصلصال بطريقة صحيحة وأمنة
اسم الطالب/ة	١٥	• يستخدم السكاكين المختصة في صناعة الفخار بطريقة صحيحة وأمنة	اسم المجموعة	2024
معيار الأداء		• يستخدم (إبرة الخزف) بطريقة صحيحة وأمنة	السنة الدراسية / الفصل الدراسي	الفصل الدراسي الثالث

### الإختبار

السؤال الأول	صل صور أدوات صنع الفخار بما يناسبها :
--------------	---------------------------------------

صل صور الأدوات بما يناسبها :



السكاكين



إبرة الخزف




### نموذج اختبار

• يستخدم الأدوات اللازمة لتصنيع وتشكيل المنتجات اليدوية من مادة الصلصال بطريقة صحيحة وأمنة		مخرج التعلم	يُظهر معرفة ومهارة في تصنيع المنتجات اليدوية	اسم الوحدة
الفصل الدراسي الثالث	2024	السنة الدراسية / الفصل الدراسي	• يستخدم (إبرة الخزف) بطريقة صحيحة وأمنة  • يستخدم السكاكين المختصة في صناعة الفخار بطريقة صحيحة وأمنة	معياري الأداء
		اسم المجموعة	9 كمر لها	اسم الطالب/ة

### الإختبار

صل صور أدوات صنع الفخار بمايناسبها :	السؤال الأول
--------------------------------------	--------------

صل صور الأدوات بما يناسبها :



السكاكين

إبرة الخزف




### نموذج اختبار

اسم الوحدة		يُظهر معرفة ومهارة في تصنيع المنتجات اليدوية	مخرج التعلم	• يستخدم الأدوات اللازمة لتصنيع وتشكيل المنتجات اليدوية من مادة الصلصال بطريقة صحيحة وأمنة
معيار الأداء	• يستخدم (إبرة الخزف) بطريقة صحيحة وأمنة	السنة الدراسية / الفصل الدراسي	2024	الفصل الدراسي الثالث
اسم الطالب/ة	نورية كعيد الحليل	اسم المجموعة		

### الإختبار

السؤال الأول	صل صور أدوات صنع الفخار بما يناسبها :
--------------	---------------------------------------

صل صور الأدوات بما يناسبها :



السكاكين



إبرة الخزف





### نموذج الإختبار

اسم الوحدة		يُظهر معرفة ومهارة في تصنيع المنتجات اليدوية	مخرج التعلم	• يستخدم الأدوات اللازمة لتصنيع وتشكيل المنتجات اليدوية من مادة الصلصال بطريقة صحيحة وأمنة
اسم الطالب/ة	ومرارة	• يستخدم أدوات الكشط في صناعة الفخار بطريقة صحيحة وأمنة • يستخدم القطع المصنوعة يدويا بعناية من خلال استخدام الحلقات والشرائط المخصصة للعمل	السنة الدراسية / الفصل الدراسي	2024 الفصل الثالث
اسم المجموعة				

### الإختبار

السؤال الأول	ضع دائرة على صورة استخدام أداة الكشط لتصنيع الفخار مع التطبيق العملي للاستخدام :




سما

### نموذج الإختبار

اسم الوحدة		يُظهر معرفة ومهارة في تصنيع المنتجات اليدوية	مخرج التعلم	• يستخدم الأدوات اللازمة لتصنيع وتشكيل المنتجات اليدوية من مادة الصلصال بطريقة صحيحة وأمنة
اسم الطالب/ة	نورانية كعيد الوحيات	اسم المجموعة	السنة الدراسية / الفصل الدراسي	2024 الفصل الثالث
معيان الأداء	• يستخدم أدوات الكشط في صناعة الفخار بطريقة صحيحة وأمنة • يستخدم القطع المصنوعة يدويا بعناية من خلال استخدام الحلقات والشرائط المخصصة للعمل			

### الإختبار

السؤال الأول	ضع دائرة على صورة استخدام أداة الكشط لتصنيع الفخار مع التطبيق العملي للاستخدام :
--------------	----------------------------------------------------------------------------------





### نموذج الإختبار

اسم الوحدة		مخرج التعلم	يُظهر معرفة ومهارة في تصنيع المنتجات اليدوية	اسم الطالب/ة
اسم الوحدة	2024	السنة الدراسية / الفصل الدراسي	<ul style="list-style-type: none"><li>• يستخدم أدوات الكشط في صناعة الفخار بطريقة صحيحة وأمنة</li><li>• يستخدم القطع المصنوعة يدويا بعناية من خلال استخدام الحلقات والشرائط المخصصة للعمل</li></ul>	اسم الطالب/ة
اسم الوحدة	2	اسم المجموعة	1	اسم الطالب/ة

### الإختبار

السؤال الأول	ضع دائرة على صورة استخدام أداة الكشط لتصنيع الفخار مع التطبيق العملي للاستخدام :



✓