


نموذج الاختبار 3 أدوات تصنيع الفخار

| اسم الوحدة | يُظهر معرفة ومهارة في تصنيع المنتجات اليدوية | مخرج التعلم | • يستخدم الأدوات اللازمة لتصنيع وتشكيل المنتجات اليدوية من مادة الصلصال بطريقة صحيحة وأمنة |
|--------------|--|-----------------------------------|--|
| اسم الطالب/ة | اسم المجموعة | السنة الدراسية / الفصل الدراسي | 2024 الفصل الثالث |
| | | | |

الإختبار

| السؤال الأول | ضع دائرة على صورة استخدام أداة الكشط لتصنيع الفخار مع التطبيق العملي للاستخدام : |
|--------------|--|
|--------------|--|




✓
10

نموذج الاختبار 3 أدوات تصنيع الفخار

| | | | |
|--------------|--|-----------------------------------|--|
| اسم الوحدة | يُظهر معرفة ومهارة في تصنيع المنتجات اليدوية | مخرج التعلم | • يستخدم الأدوات اللازمة لتصنيع وتشكيل المنتجات اليدوية من مادة الصلصال بطريقة صحيحة وأمنة |
| معيار الأداء | • يستخدم أدوات الكشط في صناعة الفخار بطريقة صحيحة وأمنة • يستخدم القطع المصنوعة يدويا بعناية من خلال استخدام الحلقات والشرائط المخصصة للعمل | السنة الدراسية / الفصل الدراسي | 2024 الفصل الثالث |
| اسم الطالب/ة | A H A H A | اسم المجموعة | B H A H A H A |

الإختبار

| | |
|--------------|--|
| السؤال الأول | ضع دائرة على صورة استخدام أداة الكشط لتصنيع الفخار مع التطبيق العملي للاستخدام : |
|--------------|--|




70

نموذج الاختبار 3 أدوات تصنيع الفخار

| اسم الوحدة | يُظهر معرفة ومهارة في تصنيع المنتجات اليدوية | مخرج التعلم | • يستخدم الأدوات اللازمة لتصنيع وتشكيل المنتجات اليدوية من مادة الصلصال بطريقة صحيحة وأمانة |
|--------------|--|-----------------------------------|---|
| اسم الطالب/ة | اسم المجموعة | السنة الدراسية / الفصل الدراسي | 2024 الفصل الثالث |
| | | | |

الإختبار

| السؤال الأول | ضع دائرة على صورة استخدام أداة الكشط لتصنيع الفخار مع التطبيق العملي للاستخدام : |
|--------------|--|
| | |



✓
90
[Handwritten signature]

