

الإختبار 5

طرق تشكيل مجسم مادة الصلصال

اسم الوحدة	يُظهر معرفة ومهارة في تصنيع المنتجات اليدوية	مخرج التعلم	• يستخدم الأدوات اللازمة لتصنيع وتشكيل المنتجات اليدوية من مادة الصلصال بطريقة صحيحة وأمنة
معيان الأداء	<ul style="list-style-type: none"> يشكل المجسم بمادة الصلصال باليد عن طريق الضغط للوصول للنموذج المراد أو بتحريك الكفين حول المادة بعد وضعها على الآلة الدورانية للوصول للشكل المناسب يزيل المجسم المُتشكّل بعد الحصول على الشكل المرغوب به بأداة مخصصة لذلك 	السنة الدراسية / الفصل الدراسي	2024 الفصل الثالث
اسم الطالب/ة	البراء	اسم المجموعة	

عياض

الاختبار

السؤال الأول	رتب خطوات عمل منتج من مادة الصلصال (الفخار) من خلال صور البطاقات ترتيباً صحيحاً

1




2



3



4







الإختبار 5

طرق تشكيل مجسم مادة الصلصال

اسم الوحدة	يُظهر معرفة ومهارة في تصنيع المنتجات اليدوية	مخرج التعلم	• يستخدم الأدوات اللازمة لتصنيع وتشكيل المنتجات اليدوية من مادة الصلصال بطريقة صحيحة وأمنة
اسم الطالب/ة	ARAR	اسم المجموعة	BNABMBD
معيار الأداء	<ul style="list-style-type: none"> يشكل المجسم بمادة الصلصال باليد عن طريق الضغط للوصول للنموذج المراد أو بتحريك الكفين حول المادة بعد وضعها على الآلة الدورانية للوصول للشكل المناسب يزيل المجسم المُتشكّل بعد الحصول على الشكل المرغوب به بأداة مخصصة لذلك 	السنة الدراسية / الفصل الدراسي	2024 الفصل الثالث

الاختبار


السؤال الأول	رتب خطوات عمل منتج من مادة الصلصال (الفخار) من خلال صور البطاقات ترتيباً صحيحاً
1	
2	
3	
4	

1 ✓

2 ✓

3 ✗

4 ✗



3 ✗

4 ✗

4 ✗

الإختبار 5

طرق تشكيل مجسم مادة الصلصال

اسم الوحدة	يُظهر معرفة ومهارة في تصنيع المنتجات اليدوية	مخرج التعلم	• يستخدم الأدوات اللازمة لتصنيع وتشكيل المنتجات اليدوية من مادة الصلصال بطريقة صحيحة وأمنة
اسم الطالب/ة	معايير الأداء	السنة الدراسية / الفصل الدراسي	2024 الفصل الثالث
اسم المجموعة	<ul style="list-style-type: none"> يشكل المجسم بمادة الصلصال باليد عن طريق الضغط للوصول للنموذج المراد أو بتحريك الكفين حول المادة بعد وضعها على الآلة الدورانية للوصول للشكل المناسب يزيل المجسم المُتشكّل بعد الحصول على الشكل المرغوب به بأداة مخصصة لذلك 		

الاختبار

السؤال الأول	رتب خطوات عمل منتج من مادة الصلصال (الفخار) من خلال صور البطاقات ترتيباً صحيحاً

60

1 ✓

2 ✗

3 ✗

4 ✓



الإختبار 5

طرق تشكيل مجسم مادة الصلصال

اسم الوحدة	يُظهر معرفة ومهارة في تصنيع المنتجات اليدوية	مخرج التعلم	• يستخدم الأدوات اللازمة لتصنيع وتشكيل المنتجات اليدوية من مادة الصلصال بطريقة صحيحة وأمنة
اسم الطالب/ة	• يشكّل المجسم بمادة الصلصال باليد عن طريق الضغط للوصول للنموذج المراد أو بتحريك الكفين حول المادة بعد وضعها على الآلة الدورانية للوصول للشكل المناسب • يزيل المجسم المُتشكّل بعد الحصول على الشكل المرغوب به بأداة مخصصة لذلك	السنة الدراسية / الفصل الدراسي	2024 الفصل الثالث
اسم المجموعة	اسم المجموعة		

الاختبار

السؤال الأول	رتب خطوات عمل منتج من مادة الصلصال (الفخار) من خلال صور البطاقات ترتيباً صحيحاً

1 ✓

✓ 100



2 ✓



3 ✓



4 ✓

