



الإختبار

اسم الوحدة		مخرج التعلم	يظهر معرفة ومهارة في تصنيع المنتجات اليدوية	اسم الطالب/ة
<ul style="list-style-type: none"> • يستخدم الأدوات اللازمة لتصنيع وتشكيل المنتجات اليدوية من مادة الصلصال بطريقة صحيحة وأمنة 		السنة الدراسية / الفصل الدراسي	<ul style="list-style-type: none"> • يشكل المجسم بمادة الصلصال باليد عن طريق الضغط للوصول للنموذج المراد أو بتحريك الكفين حول المادة بعد وضعها على الآلة الدورانية للوصول للشكل المناسب • يزيل المجسم المتشكّل بعد الحصول على الشكل المرغوب به بأداة مخصصة لذلك 	هبت الجبر
2024	الفصل الثالث	اسم المجموعة	1	

الاختبار


السؤال الأول	رتب خطوات عمل منتج من مادة الصلصال (الفخار) من خلال صور البطاقات ترتيباً صحيحاً

1 _____

2 _____

3 _____ ✓

4 _____





الإختبار

اسم الوحدة		يظهر معرفة ومهارة في تصنيع المنتجات اليدوية	مخرج التعلم	• يستخدم الأدوات اللازمة لتصنيع وتشكيل المنتجات اليدوية من مادة الصلصال بطريقة صحيحة وأمنة
اسم الطالب/ة	سعيد اسعد	اسم المجموعة	السنة الدراسية / الفصل الدراسي	2024 الفصل الثالث
معيار الأداء	<ul style="list-style-type: none"> يشكل المجسم بمادة الصلصال باليد عن طريق الضغط للوصول للنموذج المراد أو بتحريك الكفين حول المادة بعد وضعها على الالة الدورانية للوصول للشكل المناسب يزيل المجسم المُتشكّل بعد الحصول على الشكل المرغوب به بأداة مخصصة لذلك 			

الاختبار

السؤال الأول	رتب خطوات عمل منتج من مادة الصلصال (الفخار) من خلال صور البطاقات ترتيباً صحيحاً

1




2



3



4



X



الإختبار

اسم الوحدة		يظهر معرفة ومهارة في تصنيع المنتجات اليدوية	مخرج التعلم	• يستخدم الأدوات اللازمة لتصنيع وتشكيل المنتجات اليدوية من مادة الصلصال بطريقة صحيحة وأمنة
اسم الطالب/ة	معيار الأداء	<ul style="list-style-type: none"> يشكل المجسم بمادة الصلصال باليد عن طريق الضغط للوصول للنموذج المراد أو بتحريك الكفين حول المادة بعد وضعها على الآلة الدورانية للوصول للشكل المناسب يزيل المجسم المُتشكّل بعد الحصول على الشكل المرغوب به بأداة مخصصة لذلك 	السنة الدراسية / الفصل الدراسي	الفصل الثالث
اسم المجموعة	اسم الطالب/ة	ساعة ١٥ دقائق	١	2024

الاختبار

السؤال الأول	رتب خطوات عمل منتج من مادة الصلصال (الفخار) من خلال صور البطاقات ترتيباً صحيحاً

1




2



3



4



الإختبار

اسم الوحدة		يظهر معرفة ومهارة في تصنيع المنتجات اليدوية	مخرج التعلم	• يستخدم الأدوات اللازمة لتصنيع وتشكيل المنتجات اليدوية من مادة الصلصال بطريقة صحيحة وأمنة
اسم الطالب/ة	عبدان التمر	<ul style="list-style-type: none"> يشكل المجسم بمادة الصلصال باليد عن طريق الضغط للوصول للنموذج المراد أو بتحريك الكفين حول المادة بعد وضعها على الآلة الدورانية للوصول للشكل المناسب يزيل المجسم المتشكّل بعد الحصول على الشكل المرغوب به بأداة مخصصة لذلك 	السنة الدراسية / الفصل الدراسي	الفصل الثالث
اسم المجموعة			2024	
			1	

الاختبار

السؤال الأول	رتب خطوات عمل منتج من مادة الصلصال (الفخار) من خلال صور البطاقات ترتيباً صحيحاً

1




2



3



4



✓



الإختبار

اسم الوحدة		يظهر معرفة ومهارة في تصنيع المنتجات اليدوية	مخرج التعلم	• يستخدم الأدوات اللازمة لتصنيع وتشكيل المنتجات اليدوية من مادة الصلصال بطريقة صحيحة وأمنة
اسم الطالب/ة	تاسمير طه محمود	اسم المجموعة	1	2024 الفصل الثالث
معيار الأداء	<ul style="list-style-type: none"> يشكل المجسم بمادة الصلصال باليد عن طريق الضغط للوصول للنموذج المراد أو بتحريك الكفين حول المادة بعد وضعها على الآلة النورانية للوصول للشكل المناسب يزيل المجسم المتشكّل بعد الحصول على الشكل المرغوب به بأداة مخصصة لذلك 	السنة الدراسية / الفصل الدراسي		

الاختبار

السؤال الأول	رتب خطوات عمل منتج من مادة الصلصال (الفخار) من خلال صور البطاقات ترتيباً صحيحاً

1



2



3



4

