




نموذج اختبار			
اسم الوحدة		يظهر معرفة ومهارة في أعمال الصيانة العامة	مخرج التعلم
اسم الطالب/ة		لعانة	اسم المجموعة
معيار الأداء	يسمي ويميز أنواع القواطع والمطارق وما هو استخدام كل أداة	السنة الدراسية / الفصل الدراسي	2024
اسم الوحدة	يسمي ويميز أنواع القواطع والمطارق وما هو استخدام كل أداة	الفصل الثالث	

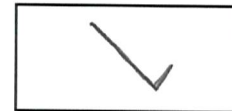

أسئلة الاختبار	
السؤال الاول	ضع علامة (✓) على آلة المقص الكهربائي (المنشار الكهربائي)





نموذج اختبار			
اسم الوحدة	يظهر معرفة ومهارة في أعمال الصيانة العامة	مخرج التعلم	يسمي ويميز أنواع القواطع والمطارق وما هو استخدام كل أداة
معياري الأداء	يسمي ويميز أنواع القواطع والمطارق وما هو استخدام كل أداة	السنة الدراسية / الفصل الدراسي	2024
اسم الطالب/ة	آية	اسم المجموعة	الفصل الثالث


أسئلة الاختبار	
السؤال الاول	ضع علامة (✓) على آلة المقص الكهربائي (المنشار الكهربائي)





نموذج اختبار			
اسم الوحدة	يظهر معرفة ومهارة في أعمال الصيانة العامة	مخرج التعلم	يسمي ويميز أنواع القواطع والمطارق وما هو استخدام كل أداة
معيار الأداء	يسمي ويميز أنواع القواطع والمطارق وما هو استخدام كل أداة	السنة الدراسية / الفصل الدراسي	2024
اسم الطالب/ة		اسم المجموعة	الفصل الثالث

أسئلة الاختبار	
السؤال الاول	ضع علامة (✓) على آلة المقص الكهربائي (المنشار الكهربائي)





نموذج اختبار

اسم الوحدة		يظهر معرفة ومهارة في أعمال الصيانة العامة	مخرج التعلم	يسمي ويميز أنواع القواطع والمطارق وما هو استخدام كل أداة
اسم الطالب/ة	نورية كليل	السنة الدراسية / الفصل الدراسي	2024	الفصل الثالث
معياري الأداء	يسمي ويميز أنواع القواطع والمطارق وما هو استخدام كل أداة			

أسئلة الاختبار

السؤال الاول	ضع علامة (✓) على آلة المقص الكهربائي (المنشار الكهربائي)
--------------	--





نموذج اختبار			
اسم الوحدة	يظهر معرفة ومهارة في أعمال الصيانة العامة	مخرج التعلم	يسمي ويميز أنواع القواطع والمطارق وما هو استخدام كل أداة
معيار الأداء	يسمي ويميز أنواع القواطع والمطارق وما هو استخدام كل أداة	السنة الدراسية / الفصل الدراسي	2024
اسم الطالب/ة	وكراما	اسم المجموعة	الفصل الثالث

أسئلة الاختبار	
السؤال الاول	ضع علامة (✓) على آلة المقص الكهربائي (المنشار الكهربائي)

