



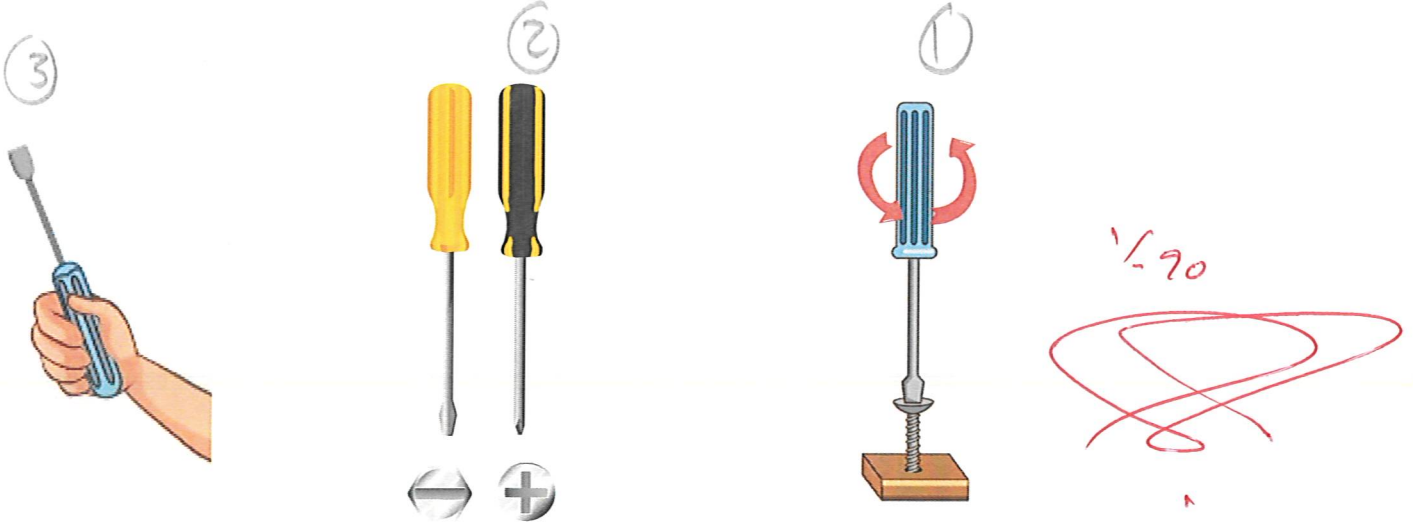
نموذج اختبار 8

التحكم بحركة اليد عند استخدام المفك

يستخدم أدوات الصيانة الأساسية وفق الطرق الصحيحة واحتياجاتها		مخرج التعلم	يظهر معرفة ومهارة في أعمال الصيانة العامة	اسم الوحدة
الفصل الثالث	2024	السنة الدراسية / الفصل الدراسي	يتحكم في حركة اليد عند استخدام المفك	معيار الأداء
		اسم المجموعة		اسم الطالب/ة

أسئلة الاختبار

السؤال الاول	رتب الصور حسب الترتيب الصحيح لخطوات استخدام مفك البراغي:
--------------	--



وصف الخطوة	لف مفك البراغي من اليمين إلى اليسار (حسب اتجاه البرغي)	تحديد نوع المفك المناسب للبراغي المراد استخدامها	مسك المقبض باليد اليمنى بالطريقة الصحيحة
رقم الخطوة	3	3	3





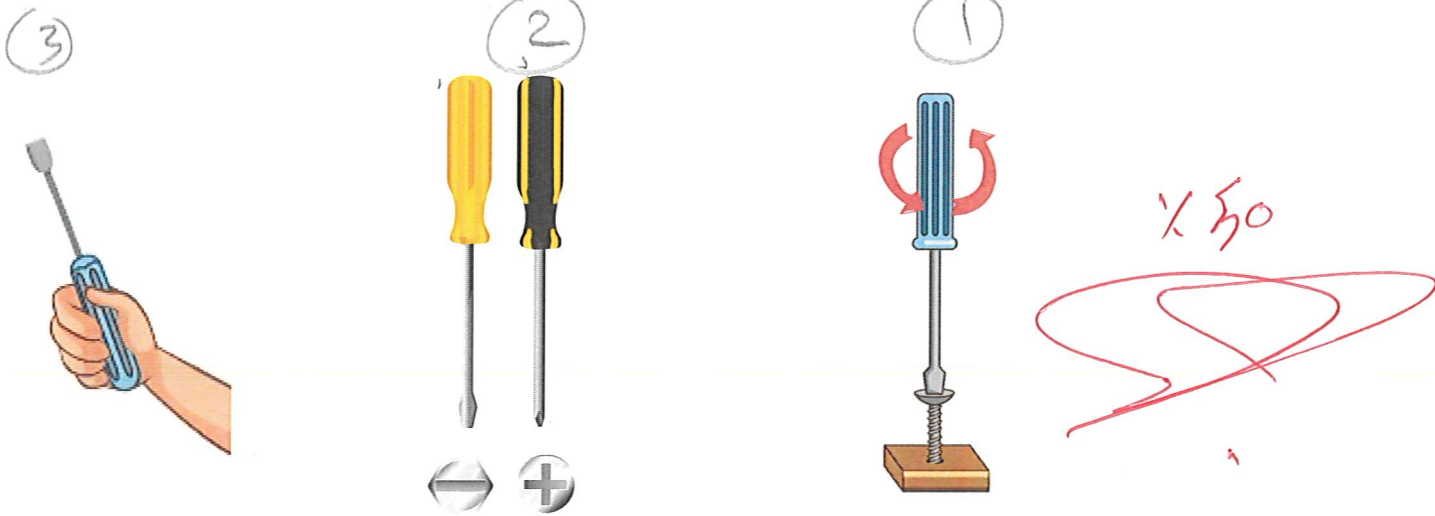
نموذج اختبار 8

التحكم بحركة اليد عند استخدام المفك


اسم الوحدة	يظهر معرفة ومهارة في أعمال الصيانة العامة	مخرج التعلم	يستخدم أدوات الصيانة الأساسية وفق الطرق الصحيحة واحتياجاتها
معيار الأداء	يتحكم في حركة اليد عند استخدام المفك	السنة الدراسية / الفصل الدراسي	2024
اسم الطالب/ة	AH (B)	اسم المجموعة	AH B H O B

أسئلة الاختبار

السؤال الاول	رتب الصور حسب الترتيب الصحيح لخطوات استخدام مفك البراغي:
--------------	--



وصف الخطوة	لف مفك البراغي من اليمين إلى اليسار (حسب اتجاه البرغي)	تحديد نوع المفك المناسب للبراغي المراد استخدامها	مسك المقبض باليد اليمنى بالطريقة الصحيحة
رقم الخطوة			






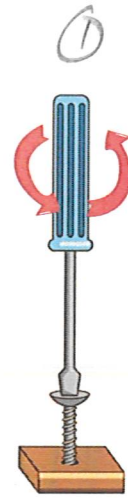

نموذج اختبار 8

التحكم بحركة اليد عند استخدام المفك

يستخدم أدوات الصيانة الأساسية وفق الطرق الصحيحة واحتياجاتها		مخرج التعلم	يظهر معرفة ومهارة في أعمال الصيانة العامة	اسم الوحدة
الفصل الثالث	2024	السنة الدراسية / الفصل الدراسي	يتحكم في حركة اليد عند استخدام المفك	معياري الأداء
		اسم المجموعة		اسم الطالب/ة

أسئلة الاختبار

السؤال الاول	رتب الصور حسب الترتيب الصحيح لخطوات استخدام مفك البراغي:
--------------	--



وصف الخطوة	لف مفك البراغي من اليمين إلى اليسار (حسب اتجاه البرغي)	تحديد نوع المفك المناسب للبراغي المراد استخدامها	مسك المقبض باليد اليمنى بالطريقة الصحيحة
رقم الخطوة			

✓

✓

✓



