





نموذج اختبار

اسم الوحدة	يظهر معرفة ومهارة في أعمال الصيانة العامة	مخرج التعلم	يستخدم أدوات الصيانة الأساسية وفق الطرق الصحيحة واحتياجاتها
معيار الأداء	يستخدم المطرقة بطريقة آمنة وصحيحة	السنة الدراسية / الفصل الدراسي	2024 الفصل الثالث
اسم الطالب/ة	أحمد محمد	اسم المجموعة	1

أسئلة الاختبار

السؤال الاول	رتب الصور حسب الترتيب الصحيح للطريقة الآمنة لاستخدام المطرقة:
--------------	---

	4		3
الطرق بذراعك بالكامل وتجنب الضغط المفرط على كتفك أو معصمك.		تحديد وتثبيت الهدف المراد طرقه	
	1		2
لبس قفازات لحماية اليدين من الضربات		مسك المقبض باليد اليمنى بالطريقة الصحيحة	

نموذج اختبار

اسم الوحدة	يظهر معرفة ومهارة في أعمال الصيانة العامة	مخرج التعلم	يستخدم أدوات الصيانة الأساسية وفق الطرق الصحيحة واحتياجاتها
معيار الأداء	يستخدم المطرقة بطريقة آمنة وصحيحة	السنة الدراسية / الفصل الدراسي	2024 الفصل الثالث
اسم الطالب/ة	كثير	اسم المجموعة	ل

أسئلة الاختبار

السؤال الاول	رتب الصور حسب الترتيب الصحيح للطريقة الآمنة لاستخدام المطرقة:
--------------	---

	9		3
الطرق بذراعك بالكامل وتجنب الضغط المفرط على كتفك أو معصمك.		تحديد وتثبيت الهدف المراد طرقه	
	1		2
لبس قفازات لحماية اليدين من الضربات		مسك المقبض باليد اليمنى بالطريقة الصحيحة	

نموذج اختبار

اسم الوحدة	يظهر معرفة ومهارة في أعمال الصيانة العامة	مخرج التعلم	يستخدم أدوات الصيانة الأساسية وفق الطرق الصحيحة واحتياجاتها
معيار الأداء	يستخدم المطرقة بطريقة آمنة وصحيحة	السنة الدراسية / الفصل الدراسي	2024 الفصل الثالث
اسم الطالب/ة	سور	اسم المجموعة	

أسئلة الاختبار

السؤال الاول	رتب الصور حسب الترتيب الصحيح للطريقة الآمنة لاستخدام المطرقة:
--------------	---





الطرق بذراعك بالكامل وتجنب الضغط المفرط على كتفك أو معصمك.	4	تحديد وتثبيت الهدف المراد طرقه	3
لبس قفازات لحماية اليدين من الضربات	1	مسك المقبض باليد اليمنى بالطريقة الصحيحة	2

نموذج اختبار

اسم الوحدة	يظهر معرفة ومهارة في أعمال الصيانة العامة	مخرج التعلم	يستخدم أدوات الصيانة الأساسية وفق الطرق الصحيحة واحتياجاتها
معيار الأداء	يستخدم المطرقة بطريقة آمنة وصحيحة	السنة الدراسية / الفصل الدراسي	2024 الفصل الثالث
اسم الطالب/ة	المشيم	اسم المجموعة	

أسئلة الاختبار

السؤال الاول	رتب الصور حسب الترتيب الصحيح للطريقة الآمنة لاستخدام المطرقة:
--------------	---

	4		3
الطرق بذراعك بالكامل وتجنب الضغط المفرط على كتفك أو معصمك.		تحديد وتثبيت الهدف المراد طرقه	
	1		2
لبس قفازات لحماية اليدين من الضربات		مسك المقبض باليد اليمنى بالطريقة الصحيحة	