

<https://youtu.be/LgKivhcTy9w>

نموذج اختبار

اسم الوحدة	يظهر معرفة ومهارة في أعمال الصيانة العامة	مخرج التعلم	يستخدم أدوات الصيانة الأساسية وفق الطرق الصحيحة واحتياجاتها
معيار الأداء	يتحكم في حركة اليد عند استخدام المفك	السنة الدراسية / الفصل الدراسي	2024
اسم الطالب/ة	هنا	اسم المجموعة	2

أسئلة الاختبار

السؤال الاول	رتب الصور حسب الترتيب الصحيح لخطوات استخدام مفك البراغي:
--------------	--



وصف الخطوة	لف مفك البراغي من اليمين إلى اليسار (حسب اتجاه البرغي)	تحديد نوع المفك المناسب للبراغي المراد استخدامها	مسك المقبض باليد اليمنى بالطريقة الصحيحة
رقم الخطوة	3	2	1




<https://youtu.be/LgKivhcTy9w>

نموذج اختبار

اسم الوحدة	يظهر معرفة ومهارة في أعمال الصيانة العامة	مخرج التعلم	يستخدم أدوات الصيانة الأساسية وفق الطرق الصحيحة واحتياجاتها
معياري الأداء	يتحكم في حركة اليد عند استخدام المفك	السنة الدراسية / الفصل الدراسي	2024
اسم الطالب/ة	نورية	اسم المجموعة	الفصل الثالث

أسئلة الاختبار

السؤال الاول	رتب الصور حسب الترتيب الصحيح لخطوات استخدام مفك البراغي:
--------------	--



وصف الخطوة	لف مفك البراغي من اليمين إلى اليسار (حسب اتجاه البرغي)	تحديد نوع المفك المناسب للبراغي المراد استخدامها	مسك المقبض باليد اليمنى بالطريقة الصحيحة
رقم الخطوة	3	2	1

<https://youtu.be/LgKivhcTy9w>

نموذج اختبار

اسم الوحدة	يظهر معرفة ومهارة في أعمال الصيانة العامة	مخرج التعلم	يستخدم أدوات الصيانة الأساسية وفق الطرق الصحيحة واحتياجاتها
معياري الأداء	يتحكم في حركة اليد عند استخدام المفك	السنة الدراسية / الفصل الدراسي	2024
اسم الطالب/ة	٩١	اسم المجموعة	2

أسئلة الاختبار

السؤال الاول	رتب الصور حسب الترتيب الصحيح لخطوات استخدام مفك البراغي:
--------------	--



وصف الخطوة	لف مفك البراغي من اليمين إلى اليسار (حسب اتجاه البرغي)	تحديد نوع المفك المناسب للبراغي المراد استخدامها	مسك المقبض باليد اليمنى بالطريقة الصحيحة
رقم الخطوة	١	2	١

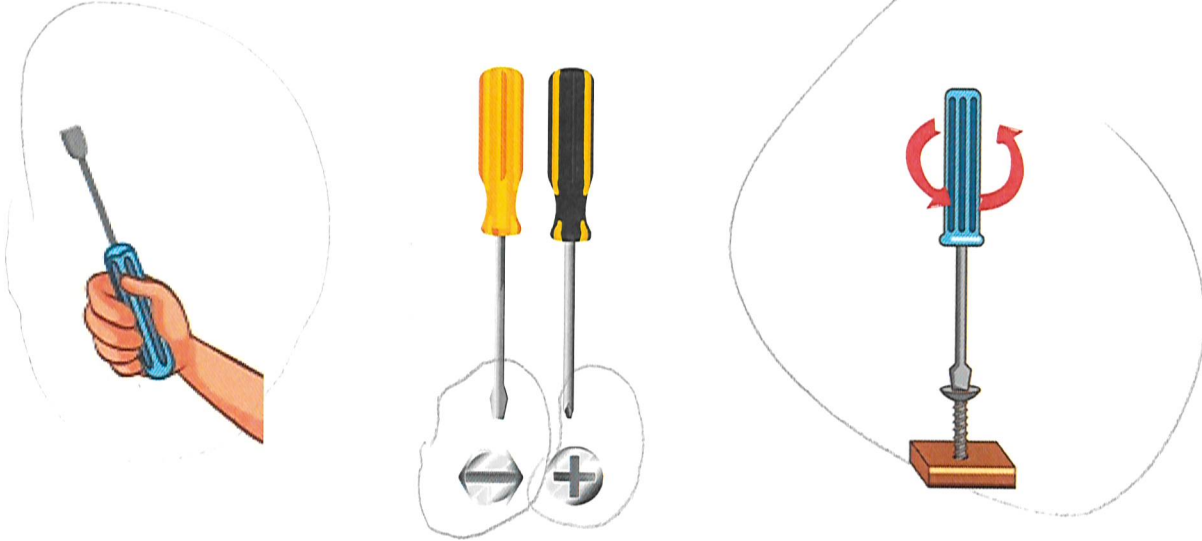
<https://youtu.be/LgKivhcTy9w>

نموذج اختبار

اسم الوحدة	يظهر معرفة ومهارة في أعمال الصيانة العامة	مخرج التعلم	يستخدم أدوات الصيانة الأساسية وفق الطرق الصحيحة واحتياجاتها
معيان الأداء	يتحكم في حركة اليد عند استخدام المفك	السنة الدراسية / الفصل الدراسي	2024
اسم الطالب/ة	طاهر	اسم المجموعة	الفصل الثالث

أسئلة الاختبار

السؤال الاول	رتب الصور حسب الترتيب الصحيح لخطوات استخدام مفك البراغي:
--------------	--



وصف الخطوة	لف مفك البراغي من اليمين إلى اليسار (حسب اتجاه البرغي)	تحديد نوع المفك المناسب للبراغي المراد استخدامها	مسك المقبض باليد اليمنى بالطريقة الصحيحة
رقم الخطوة	3	2	1


<https://youtu.be/LgKivhcTy9w>

نموذج اختبار

اسم الوحدة	يظهر معرفة ومهارة في أعمال الصيانة العامة	مخرج التعلم	يستخدم أدوات الصيانة الأساسية وفق الطرق الصحيحة واحتياجاتها
معياري الأداء	يتحكم في حركة اليد عند استخدام المفك	السنة الدراسية / الفصل الدراسي	2024 الفصل الثالث
اسم الطالب/ة	وعمر	اسم المجموعة	

أسئلة الاختبار

السؤال الاول	رتب الصور حسب الترتيب الصحيح لخطوات استخدام مفك البراغي:
--------------	--







وصف الخطوة	لف مفك البراغي من اليمين إلى اليسار (حسب اتجاه البرغي)	تحديد نوع المفك المناسب للبراغي المراد استخدامها	مسك المقبض باليد اليمنى بالطريقة الصحيحة
رقم الخطوة	3	2	1



نموذج اختبار			
اسم الوحدة	يظهر معرفة ومهارة في أعمال الصيانة العامة	مخرج التعلم	يستخدم أدوات الصيانة الأساسية وفق الطرق الصحيحة واحتياجاتها
معيار الأداء	يستخدم المطرقة بطريقة آمنة وصحيحة	السنة الدراسية / الفصل الدراسي	2024 الفصل الثالث
اسم الطالب/ة	٢٥	اسم المجموعة	٢

أسئلة الاختبار	
السؤال الاول	رتب الصور حسب الترتيب الصحيح للطريقة الآمنة لاستخدام المطرقة:

	2		3
الطرق بذراعك بالكامل وتجنب الضغط المفرط على كتفك أو معصمك.		تحديد وتثبيت الهدف المراد طرقة	
	1		4
لبس قفازات لحماية اليدين من الضربات		مسك المقبض باليد اليمنى بالطريقة الصحيحة	





✓ ✗









نموذج اختبار			
اسم الوحدة	يظهر معرفة ومهارة في أعمال الصيانة العامة	مخرج التعلم	يستخدم أدوات الصيانة الأساسية وفق الطرق الصحيحة واحتياجاتها
معيار الأداء	يستخدم المطرقة بطريقة آمنة وصحيحة	السنة الدراسية / الفصل الدراسي	2024 الفصل الثالث
اسم الطالب/ة	لوريه	اسم المجموعة	2

أسئلة الاختبار	
السؤال الاول	رتب الصور حسب الترتيب الصحيح للطريقة الآمنة لاستخدام المطرقة:

			
الطرق بذراعك بالكامل وتجنب الضغط المفرط على كتفك أو معصمك.	4	تحديد وتثبيت الهدف المراد طرقة	3
			
لبس قفازات لحماية اليدين من الضربات		مسك المقبض باليد اليمنى بالطريقة الصحيحة	2

نموذج اختبار			
اسم الوحدة	يظهر معرفة ومهارة في أعمال الصيانة العامة	مخرج التعلم	يستخدم أدوات الصيانة الأساسية وفق الطرق الصحيحة واحتياجاتها
معياري الأداء	يستخدم المطرقة بطريقة آمنة وصحيحة	السنة الدراسية / الفصل الدراسي	2024 الفصل الثالث
اسم الطالب/ة	د.ع	اسم المجموعة	

أسئلة الاختبار	
السؤال الاول	رتب الصور حسب الترتيب الصحيح للطريقة الآمنة لاستخدام المطرقة:

	
الطرق بذراعك بالكامل وتجنب الضغط المفرط على كتفك أو معصمك.	تحديد وتثبيت الهدف المراد طرقه
	
لبس قفازات لحماية اليدين من الضربات	مسك المقبض باليد اليمنى بالطريقة الصحيحة


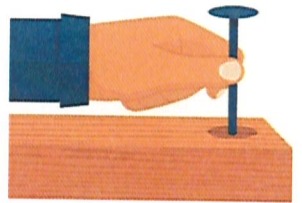


X

X



نموذج اختبار			
اسم الوحدة	يظهر معرفة ومهارة في أعمال الصيانة العامة	مخرج التعلم	يستخدم أدوات الصيانة الأساسية وفق الطرق الصحيحة واحتياجاتها
معيار الأداء	يستخدم المطرقة بطريقة آمنة وصحيحة	السنة الدراسية / الفصل الدراسي	2024 الفصل الثالث
اسم الطالب/ة	حادي	اسم المجموعة	





أسئلة الاختبار	
السؤال الاول	رتب الصور حسب الترتيب الصحيح للطريقة الآمنة لاستخدام المطرقة:

			
الطرق بذراعك بالكامل وتجنب الضغط المفرط على كتفك أو معصمك.		تحديد وتثبيت الهدف المراد طرقه	
			
لبس قفازات لحماية اليدين من الضربات		مسك المقبض باليد اليمنى بالطريقة الصحيحة	






نموذج اختبار			
اسم الوحدة	يظهر معرفة ومهارة في أعمال الصيانة العامة	مخرج التعلم	يستخدم أدوات الصيانة الأساسية وفق الطرق الصحيحة واحتياجاتها
معيار الأداء	يستخدم المطرقة بطريقة آمنة وصحيحة	السنة الدراسية / الفصل الدراسي	2024 الفصل الثالث
اسم الطالب/ة	وحر	اسم المجموعة	2

أسئلة الاختبار	
السؤال الاول	رتب الصور حسب الترتيب الصحيح للطريقة الآمنة لاستخدام المطرقة:

			
الطرق بذراعك بالكامل وتجنب الضغط المفرط على كتفك أو معصمك. 4		تحديد وتثبيت الهدف المراد طرقه 1	
			
لبس قفازات لحماية اليدين من الضربات 3		مسك المقبض باليد اليمنى بالطريقة الصحيحة 2	

نموذج اختبار			
اسم الوحدة	يظهر معرفة ومهارة في أعمال الصيانة العامة	مخرج التعلم	يستخدم أدوات الصيانة الأساسية وفق الطرق الصحيحة واحتياجاتها
معيار الأداء	يستخدم الكتر بطريقة صحيحة وحسب العمل المطلوب	السنة الدراسية / الفصل الدراسي	2024 الفصل الثالث
اسم الطالب/ة	هنا	اسم المجموعة	

أسئلة الاختبار	
السؤال الاول	ضع علامة (✓) على الطريقة الصحيحة للإمساك بالقاطع أو الكتر

		
	✓	



نموذج اختبار			
اسم الوحدة	يظهر معرفة ومهارة في أعمال الصيانة العامة	مخرج التعلم	يستخدم أدوات الصيانة الأساسية وفق الطرق الصحيحة واحتياجاتها
معيار الأداء	يستخدم الكتر بطريقة صحيحة وحسب العمل المطلوب	السنة الدراسية / الفصل الدراسي	2024 الفصل الثالث
اسم الطالب/ة	لوريه	اسم المجموعة	

أسئلة الاختبار	
السؤال الاول	ضع علامة (✓) على الطريقة الصحيحة للإمساك بالقاطع أو الكتر

	2	

✓



نموذج اختبار

اسم الوحدة		يظهر معرفة ومهارة في أعمال الصيانة العامة	مخرج التعلم	يستخدم أدوات الصيانة الأساسية وفق الطرق الصحيحة واحتياجاتها
اسم الطالب/ة	1	اسم المجموعة	2024	الفصل الثالث
معياري الأداء	يستخدم الكتر بطريقة صحيحة وحسب العمل المطلوب	السنة الدراسية / الفصل الدراسي		

أسئلة الاختبار

السؤال الأول	ضع علامة (✓) على الطريقة الصحيحة للإمساك بالقاطع أو الكتر

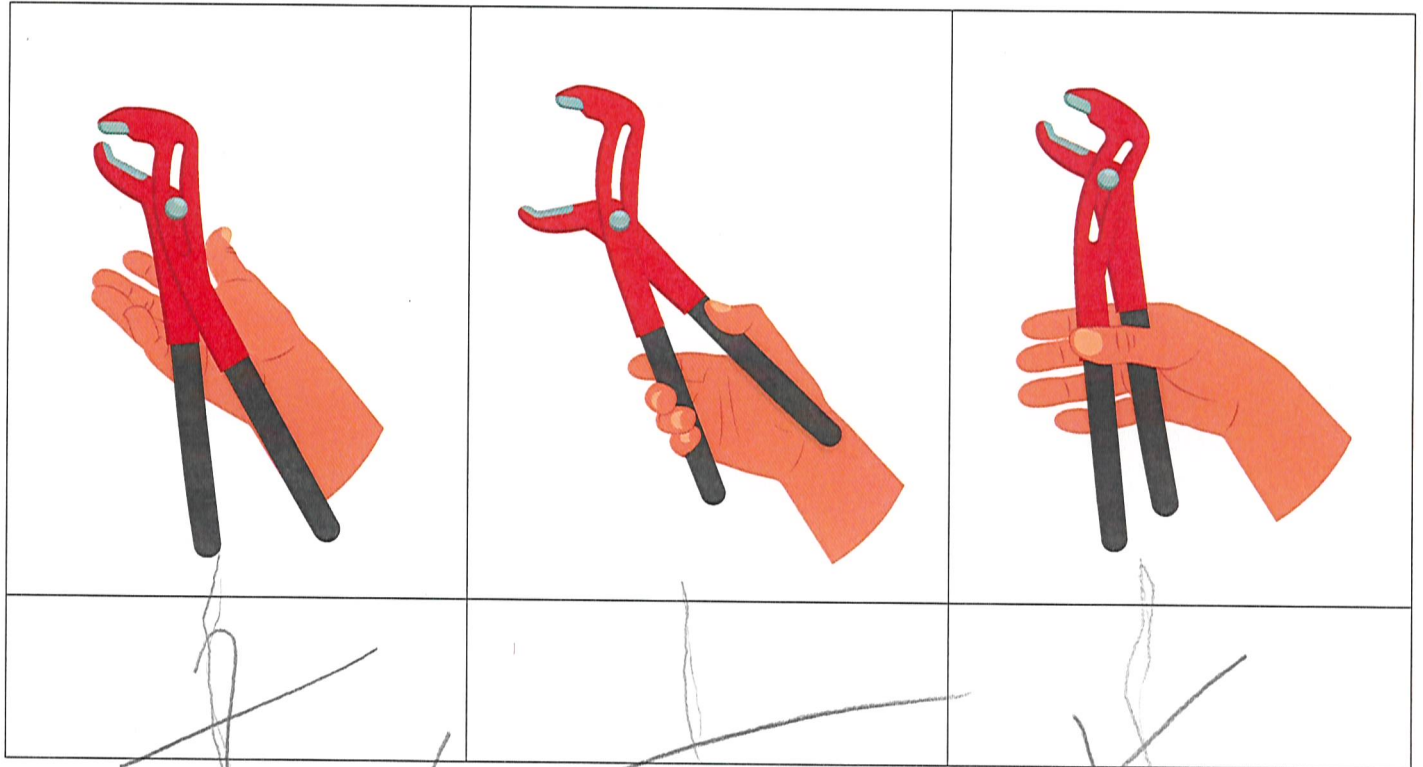
		✓

1



نموذج اختبار				
يستخدم أدوات الصيانة الأساسية وفق الطرق الصحيحة واحتياجاتها		مخرج التعلم	يظهر معرفة ومهارة في أعمال الصيانة العامة	اسم الوحدة
الفصل الثالث	2024	السنة الدراسية / الفصل الدراسي	يستخدم الكتر بطريقة صحيحة وحسب العمل المطلوب	معيان الأداء
		اسم المجموعة	ظا ن	اسم الطالب/ة

أسئلة الاختبار	
السؤال الاول	ضع علامة (✓) على الطريقة الصحيحة للإمساك بالقاطع أو الكتر



نموذج اختبار

اسم الوحدة		يظهر معرفة ومهارة في أعمال الصيانة العامة	مخرج التعلم	يستخدم أدوات الصيانة الأساسية وفق الطرق الصحيحة واحتياجاتها
اسم الطالب/ة	د.ح	يستخدم الكتر بطريقة صحيحة وحسب العمل المطلوب	السنة الدراسية / الفصل الدراسي	2024
اسم المجموعة			الفصل الثالث	

أسئلة الاختبار

السؤال الاول	ضع علامة (✓) على الطريقة الصحيحة للإمساك بالقاطع أو الكتر

	✓	

✓