





نموذج اختبار

اسم الوحدة	يظهر معرفة ومهارة في أعمال الصيانة العامة	مخرج التعلم	يستخدم أدوات الصيانة الأساسية وفق الطرق الصحيحة واحتياجاتها
معيار الأداء	يستخدم المطرقة بطريقة آمنة وصحيحة	السنة الدراسية / الفصل الدراسي	2024 الفصل الثالث
اسم الطالب/ة	احمد وائل	اسم المجموعة	11

أسئلة الاختبار

السؤال الاول	رتب الصور حسب الترتيب الصحيح للطريقة الآمنة لاستخدام المطرقة:
--------------	---

			
الطرق بذراعك بالكامل وتجنب الضغط المفرط على كتفك أو معصمك.		تحديد وتثبيت الهدف المراد طرقة	
			
لبس قفازات لحماية اليدين من الضربات		مسك المقبض باليد اليمنى بالطريقة الصحيحة	