

نموذج اختبار			
اسم الوحدة	يظهر معرفة ومهارة في أعمال الصيانة العامة	مخرج التعلم	يستخدم أدوات الصيانة الأساسية وفق الطرق الصحيحة واحتياجاتها
معياري الأداء	يستخدم الكتر بطريقة صحيحة وحسب العمل المطلوب	السنة الدراسية / الفصل الدراسي	2024
اسم الطالب/ة	ر ع	اسم المجموعة	2

أسئلة الاختبار	
السؤال الاول	ضع علامة (✓) على الطريقة الصحيحة للإمساك بالقاطع أو الكتر

	✓	

نموذج اختبار

اسم الوحدة	يظهر معرفة ومهارة في أعمال الصيانة العامة	مخرج التعلم	يستخدم أدوات الصيانة الأساسية وفق الطرق الصحيحة واحتياجاتها
معيار الأداء	يستخدم الكتر بطريقة صحيحة وحسب العمل المطلوب	السنة الدراسية / الفصل الدراسي	2024
اسم الطالب/ة		اسم المجموعة	الفصل الثالث
			2

أسئلة الاختبار




السؤال الاول	ضع علامة (✓) على الطريقة الصحيحة للإمساك بالقاطع أو الكتر
--------------	---

نموذج اختبار

يستخدم أدوات الصيانة الأساسية وفق الطرق الصحيحة واحتياجاتها		مخرج التعلم	يظهر معرفة ومهارة في أعمال الصيانة العامة	اسم الوحدة
الفصل الثالث	2024	السنة الدراسية / الفصل الدراسي	يستخدم الكتر بطريقة صحيحة وحسب العمل المطلوب	معيار الأداء
r		اسم المجموعة	دعير جاك	اسم الطالب/ة

أسئلة الاختبار

السؤال الاول	ضع علامة (✓) على الطريقة الصحيحة للإسك بالقاطع أو الكتر
--------------	---

		
	✓	

نموذج اختبار

اسم الوحدة	يظهر معرفة ومهارة في أعمال الصيانة العامة	مخرج التعلم	يستخدم أدوات الصيانة الأساسية وفق الطرق الصحيحة واحتياجاتها
معياري الأداء	يستخدم الكتر بطريقة صحيحة وحسب العمل المطلوب	السنة الدراسية / الفصل الدراسي	2024 الفصل الثالث
اسم الطالب/ة	محمد صالح	اسم المجموعة	2

أسئلة الاختبار

السؤال الاول	ضع علامة (✓) على الطريقة الصحيحة للإمساك بالقاطع أو الكتر
--------------	---

	✓	