

نموذج اختبار 10

الكثر وطرق استخدامه

يستخدم أدوات الصيانة الأساسية وفق الطرق الصحيحة واحتياجاتها		مخرج التعلم	يظهر معرفة ومهارة في أعمال الصيانة العامة	اسم الوحدة
2024	الفصل الثالث	السنة الدراسية / الفصل الدراسي	يستخدم الكتر بطريقة صحيحة وحسب العمل المطلوب	معيان الأداء
		اسم المجموعة	البري	اسم الطالب/ة

أسئلة الاختبار

السؤال الاول	ضع علامة (✓) على الطريقة الصحيحة للإمساك بالقاطع أو الكتر
--------------	---

X	X	—

✓

70






نموذج اختبار 10

الكثر وطرق استخدامه

اسم الوحدة	يظهر معرفة ومهارة في أعمال الصيانة العامة	مخرج التعلم	يستخدم أدوات الصيانة الأساسية وفق الطرق الصحيحة واحتياجاتها
معيار الأداء	يستخدم الكتر بطريقة صحيحة وحسب العمل المطلوب	السنة الدراسية / الفصل الدراسي	2024 الفصل الثالث
اسم الطالب/ة	BATHANB	اسم المجموعة	ARU ANB

أسئلة الاختبار

السؤال الاول	ضع علامة (✓) على الطريقة الصحيحة للإمساك بالقاطع أو الكتر
--------------	---

		
		AT 44 ✓

70

نموذج اختبار 10

الكثر وطرق استخدامه

اسم الوحدة	يظهر معرفة ومهارة في أعمال الصيانة العامة	مخرج التعلم	يستخدم أدوات الصيانة الأساسية وفق الطرق الصحيحة واحتياجاتها
معيان الأداء	يستخدم الكثر بطريقة صحيحة وحسب العمل المطلوب	السنة الدراسية / الفصل الدراسي	2024 الفصل الثالث
اسم الطالب/ة		اسم المجموعة	

أسئلة الاختبار

السؤال الاول	ضع علامة (✓) على الطريقة الصحيحة للإمساك بالقاطع أو الكثر
--------------	---

100

