



نموذج اختبار 11				
طرق استخدام أدوات الصيانة				
يستخدم أدوات الصيانة الأساسية وفق الطرق الصحيحة واحتياجاتها		مخرج التعلم	يظهر معرفة ومهارة في أعمال الصيانة العامة	اسم الوحدة
2024	الفصل الثالث	السنة الدراسية / الفصل الدراسي	جميع معايير الوحدة	معياري الأداء
		اسم المجموعة	البرازيل	اسم الطالب/ة

أسئلة الاختبار	
السؤال الاول	حدد نوع المفك المناسب لكل نوع من البراغي
السؤال الثاني	ضع علامة (✓) على أداة الشد



السؤال الاول: حدد نوع المفك المناسب لكل نوع من البراغي (كتابة الرقم)




		نوع البرغي
2	1 ✓	رقم المفك المناسب





السؤال الثاني: ضع علامة (✓) على أداة الشد



نموذج اختبار 11			
طرق استخدام أدوات الصيانة			
اسم الوحدة	يظهر معرفة ومهارة في أعمال الصيانة العامة	مخرج التعلم	يستخدم أدوات الصيانة الأساسية وفق الطرق الصحيحة واحتياجاتها
معياري الأداء	جميع معايير الوحدة	السنة الدراسية / الفصل الدراسي	2024 الفصل الثالث
اسم الطالب/ة	ARWANZ	اسم المجموعة	ARWANZ

أسئلة الاختبار	
السؤال الاول	حدد نوع المفك المناسب لكل نوع من البراغي
السؤال الثاني	ضع علامة (✓) على أداة الشد



نوع البرغي	رقم المفك المناسب
	2 ✓
	1 ✓

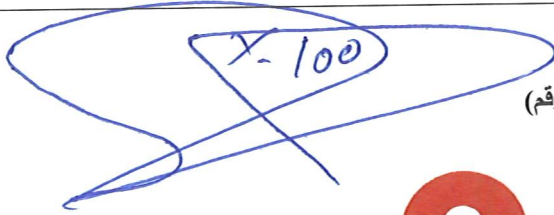


السؤال الثاني: ضع علامة (✓) على أداة الشد




نموذج اختبار 11			
طرق استخدام أدوات الصيانة			
اسم الوحدة	يظهر معرفة ومهارة في أعمال الصيانة العامة	مخرج التعلم	يستخدم أدوات الصيانة الأساسية وفق الطرق الصحيحة واحتياجاتها
معايير الأداء	جميع معايير الوحدة	السنة الدراسية / الفصل الدراسي	2024 الفصل الثالث
اسم الطالب/ة		اسم المجموعة	

أسئلة الاختبار	
السؤال الاول	حدد نوع المفك المناسب لكل نوع من البراغي
السؤال الثاني	ضع علامة (✓) على أداة الشد



السؤال الاول: حدد نوع المفك المناسب لكل نوع من البراغي (كتابة الرقم)




		نوع البرغي
		رقم المفك المناسب





السؤال الثاني: ضع علامة (✓) على أداة الشد



نموذج اختبار 11			
طرق استخدام أدوات الصيانة			
اسم الوحدة	يظهر معرفة ومهارة في أعمال الصيانة العامة	مخرج التعلم	يستخدم أدوات الصيانة الأساسية وفق الطرق الصحيحة واحتياجاتها
معياري الأداء	جميع معايير الوحدة	السنة الدراسية / الفصل الدراسي	2024 الفصل الثالث
اسم الطالب/ة	عبد الله المحمودي	اسم المجموعة	

أسئلة الاختبار	
السؤال الاول	حدد نوع المفك المناسب لكل نوع من البراغي
السؤال الثاني	ضع علامة (✓) على أداة الشد



		نوع البرغي
2 ✓	1 ✓	رقم المفك المناسب





السؤال الثاني: ضع علامة (✓) على أداة الشد

