

نموذج اختبار

اسم الوحدة	يظهر معرفة ومهارة في أعمال الصيانة العامة	مخرج التعلم	يستخدم أدوات الصيانة الأساسية وفق الطرق الصحيحة واحتياجاتها
معيار الأداء	جميع معايير الوحدة	السنة الدراسية / الفصل الدراسي	2024 الفصل الثالث
اسم الطالب/ة	سليم ر	اسم المجموعة	1

أسئلة الاختبار

السؤال الاول	حدد نوع المفك المناسب لكل نوع من البراغي
السؤال الثاني	ضع علامة (✓) على أداة الشد

السؤال الاول: حدد نوع المفك المناسب لكل نوع من البراغي (كتابة الرقم)

2


1



		نوع البرغي
1	2	رقم المفك المناسب



السؤال الثاني: ضع علامة (✓) على أداة الشد



نموذج اختبار

اسم الوحدة	يظهر معرفة ومهارة في أعمال الصيانة العامة	مخرج التعلم	يستخدم أدوات الصيانة الأساسية وفق الطرق الصحيحة واحتياجاتها
معيار الأداء	جميع معايير الوحدة	السنة الدراسية / الفصل الدراسي	2024 الفصل الثالث
اسم الطالب/ة	أحمد الرسا	اسم المجموعة	١

أسئلة الاختبار

السؤال الاول	حدد نوع المفك المناسب لكل نوع من البراغي
السؤال الثاني	ضع علامة (✓) على أداة الشد

السؤال الاول: حدد نوع المفك المناسب لكل نوع من البراغي (كتابة الرقم)

2

1



		نوع البرغي
2	1	رقم المفك المناسب







السؤال الثاني: ضع علامة (✓) على أداة الشد



نموذج اختبار			
اسم الوحدة	يظهر معرفة ومهارة في أعمال الصيانة العامة	مخرج التعلم	يستخدم أدوات الصيانة الأساسية وفق الطرق الصحيحة واحتياجاتها
معيار الأداء	جميع معايير الوحدة	السنة الدراسية / الفصل الدراسي	2024 الفصل الثالث
اسم الطالب/ة	بشير	اسم المجموعة	١


أسئلة الاختبار	
السؤال الاول	حدد نوع المفك المناسب لكل نوع من البراغي
السؤال الثاني	ضع علامة (✓) على أداة الشد

السؤال الاول: حدد نوع المفك المناسب لكل نوع من البراغي (كتابة الرقم)

		
		نوع البرغي
١	٢	رقم المفك المناسب



السؤال الثاني: ضع علامة (✓) على أداة الشد



نموذج اختبار

اسم الوحدة	يظهر معرفة ومهارة في أعمال الصيانة العامة	مخرج التعلم	يستخدم أدوات الصيانة الأساسية وفق الطرق الصحيحة واحتياجاتها
معيار الأداء	جميع معايير الوحدة	السنة الدراسية / الفصل الدراسي	2024
اسم الطالب/ة	عيسى	اسم المجموعة	الفصل الثالث

أسئلة الاختبار

السؤال الاول	حدد نوع المفك المناسب لكل نوع من البراغي
السؤال الثاني	ضع علامة (✓) على أداة الشد

السؤال الاول: حدد نوع المفك المناسب لكل نوع من البراغي (كتابة الرقم)

2

1



		نوع البرغي
✓	1	رقم المفك المناسب



السؤال الثاني: ضع علامة (✓) على أداة الشد

