

نموذج اختبار 14	
تصميم الإكسسوارات	
اسم الوحدة	يُظهر معرفة ومهارة في تصنيع المنتجات اليدوية
مخرج التعلم	• يستخدم الأدوات اللازمة لتصنيع المنتجات اليدوية من أنواع الإكسسوارات بطريقة صحيحة وأمنة .
اسم الطالب/ة	اسم المجموعة
معيار الأداء	السنة الدراسية / الفصل الدراسي
اسم الطالب/ة	سليمي سالم
معيار الأداء	• يحضر الأدوات الخاصة بصناعة الحلي والإكسسوارات. • يصمم المصوغات المصنوعة من الخرز والأحجار بخطوات متسلسلة بطريقة صحيحة وأمنة.
اسم الطالب/ة	اسم المجموعة
معيار الأداء	السنة الدراسية / الفصل الدراسي
اسم الطالب/ة	سليمي سالم

الاسئلة الاختبار	
السؤال الأول	ضع دائرة على الأدوات الخاصة بصناعة الحلي والإكسسوارات.
السؤال الثاني	عمل شكل من مادة الريزن

ضع دائرة على الأدوات الخاصة بصناعة الحلي والإكسسوارات.



### نموذج اختبار 14

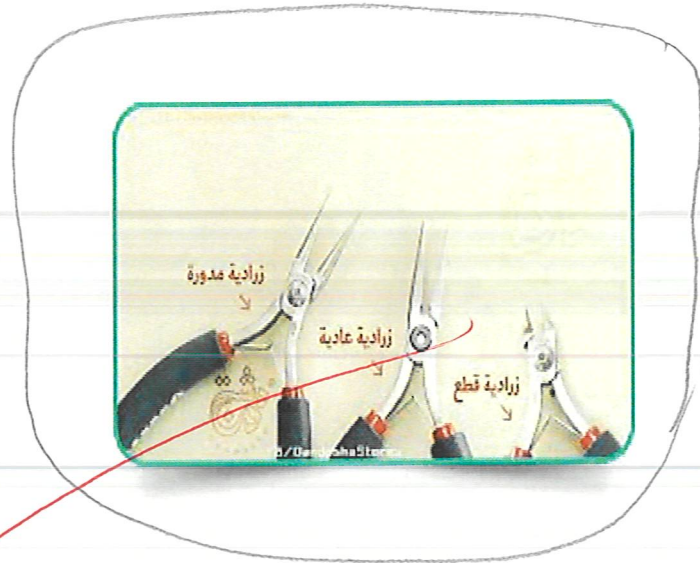
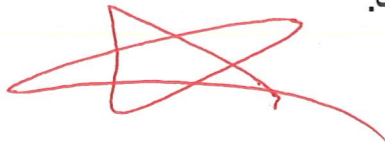
### تصميم الإكسسوارات

• يستخدم الأدوات اللازمة لتصنيع المنتجات اليدوية من أنواع الإكسسوارات بطريقة صحيحة وآمنة .		مخرج التعلم	يُظهر معرفة ومهارة في تصنيع المنتجات اليدوية	اسم الوحدة
الفصل الثالث	2023-2024	السنة الدراسية / الفصل الدراسي	• يحضر الأدوات الخاصة بصناعة الحلبي والإكسسوارات. • يصمم المصوغات المصنوعة من الخرز والأحجار بخطوات متسلسلة بطريقة صحيحة وآمنة.	معياري الأداء
		اسم المجموعة	فاخرة علي أحمد	اسم الطالب/ة

### الاسئلة الاختبار

السؤال الأول	ضع دائرة على الأدوات الخاصة بصناعة الحلبي والإكسسوارات.
السؤال الثاني	عمل شكل من مادة الريزن

ضع دائرة على الأدوات الخاصة بصناعة الحلبي والإكسسوارات.






نموذج اختبار 14 تصميم الإكسسوارات			
اسم الوحدة	يُظهر معرفة ومهارة في تصنيع المنتجات اليدوية	مخرج التعلم	• يستخدم الأدوات اللازمة لتصنيع المنتجات اليدوية من أنواع الإكسسوارات بطريقة صحيحة وأمنة .
معيار الأداء	• يحضر الأدوات الخاصة بصناعة الحلبي والإكسسوارات. • يصمم المصوغات المصنوعة من الخرز والأحجار بخطوات متسلسلة بطريقة صحيحة وأمنة.	السنة الدراسية / الفصل الدراسي	2023-2024
اسم الطالب/ة	زييد كمران	اسم المجموعة	الفصل الثالث

الاسئلة الاختبار	
السؤال الأول	ضع دائرة على الأدوات الخاصة بصناعة الحلبي والإكسسوارات.
السؤال الثاني	عمل شكل من مادة الريزن

ضع دائرة على الأدوات الخاصة بصناعة الحلبي والإكسسوارات.



نموذج اختبار 14 تصميم الإكسسوارات			
اسم الوحدة	يُظهر معرفة ومهارة في تصنيع المنتجات اليدوية	مخرج التعلم	• يستخدم الأدوات اللازمة لتصنيع المنتجات اليدوية من أنواع الإكسسوارات بطريقة صحيحة وأمنة .
معيار الأداء	<ul style="list-style-type: none"> <li>• يحضر الأدوات الخاصة بصناعة الحلبي والإكسسوارات.</li> <li>• يصمم المصوغات المصنوعة من الخرز والأحجار بخطوات متسلسلة بطريقة صحيحة وأمنة.</li> </ul>	السنة الدراسية / الفصل الدراسي	2023-2024 الفصل الثالث
اسم الطالب/ة	بخيتة	اسم المجموعة	

الاسئلة الاختبار	
السؤال الأول	ضع دائرة على الأدوات الخاصة بصناعة الحلبي والإكسسوارات.
السؤال الثاني	عمل شكل من مادة الريزن

ضع دائرة على الأدوات الخاصة بصناعة الحلبي والإكسسوارات.

