

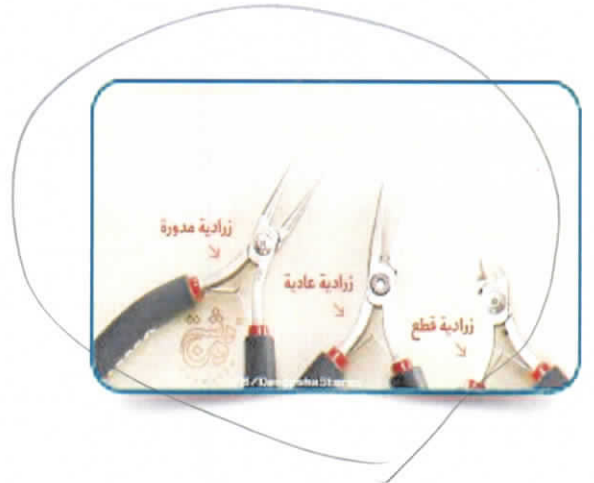
نموذج اختبار

اسم الوحدة		يُظهر معرفة ومهارة في تصنيع المنتجات اليدوية	مخرج التعلم	• يستخدم الأدوات اللازمة لتصنيع المنتجات اليدوية من أنواع الإكسسوارات بطريقة صحيحة وأمنة .
معيار الأداء	• يحضر الأدوات الخاصة بصناعة الحلبي والإكسسوارات. • يصمم المصوغات المصنوعة من الخرز والأحجار بخطوات متسلسلة بطريقة صحيحة وأمنة.	السنة الدراسية / الفصل الدراسي	2023-2024	الفصل الثالث
اسم الطالب/ة	بنين	اسم المجموعة	(

الاسئلة الاختبار

السؤال الأول	ضع دائرة على الأدوات الخاصة بصناعة الحلبي والإكسسوارات.
السؤال الثاني	عمل شكل من مادة الريزن

ضع دائرة على الأدوات الخاصة بصناعة الحلبي والإكسسوارات.



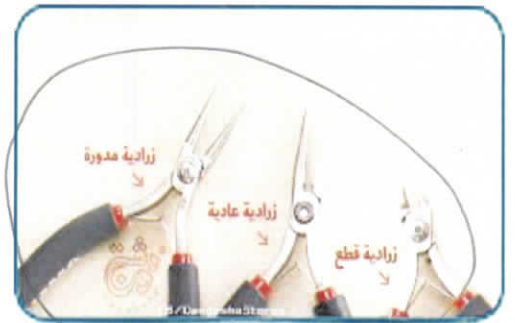
نموذج اختبار

اسم الوحدة		يُظهر معرفة ومهارة في تصنيع المنتجات اليدوية	مخرج التعلم	• يستخدم الأدوات اللازمة لتصنيع المنتجات اليدوية من أنواع الإكسسوارات بطريقة صحيحة وأمنة .
اسم الطالب/ة	اسم المجموعة	1	السنة الدراسية / الفصل الدراسي	2023-2024
معيار الأداء	<ul style="list-style-type: none"> • يحضر الأدوات الخاصة بصناعة الحلبي والإكسسوارات. • يصمم المصوغات المصنوعة من الخرز والأحجار بخطوات متسلسلة بطريقة صحيحة وأمنة. 		الفصل الثالث	

الاسئلة الاختبار

السؤال الأول	ضع دائرة على الأدوات الخاصة بصناعة الحلبي والإكسسوارات.
السؤال الثاني	عمل شكل من مادة الريزن

ضع دائرة على الأدوات الخاصة بصناعة الحلبي والإكسسوارات.



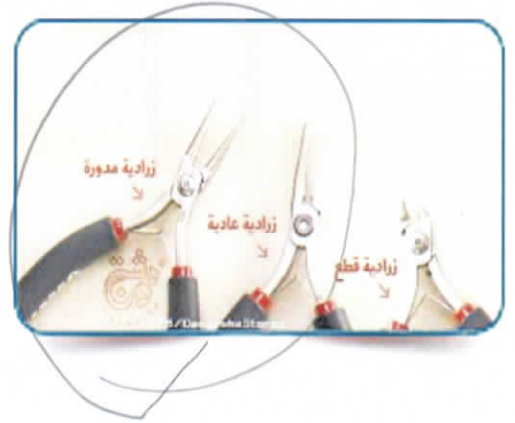
نموذج اختبار

اسم الوحدة		يُظهر معرفة ومهارة في تصنيع المنتجات اليدوية	مخرج التعلم	• يستخدم الأدوات اللازمة لتصنيع المنتجات اليدوية من أنواع الإكسسوارات بطريقة صحيحة وآمنة .
معيار الأداء	• يحضر الأدوات الخاصة بصناعة الحلبي والإكسسوارات. • يصمم المصوغات المصنوعة من الخرز والأحجار بخطوات متسلسلة بطريقة صحيحة وآمنة.	السنة الدراسية / الفصل الدراسي	2023-2024	الفصل الثالث
اسم الطالب/ة	كوسا	اسم المجموعة		

الاسئلة الاختبار

السؤال الأول	ضع دائرة على الأدوات الخاصة بصناعة الحلبي والإكسسوارات.
السؤال الثاني	عمل شكل من مادة الريزن

ضع دائرة على الأدوات الخاصة بصناعة الحلبي والإكسسوارات.



نموذج اختبار

اسم الوحدة		يُظهر معرفة ومهارة في تصنيع المنتجات اليدوية	مخرج التعلم	• يستخدم الأدوات اللازمة لتصنيع المنتجات اليدوية من أنواع الإكسسوارات بطريقة صحيحة وأمنة .
معيار الأداء	• يحضر الأدوات الخاصة بصناعة الحلبي والإكسسوارات. • يصمم المصوغات المصنوعة من الخرز والأحجار بخطوات متسلسلة بطريقة صحيحة وأمنة.	السنة الدراسية / الفصل الدراسي	2023-2024	الفصل الثالث
اسم الطالب/ة	أدريس	اسم المجموعة	1	

الاسئلة الاختبار

السؤال الأول	ضع دائرة على الأدوات الخاصة بصناعة الحلبي والإكسسوارات.
السؤال الثاني	عمل شكل من مادة الريزن

ضع دائرة على الأدوات الخاصة بصناعة الحلبي والإكسسوارات.

