



نموذج اختبار 15			
تصميم المنتجات المصنوعة من الخيوط والريزن			
اسم الوحدة	يُظهر معرفة ومهارة في تصنيع المنتجات اليدوية	مخرج التعلم	• يستخدم الأدوات اللازمة لتصنيع المنتجات اليدوية من أنواع الإكسسوارات بطريقة صحيحة وأمنة
معيار الأداء	<ul style="list-style-type: none"> <li>• يصمم المنتجات المصنوعة من الخيوط بخطوات متسلسلة بطريقة صحيحة وأمنة.</li> <li>• يصمم المنتجات المصنوعة من مادة (الريزن) بخطوات متسلسلة بطريقة صحيحة وأمنة.</li> </ul>	السنة الدراسية / الفصل الدراسي	2024 الفصل الثالث
اسم الطالب/ة	رخيمة	اسم المجموعة	

### اسئلة الاختبار

السؤال الأول	ضع دائرة حول المصنوعات من (الخيوط و الريزن)
--------------	---





### نموذج اختبار 15

### تصميم المنتجات المصنوعة من الخيوط والريزن

اسم الوحدة	يظهر معرفة ومهارة في تصنيع المنتجات اليدوية	مخرج التعلم	• يستخدم الأدوات اللازمة لتصنيع المنتجات اليدوية من أنواع الإكسسوارات بطريقة صحيحة وأمنة
معيار الأداء	• يصمم المنتجات المصنوعة من الخيوط بخطوات متسلسلة بطريقة صحيحة وأمنة. • يصمم المنتجات المصنوعة من مادة (الريزن) بخطوات متسلسلة بطريقة صحيحة وأمنة.	السنة الدراسية / الفصل الدراسي	2024 الفصل الثالث
اسم الطالب/ة	سليمي سالم	اسم المجموعة	

### اسئلة الاختبار

السؤال الأول ضع دائرة حول المصنوعات من (الخيوط و الريزن)






### نموذج اختبار 15

### تصميم المنتجات المصنوعة من الخيوط والريزن

اسم الوحدة	يُظهر معرفة ومهارة في تصنيع المنتجات اليدوية	مخرج التعلم	• يستخدم الأدوات اللازمة لتصنيع المنتجات اليدوية من أنواع الإكسسوارات بطريقة صحيحة وأمنة
معيار الأداء	• يصمم المنتجات المصنوعة من الخيوط بخطوات متسلسلة بطريقة صحيحة وأمنة. • يصمم المنتجات المصنوعة من مادة (الريزن) بخطوات متسلسلة بطريقة صحيحة وأمنة.	السنة الدراسية / الفصل الدراسي	2024 الفصل الثالث
اسم الطالب/ة	زيين عمران	اسم المجموعة	

### اسئلة الاختبار

السؤال الأول وضع دائرة حول المصنوعات من (الخيوط و الريزن)



نموذج اختبار 15			
تصميم المنتجات المصنوعة من الخيوط والريزن			
اسم الوحدة	يظهر معرفة ومهارة في تصنيع المنتجات اليدوية	مخرج التعلم	• يستخدم الأدوات اللازمة لتصنيع المنتجات اليدوية من أنواع الإكسسوارات بطريقة صحيحة وأمنة
معيار الأداء	• يصمم المنتجات المصنوعة من الخيوط بخطوات متسلسلة بطريقة صحيحة وأمنة. • يصمم المنتجات المصنوعة من مادة (الريزن) بخطوات متسلسلة بطريقة صحيحة وأمنة.	السنة الدراسية / الفصل الدراسي	2024
اسم الطالب/ة	فاخرة علي أحمد المنصوري	اسم المجموعة	الفصل الثالث

### اسئلة الاختبار

السؤال الأول وضع دائرة حول المصنوعات من (الخيوط و الريزن)

