




الاختبار 5 انواع المبارد				
• يظهر معرفة ومهارة في استخدام الأدوات والمعدات الأساسية اللازمة لتصنيع المنتجات الخشبية وأدوات نشر الخشب بمختلف أنواعها		مخرج التعلم	يُظهر معرفة ومهارة في تصنيع المنتجات الخشبية	اسم الوحدة
الفصل الثالث	2024	السنة الدراسية / الفصل الدراسي	يُفرّق بين أنواع المبارد: المثلث - المربع - الدائرة - النصف دائرة.	معيّار الأداء
		اسم المجموعة	الامر	اسم الطالب/ة

السؤال الاول / ضع علامة صح على صورة المبارد



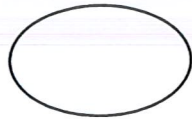
الاختبار 5 انواع المبارد			
اسم الوحدة	يُظهر معرفة ومهارة في تصنيع المنتجات الخشبية	مخرج التعلم	• يظهر معرفة ومهارة في استخدام الأدوات والمعدات الأساسية اللازمة لتصنيع المنتجات الخشبية وأدوات نشر الخشب بمختلف أنواعها
معيار الأداء	يفرق بين أنواع المبارد: المثلث - المربع - الدائرة - النصف دائرة.	السنة الدراسية / الفصل الدراسي	2024
اسم الطالب/ة	A B C D E F G H I J K L M N O P Q R S T U V W X Y Z	اسم المجموعة	A B C D E F G H I J K L M N O P Q R S T U V W X Y Z

السؤال الاول / ضع علامة صح على صورة المبارد




الاختبار 5 انواع المبارد			
اسم الوحدة	يُظهر معرفة ومهارة في تصنيع المنتجات الخشبية	مخرج التعلم	• يظهر معرفة ومهارة في استخدام الأدوات والمعدات الأساسية اللازمة لتصنيع المنتجات الخشبية وأدوات نشر الخشب بمختلف أنواعها
معيار الأداء	يفرق بين أنواع المبارد: المثلث - المربع - الدائرة - النصف دائرة.	السنة الدراسية / الفصل الدراسي	2024
اسم الطالب/ة		اسم المجموعة	الفصل الثالث

السؤال الاول / ضع علامة صح على صورة المبارد




100



الاختبار 5 انواع المبارد			
اسم الوحدة	يُظهر معرفة ومهارة في تصنيع المنتجات الخشبية	مخرج التعلم	• يظهر معرفة ومهارة في استخدام الأدوات والمعدات الأساسية اللازمة لتصنيع المنتجات الخشبية وأدوات نشر الخشب بمختلف أنواعها
معيار الأداء	يفرق بين أنواع المبارد: المثلث - المربع - الدائرة - النصف دائرة.	السنة الدراسية / الفصل الدراسي	2024
اسم الطالب/ة	لا على الاله صوري	اسم المجموعة	الفصل الثالث

السؤال الاول / ضع علامة صح على صورة المبارد



100%

