
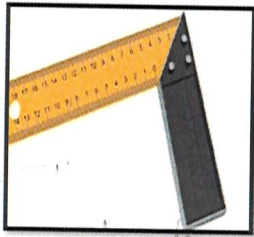




الاختبار			
اسم الوحدة	يُظهر معرفة ومهارة في تصنيع المنتجات الخشبية	مخرج التعلم	• يظهر معرفة بأنواع القياسات والأشكال الهندسية المختلفة المستخدمة في النجارة
معياري الأداء	يُميز وسائل القياسات المستخدمة في النجارة . يأخذ المقاس المطلوب بشكل صحيح.	السنة الدراسية / الفصل الدراسي	2024 الفصل الأول
اسم الطالب/ة	اسم المجموعة		

السؤال الأول	صل الكلمات المناسبة للاداء المستخدمة في القياس
--------------	--

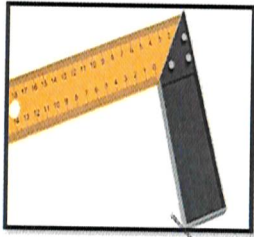


المتر الشريطي - المتر المنكسر - المسطرة - الزاوية القائمة



الاختبار			
اسم الوحدة	يُظهر معرفة ومهارة في تصنيع المنتجات الخشبية	مخرج التعلم	• يظهر معرفة بأنواع القياسات والأشكال الهندسية المختلفة المستخدمة في النجارة
معياري الأداء	يُميز وسائل القياسات المستخدمة في النجارة. يأخذ المقاس المطلوب بشكل صحيح.	السنة الدراسية / الفصل الدراسي	2024 الفصل الأول
اسم الطالب/ة	نورية	اسم المجموعة	

السؤال الأول	صل الكلمات المناسبة للاداء المستخدمة في القياس
--------------	--


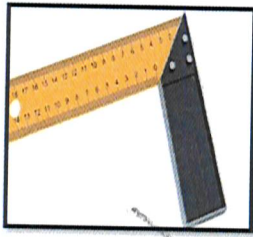


المتر الشريطي - المتر المنكسر - المسطرة - الزاوية القائمة



الاختبار			
اسم الوحدة	يُظهر معرفة ومهارة في تصنيع المنتجات الخشبية	مخرج التعلم	• يظهر معرفة بأنواع القياسات والأشكال الهندسية المختلفة المستخدمة في النجارة
معيار الأداء	يُميز وسائل القياسات المستخدمة في النجارة. يأخذ المقاس المطلوب بشكل صحيح.	السنة الدراسية / الفصل الدراسي	2024 الفصل الأول
اسم الطالب/ة	أبي	اسم المجموعة	

السؤال الأول	صل الكلمات المناسبة للاداء المستخدمة في القياس
--------------	--




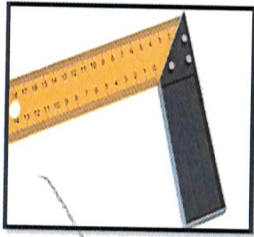
المتر الشريطي - المتر المنكسر - المسطرة - الزاوية القائمة

2



الاختبار			
اسم الوحدة	يُظهر معرفة ومهارة في تصنيع المنتجات الخشبية	مخرج التعلم	• يظهر معرفة بأنواع القياسات والأشكال الهندسية المختلفة المستخدمة في النجارة
معيار الأداء	يُميز وسائل القياسات المستخدمة في النجارة. يأخذ المقاس المطلوب بشكل صحيح.	السنة الدراسية / الفصل الدراسي	2024
اسم الطالب/ة	خالد	اسم المجموعة	2
الفصل الأول			


السؤال الأول	صل الكلمات المناسبة للاداء المستخدمة في القياس
--------------	--



المتر الشريطي - المتر المنكسر - المسطرة - الزاوية القائمة

الاختبار			
اسم الوحدة	يُظهر معرفة ومهارة في تصنيع المنتجات الخشبية	مخرج التعلم	• يظهر معرفة بأنواع القياسات والأشكال الهندسية المختلفة المستخدمة في النجارة
معيار الأداء	يُميز وسائل القياسات المستخدمة في النجارة . يأخذ المقاس المطلوب بشكل صحيح.	السنة الدراسية / الفصل الدراسي	2024 الفصل الأول
اسم الطالب/ة	عمر	اسم المجموعة	

السؤال الأول	صل الكلمات المناسبة للاداءة المستخدمة في القياس
--------------	---



المتري الشريطي - المتر المنكسر - المسطرة - الزاوية القائمة



الاختبار			
اسم الوحدة	يُظهر معرفة ومهارة في تصنيع المنتجات الخشبية	مخرج التعلم	يظهر معرفة بأنواع القياسات والأشكال الهندسية المختلفة المستخدمة في النجارة
معيار الأداء	يُميز بين الأشكال الهندسية المختلفة	السنة الدراسية / الفصل الدراسي	2024
اسم الطالب/ة	حمامه	اسم المجموعة	2

اختار كل شكل بما يتناسب معه

السؤال الاول



الاختبار			
اسم الوحدة	يُظهر معرفة ومهارة في تصنيع المنتجات الخشبية	مخرج التعلم	يظهر معرفة بأنواع القياسات والأشكال الهندسية المختلفة المستخدمة في النجارة
معيار الأداء	يُميز بين الأشكال الهندسية المختلفة	السنة الدراسية / الفصل الدراسي	2024
اسم الطالب/ة	لؤورية	اسم المجموعة	الفصل الثالث

اختر كل شكل بما يتناسب معه

السؤال الاول



الاختبار				
يظهر معرفة بأنواع القياسات والأشكال الهندسية المختلفة المستخدمة في النجارة		مخرج التعلم	يُظهر معرفة ومهارة في تصنيع المنتجات الخشبية	اسم الوحدة
الفصل الثالث	2024	السنة الدراسية / الفصل الدراسي	يُميز بين الأشكال الهندسية المختلفة	معيّار الأداء
		اسم المجموعة	حار	اسم الطالب/ة

اختار كل شكل بما يتناسب معه

السؤال الاول



الاختبار				
يظهر معرفة بأنواع القياسات والأشكال الهندسية المختلفة المستخدمة في النجارة		مخرج التعلم	يُظهر معرفة ومهارة في تصنيع المنتجات الخشبية	اسم الوحدة
الفصل الثالث	2024	السنة الدراسية / الفصل الدراسي	يُميز بين الأشكال الهندسية المختلفة	معيّار الأداء
		اسم المجموعة	١٤	اسم الطالب/ة

اختار كل شكل بما يتناسب معه

السؤال الاول





الاختبار			
اسم الوحدة	يُظهر معرفة ومهارة في تصنيع المنتجات الخشبية	مخرج التعلم	يظهر معرفة بأنواع القياسات والأشكال الهندسية المختلفة المستخدمة في النجارة
معيار الأداء	يُميز بين الأشكال الهندسية المختلفة	السنة الدراسية / الفصل الدراسي	2024
اسم الطالب/ة	وعمر	اسم المجموعة	الفصل الثالث


اختر كل شكل بما يتناسب معه

السؤال الاول





الاختبار				
يستخدم أدوات القص والقص بطرق صحيحة وآمنة		مخرج التعلم	يُظهر معرفة ومهارة في تصنيع المنتجات الخشبية	اسم الوحدة
الفصل الثالث	2024	السنة الدراسية / الفصل الدراسي	يُسمي أدوات القص والقص اليديوية واستخداماتها	معيار الأداء
		اسم المجموعة	كلمة	اسم الطالب/ة

السؤال الأول	ان يضع الطالب دائرة على ادوات المستخدمة في القص
--------------	---



الاختبار			
اسم الوحدة	يُظهر معرفة ومهارة في تصنيع المنتجات الخشبية	مخرج التعلم	يستخدم أدوات القطع والقص بطرق صحيحة وآمنة
معيّار الأداء	يُسمّي أدوات القص والقطع اليدوية واستخداماتها	السنة الدراسية / الفصل الدراسي	2024 الفصل الثالث
اسم الطالب/ة	نورية	اسم المجموعة	


السؤال الأول	ان يضع الطالب دائرة على ادوات المستخدمة في القص
--------------	---





الاختبار			
اسم الوحدة	يُظهر معرفة ومهارة في تصنيع المنتجات الخشبية	مخرج التعلم	يستخدم أدوات القطع والقص بطرق صحيحة وآمنة
معيار الأداء	يُسمي أدوات القص والقطع اليديوية واستخداماتها	السنة الدراسية / الفصل الدراسي	2024 الفصل الثالث
اسم الطالب/ة	حاند	اسم المجموعة	3


السؤال الأول	ان يضع الطالب دائرة على ادوات المستخدمة في القص
--------------	---





الاختبار			
اسم الوحدة	يُظهر معرفة ومهارة في تصنيع المنتجات الخشبية	مخرج التعلم	يستخدم أدوات القص والقص بطرق صحيحة وأمنة
معيار الأداء	يُسمي أدوات القص والقص اليدوية واستخداماتها	السنة الدراسية / الفصل الدراسي	2024 الفصل الثالث
اسم الطالب/ة	أحمد	اسم المجموعة	

السؤال الأول	ان يضع الطالب دائرة على ادوات المستخدمة في القص
--------------	---





الاختبار			
اسم الوحدة	يُظهر معرفة ومهارة في تصنيع المنتجات الخشبية	مخرج التعلم	يستخدم أدوات القطع والقص بطرق صحيحة وآمنة
معيار الأداء	يُسمي أدوات القص والقطع اليديوية واستخداماتها	السنة الدراسية / الفصل الدراسي	2024 الفصل الثالث
اسم الطالب/ة	وعر	اسم المجموعة	

السؤال الأول	ان يضع الطالب دائرة على ادوات المستخدمة في القص
--------------	---



✓



نموذج اختبار

• يظهر معرفة بأنواع القياسات والأشكال الهندسية المختلفة المستخدمة في النجارة		مخرج التعلم	يُظهر معرفة ومهارة في تصنيع المنتجات الخشبية	اسم الوحدة
الفصل الثالث	2024	السنة الدراسية / الفصل الدراسي	يرسم الشكل المطلوب بشكل صحيح	معياري الأداء
		اسم المجموعة	معامه	اسم الطالب/ة

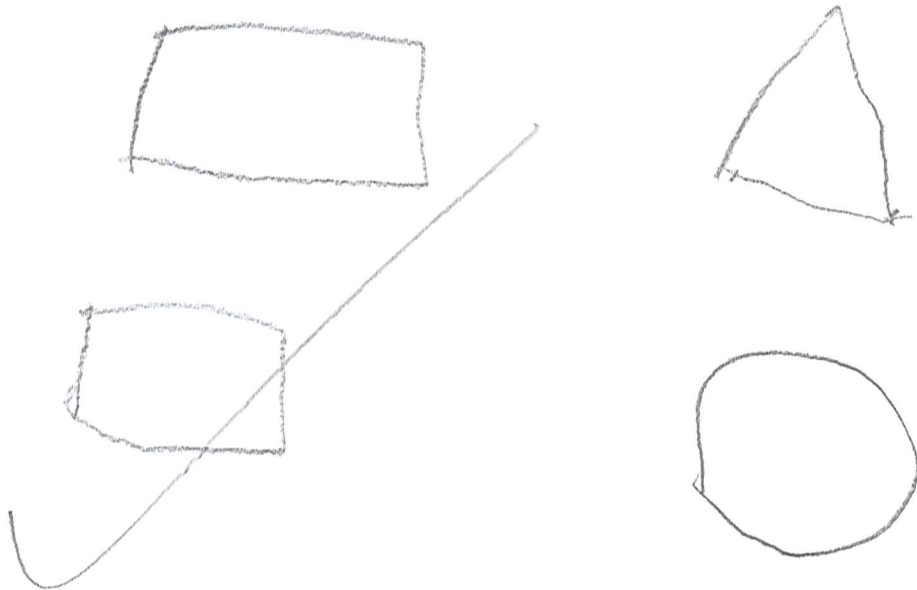
السؤال الأول	ارسم شكل (مثلث او مربع) على اللوحة الجدارية.
--------------	--





نموذج اختبار			
اسم الوحدة	يُظهر معرفة ومهارة في تصنيع المنتجات الخشبية	مخرج التعلم	• يظهر معرفة بأنواع القياسات والأشكال الهندسية المختلفة المستخدمة في النجارة
معياري الأداء	يرسم الشكل المطلوب بشكل صحيح	السنة الدراسية / الفصل الدراسي	2024
اسم الطالب/ة	نوريه	اسم المجموعة	الفصل الثالث

السؤال الأول	ارسم شكل (مثلث او مربع) على اللوحة الجدارية.
--------------	--





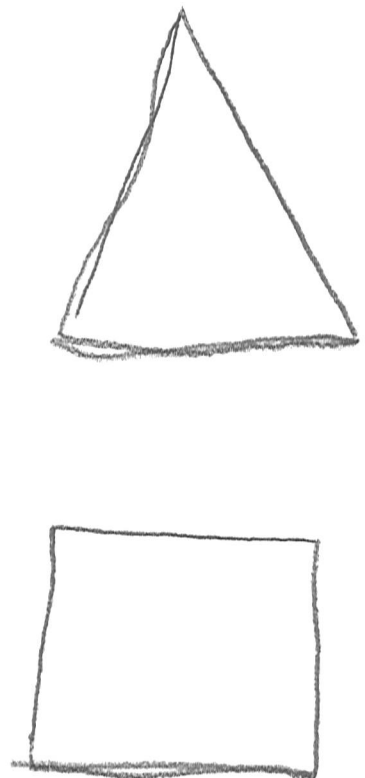
نموذج اختبار

• يظهر معرفة بأنواع القياسات والأشكال الهندسية المختلفة المستخدمة في النجارة		مخرج التعلم	يُظهر معرفة ومهارة في تصنيع المنتجات الخشبية	اسم الوحدة
الفصل الثالث	2024	السنة الدراسية / الفصل الدراسي	يرسم الشكل المطلوب بشكل صحيح	معيار الأداء
		اسم المجموعة	اسم الطالب/ة	

اسم

ارسم شكل (مثلث او مربع) على اللوحة الجدارية.

السؤال الأول





نموذج اختبار			
اسم الوحدة	يُظهر معرفة ومهارة في تصنيع المنتجات الخشبية	مخرج التعلم	• يظهر معرفة بأنواع القياسات والأشكال الهندسية المختلفة المستخدمة في النجارة
معييار الأداء	يرسم الشكل المطلوب بشكل صحيح	السنة الدراسية / الفصل الدراسي	2024
اسم الطالب/ة	حارة	اسم المجموعة	الفصل الثالث

السؤال الأول	ارسم شكل (مثلث او مربع) على اللوحة الجدارية.
--------------	--

لجميع الطلبة
المتفهمين



نموذج اختبار

• يظهر معرفة بأنواع القياسات والأشكال الهندسية المختلفة المستخدمة في النجارة		مخرج التعلم	يُظهر معرفة ومهارة في تصنيع المنتجات الخشبية	اسم الوحدة
الفصل الثالث	2024	السنة الدراسية / الفصل الدراسي	يرسم الشكل المطلوب بشكل صحيح	معياري الأداء
		اسم المجموعة	وعر	اسم الطالب/ة

السؤال الأول	ارسم شكل (مثلث او مربع) على اللوحة الجدارية.
--------------	--

