

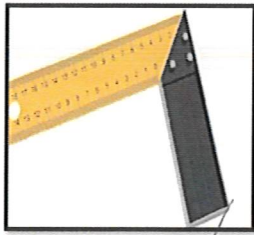




الاختبار 6			
وسائل القياس			
اسم الوحدة	يُظهر معرفة ومهارة في تصنيع المنتجات الخشبية	مخرج التعلم	• يظهر معرفة بأنواع القياسات والأشكال الهندسية المختلفة المستخدمة في النجارة
معياري الأداء	يُميز وسائل القياسات المستخدمة في النجارة. يأخذ المقاس المطلوب بشكل صحيح.	السنة الدراسية / الفصل الدراسي	2024 الفصل الأول
اسم الطالب/ة		اسم المجموعة	

السؤال الأول
صل الكلمات المناسبة للاداء المستخدمة في القياس



الزاوية القائمة

المسطرة



المتر المنكسر

المتر الشريطي



الاختبار 6			
وسائل القياس			
اسم الوحدة	يُظهر معرفة ومهارة في تصنيع المنتجات الخشبية	مخرج التعلم	• يظهر معرفة بأنواع القياسات والأشكال الهندسية المختلفة المستخدمة في النجارة
معياري الأداء	يُميز وسائل القياسات المستخدمة في النجارة. يأخذ المقاس المطلوب بشكل صحيح.	السنة الدراسية / الفصل الدراسي	2024 الفصل الأول
اسم الطالب/ة	AHAB	اسم المجموعة	AHAB

السؤال الأول	صل الكلمات المناسبة للاداء المستخدمة في القياس
--------------	--






المتر الشريطي - المتر المنكسر - المسطرة - الزاوية القائمة

30



الاختبار 6			
وسائل القياس			
اسم الوحدة	يُظهر معرفة ومهارة في تصنيع المنتجات الخشبية	مخرج التعلم	• يظهر معرفة بأنواع القياسات والأشكال الهندسية المختلفة المستخدمة في النجارة
معياري الأداء	يُميز وسائل القياسات المستخدمة في النجارة. يأخذ المقاس المطلوب بشكل صحيح.	السنة الدراسية / الفصل الدراسي	2024
اسم الطالب/ة	صحیح	اسم المجموعة	الفصل الأول

السؤال الأول
صل الكلمات المناسبة للاداء المستخدمة في القياس



الزاوية القائمة

المسطرة

المتري المنكسر

المتري الشريطي

✓

✓

✓


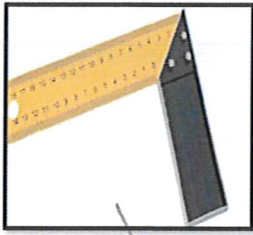
✓

60



الاختبار 6			
وسائل القياس			
اسم الوحدة	يُظهر معرفة ومهارة في تصنيع المنتجات الخشبية	مخرج التعلم	• يظهر معرفة بأنواع القياسات والأشكال الهندسية المختلفة المستخدمة في النجارة
معياري الأداء	يُميز وسائل القياسات المستخدمة في النجارة. يأخذ المقاس المطلوب بشكل صحيح.	السنة الدراسية / الفصل الدراسي	2024 الفصل الأول
اسم الطالب/ة	اسم المجموعة	اسم المجموعة	

السؤال الأول	صل الكلمات المناسبة للاداء المستخدمة في القياس
--------------	--



المتري الشريطي - المتري المنكسر - المسطرة - الزاوية القائمة

✓

✓

✓

✓

70