

الاختبار 7


تمييز الاشكال الهندسية

يظهر معرفة بأنواع القياسات والأشكال الهندسية المختلفة المستخدمة في النجارة	مخرج التعلم	يُظهر معرفة ومهارة في تصنيع المنتجات الخشبية	اسم الوحدة
الفصل الثالث	2024	السنة الدراسية / الفصل الدراسي	معيار الأداء
	اسم المجموعة	الاسم	اسم الطالب/ة

اختار كل شكل بما يتناسب معه

السؤال الاول

90




الاختبار 7

تمييز الاشكال الهندسية

اسم الوحدة	يُظهر معرفة ومهارة في تصنيع المنتجات الخشبية	مخرج التعلم	يظهر معرفة بأنواع القياسات والأشكال الهندسية المختلفة المستخدمة في النجارة
معيار الأداء	يُميز بين الأشكال الهندسية المختلفة	السنة الدراسية / الفصل الدراسي	2024 الفصل الثالث
اسم الطالب/ة	BARB	اسم المجموعة	BARB

السؤال الاول اختار كل شكل بما يتناسب معه

30








الاختبار 7

تمييز الاشكال الهندسية

يظهر معرفة بأنواع القياسات والأشكال الهندسية المختلفة المستخدمة في النجارة	مخرج التعلم	يُظهر معرفة ومهارة في تصنيع المنتجات الخشبية	اسم الوحدة
الفصل الثالث	2024	السنة الدراسية / الفصل الدراسي	معايير الأداء
		اسم المجموعة	اسم الطالب/ة

السؤال الاول اختار كل شكل بما يتناسب معه

460



