




نموذج اختبار

• يظهر معرفة بأنواع القياسات والأشكال الهندسية المختلفة المستخدمة في النجارة		مخرج التعلم	يُظهر معرفة ومهارة في تصنيع المنتجات الخشبية	اسم الوحدة
الفصل الثالث	2024	السنة الدراسية / الفصل الدراسي	يرسم الشكل المطلوب بشكل صحيح	معياري الأداء
2		اسم المجموعة	نور	اسم الطالب/ة

السؤال الأول	ارسم شكل (مثلث او مربع) على اللوحة الجدارية.
--------------	--






نموذج اختبار

• يظهر معرفة بأنواع القياسات والأشكال الهندسية المختلفة المستخدمة في النجارة		مخرج التعلم	يُظهر معرفة ومهارة في تصنيع المنتجات الخشبية	اسم الوحدة
الفصل الثالث	2024	السنة الدراسية / الفصل الدراسي	يرسم الشكل المطلوب بشكل صحيح	معياري الأداء
2		اسم المجموعة	ربيع	اسم الطالب/ة

السؤال الأول	ارسم شكل (مثلث او مربع) على اللوحة الجدارية.
--------------	--



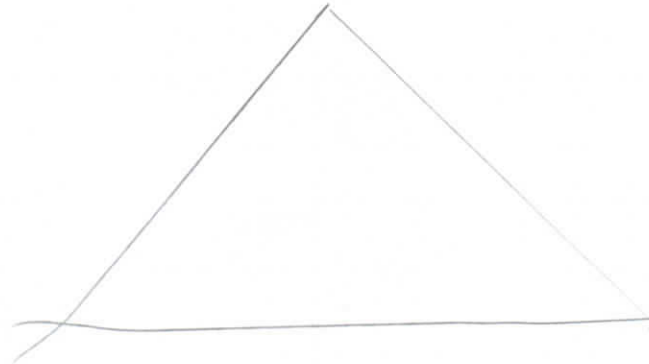


نموذج اختبار

• يظهر معرفة بأنواع القياسات والأشكال الهندسية المختلفة المستخدمة في النجارة		مخرج التعلم	يُظهر معرفة ومهارة في تصنيع المنتجات الخشبية	اسم الوحدة
الفصل الثالث	2024	السنة الدراسية / الفصل الدراسي	يرسم الشكل المطلوب بشكل صحيح	معييار الأداء
ع		اسم المجموعة	محمد طاهر	اسم الطالب/ة

ارسم شكل (مثلث او مربع) على اللوحة الجدارية.

السؤال الأول





نموذج اختبار				
• يظهر معرفة بأنواع القياسات والأشكال الهندسية المختلفة المستخدمة في النجارة		مخرج التعلم	يُظهر معرفة ومهارة في تصنيع المنتجات الخشبية	اسم الوحدة
الفصل الثالث	2024	السنة الدراسية / الفصل الدراسي	يرسم الشكل المطلوب بشكل صحيح	معياري الأداء
2		اسم المجموعة	محمد سالم	اسم الطالب/ة

السؤال الأول	ارسم شكل (مثلث او مربع) على اللوحة الجدارية.
--------------	--

