




نموذج اختبار				
• يظهر معرفة بأنواع القياسات والأشكال الهندسية المختلفة المستخدمة في النجارة		مخرج التعلم	يُظهر معرفة ومهارة في تصنيع المنتجات الخشبية	اسم الوحدة
الفصل الثالث	2024	السنة الدراسية / الفصل الدراسي	يرسم الشكل المطلوب بشكل صحيح	معيار الأداء
١		اسم المجموعة	أريب	اسم الطالب/ة


السؤال الأول	ارسم شكل (مثلث او مربع) على اللوحة الجدارية.
--------------	--





نموذج اختبار				
• يظهر معرفة بأنواع القياسات والأشكال الهندسية المختلفة المستخدمة في النجارة		مخرج التعلم	يُظهر معرفة ومهارة في تصنيع المنتجات الخشبية	اسم الوحدة
الفصل الثالث	2024	السنة الدراسية / الفصل الدراسي	يرسم الشكل المطلوب بشكل صحيح	معيار الأداء
		اسم المجموعة	ليثم	اسم الطالب/ة

السؤال الأول	ارسم شكل (مثلث او مربع) على اللوحة الجدارية.
--------------	--






نموذج اختبار

• يظهر معرفة بأنواع القياسات والأشكال الهندسية المختلفة المستخدمة في النجارة		مخرج التعلم	يُظهر معرفة ومهارة في تصنيع المنتجات الخشبية	اسم الوحدة
الفصل الثالث	2024	السنة الدراسية / الفصل الدراسي	يرسم الشكل المطلوب بشكل صحيح	معياري الأداء
		اسم المجموعة	خوسن	اسم الطالب/ة

ارسم شكل (مثلث او مربع) على اللوحة الجدارية.

السؤال الأول





نموذج اختبار

• يظهر معرفة بأنواع القياسات والأشكال الهندسية المختلفة المستخدمة في النجارة		مخرج التعلم	يُظهر معرفة ومهارة في تصنيع المنتجات الخشبية	اسم الوحدة
الفصل الثالث	2024	السنة الدراسية / الفصل الدراسي	يرسم الشكل المطلوب بشكل صحيح	معياري الأداء
١		اسم المجموعة	ر	اسم الطالب/ة

السؤال الأول	ارسم شكل (مثلث او مربع) على اللوحة الجدارية.
--------------	--

