



اختبار 27


الأدوات والأجهزة الحادة

يلتزم بشروط وإجراءات الأمن والسلامة في مكان العمل		مخرج التعلم	يظهر معرفة ومهارة في أعمال الصيانة العامة	اسم الوحدة
الفصل الثالث	2024	السنة الدراسية / الفصل الدراسي	يستخدم الأدوات والأجهزة الحادة بطريقة صحيحة وآمنة	معيار الأداء
		اسم المجموعة	البريد	اسم الطالب/ة

أسئلة الإختبار

السؤال الأول

حدد المكان الخطر من خلال الصور التي أمامك :





70 ✓





اختبار 27

الأدوات والأجهزة الحادة

يلتزم بشروط وإجراءات الأمن والسلامة في مكان العمل		مخرج التعلم	يظهر معرفة ومهارة في أعمال الصيانة العامة	اسم الوحدة
الفصل الثالث	2024	السنة الدراسية / الفصل الدراسي	يستخدم الأدوات والأجهزة الحادة بطريقة صحيحة وآمنة	معيار الأداء
		اسم المجموعة		اسم الطالب/ة


أسئلة الإختبار

السؤال الأول

حدد المكان الخطر من خلال الصور التي أمامك :




70%





اختبار 27

الأدوات والأجهزة الحادة

يلتزم بشروط وإجراءات الأمن والسلامة في مكان العمل		مخرج التعلم	يظهر معرفة ومهارة في أعمال الصيانة العامة	اسم الوحدة
الفصل الثالث	2024	السنة الدراسية / الفصل الدراسي	يستخدم الأدوات والأجهزة الحادة بطريقة صحيحة وآمنة	معيار الأداء
		اسم المجموعة		اسم الطالب/ة

أسئلة الإختبار

السؤال الأول

حدد المكان الخطر من خلال الصور التي أمامك :



1/100





اختبار 27


الأدوات والأجهزة الحادة

يلتزم بشروط وإجراءات الأمن والسلامة في مكان العمل		مخرج التعلم	يظهر معرفة ومهارة في أعمال الصيانة العامة	اسم الوحدة
الفصل الثالث	2024	السنة الدراسية / الفصل الدراسي	يستخدم الأدوات والأجهزة الحادة بطريقة صحيحة وأمنة	معيار الأداء
		اسم المجموعة	اسم الطالب/ة	

أسئلة الإختبار

السؤال الأول

حدد المكان الخطر من خلال الصور التي أمامك :



100 %
✓

