




الاختبار			
اسم الوحدة	يُظهر معرفة ومهارة في تصنيع المنتجات الخشبية	مخرج التعلم	يُشكل القطع الخشبية باستخدام الغراء والمسامير والبراغي والدّسر
معيار الأداء	يطبق تشكيل وتثبيت المنتجات الخشبية من خلال استخدام طريقة التعشيق وتحضير الأدوات اللازمة للعمل	السنة الدراسية / الفصل الدراسي	2024 الفصل الثالث
اسم الطالب/ة	أمينة أحمد العفلي	اسم المجموعة	26
السؤال الأول	ضع دائرة على ادوات الصحيحة لطريقة استخدام تعشيق الخشب		





نموذج اختبار

يُظهر معرفة بأنواع أدوات القص الأساسية في الصيانة واستخداماتها		مخرج التعلم	يظهر معرفة ومهارة في أعمال الصيانة العامة	اسم الوحدة
الفصل الثالث	2024	السنة الدراسية / الفصل الدراسي	يشرح أو يعبر عن طريقة عمل المقص الكهربائي	معياري الأداء
26		اسم المجموعة	أمينه أحمد العيسى	اسم الطالب/ة

أسئلة الاختبار



أسئلة الاختبار	
صل بين الصور بين معدات القص واستخداماتها	السؤال الأول





نموذج اختبار				
يُظهر معرفة بأنواع أدوات القص الأساسية في الصيانة واستخداماتها		مخرج التعلم	يظهر معرفة ومهارة في أعمال الصيانة العامة	اسم الوحدة
الفصل الثالث	2024	السنة الدراسية / الفصل الدراسي	يُميز بين أدوات ومعدات القص واستخداماته	معيّار الأداء
26		اسم المجموعة	أمينه أحمد العقبى	اسم الطالب/ة

أسئلة الاختبار	
حدد آلة المقص الحديد	السؤال الاول





نموذج اختبار				
يستخدم أدوات القص الأساسية في الصيانة وفق الطرق الصحيحة		مخرج التعلم	يظهر معرفة ومهارة في أعمال الصيانة العامة	اسم الوحدة
الفصل الثالث	2024	السنة الدراسية / الفصل الدراسي	يُميز بين المقص الكهربائي وجهاز الجراند	معياري الأداء
26		اسم المجموعة	أمينه أحمد الكعبي	اسم الطالب/ة

أسئلة الاختبار	
اختر من بين الصور جهاز الجراند	السؤال الأول

