

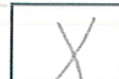

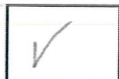
نموذج اختبار 15

الفرق بين المقص الكهربائي وجهاز الجرانند

اسم الوحدة	يظهر معرفة ومهارة في أعمال الصيانة العامة	مخرج التعلم	يستخدم أدوات القص الأساسية في الصيانة وفق الطرق الصحيحة
معيار الأداء	يتميز بين المقص الكهربائي وجهاز الجرانند	السنة الدراسية / الفصل الدراسي	2024 الفصل الثالث
اسم الطالب/ة	البراءة لزيد	اسم المجموعة	

أسئلة الاختبار

السؤال الأول	اختر من بين الصور جهاز الجرانند
--------------	---------------------------------



نموذج اختبار 15

الفرق بين المقص الكهربائي وجهاز الجراند

اسم الوحدة	يظهر معرفة ومهارة في أعمال الصيانة العامة	مخرج التعلم	يستخدم أدوات القص الأساسية في الصيانة وفق الطرق الصحيحة
معيار الأداء	يتميز بين المقص الكهربائي وجهاز الجراند	السنة الدراسية / الفصل الدراسي	2024 الفصل الثالث
اسم الطالب/ة	AAR	اسم المجموعة	AH BAB

أسئلة الاختبار

السؤال الأول	اختر من بين الصور جهاز الجراند
--------------	--------------------------------




نموذج اختبار 15

الفرق بين المقص الكهربائي وجهاز الجرانند

اسم الوحدة	يظهر معرفة ومهارة في أعمال الصيانة العامة	مخرج التعلم	يستخدم أدوات القص الأساسية في الصيانة وفق الطرق الصحيحة
معيار الأداء	يتميز بين المقص الكهربائي وجهاز الجرانند	السنة الدراسية / الفصل الدراسي	2024 الفصل الثالث
اسم الطالب/ة		اسم المجموعة	

أسئلة الاختبار

السؤال الأول	اختر من بين الصور جهاز الجرانند
--------------	---------------------------------



نموذج اختبار 15

الفرق بين المقص الكهربائي وجهاز الجران

اسم الوحدة	يظهر معرفة ومهارة في أعمال الصيانة العامة	مخرج التعلم	يستخدم أدوات القص الأساسية في الصيانة وفق الطرق الصحيحة
معيار الأداء	يتميز بين المقص الكهربائي وجهاز الجران	السنة الدراسية / الفصل الدراسي	2024 الفصل الثالث
اسم الطالب/ة	عبدالله النوري	اسم المجموعة	

أسئلة الاختبار

السؤال الأول	اختر من بين الصور جهاز الجران
--------------	-------------------------------

