

نموذج اختبار

يستخدم أدوات الصيانة الأساسية وفق الطرق الصحيحة واحتياجاتها		مخرج التعلم	يظهر معرفة ومهارة في أعمال الصيانة العامة	اسم الوحدة
الفصل الثالث	2024	السنة الدراسية / الفصل الدراسي	جميع معايير الوحدة	معيير الأداء
2		اسم المجموعة	الخيار	اسم الطالب/ة

أسئلة الاختبار

السؤال الاول	حدد نوع المفك المناسب لكل نوع من البراغي
السؤال الثاني	ضع علامة (✓) على أداة الشد



السؤال الاول: حدد نوع المفك المناسب لكل نوع من البراغي (كتابة الرقم)

2



1



		نوع البرغي
2	1	رقم المفك المناسب

نموذج اختبار

اسم الوحدة	يظهر معرفة ومهارة في أعمال الصيانة العامة	مخرج التعلم	يستخدم أدوات الصيانة الأساسية وفق الطرق الصحيحة واحتياجاتها
معيول الأداء	جميع معايير الوحدة	السنة الدراسية / الفصل الدراسي	الفصل الثالث
اسم الطالب/ة	و ع ر	اسم المجموعة	2024

أسئلة الاختبار

السؤال الاول	حدد نوع المفك المناسب لكل نوع من البراغي
السؤال الثاني	ضع علامة (✓) على أداة الشد



السؤال الاول: حدد نوع المفك المناسب لكل نوع من البراغي (كتابة الرقم)

2



1



نوع البرغي		
رقم المفك المناسب		

نموذج اختبار

يستخدم أدوات الصيانة الأساسية وفق الطرق الصحيحة واحتياجاتها		مخرج التعلم	يظهر معرفة ومهارة في أعمال الصيانة العامة	اسم الوحدة
الفصل الثالث	2024	السنة الدراسية / الفصل الدراسي	جميع معايير الوحدة	معيير الأداء
2		اسم المجموعة	٤٥	اسم الطالب/ة

أسئلة الاختبار

السؤال الاول	حدد نوع المفك المناسب لكل نوع من البراغي
السؤال الثاني	ضع علامة (✓) على أداة الشد



السؤال الاول: حدد نوع المفك المناسب لكل نوع من البراغي (كتابة الرقم)

2



1



		نوع البرغي
2	1	رقم المفك المناسب

نموذج اختبار

يستخدم أدوات الصيانة الأساسية وفق الطرق الصحيحة واحتياجاتها		مخرج التعلم	يظهر معرفة ومهارة في أعمال الصيانة العامة	اسم الوحدة
الفصل الثالث	2024	السنة الدراسية / الفصل الدراسي	جميع معايير الوحدة	معيار الأداء
2		اسم المجموعة	حلمة	اسم الطالب/ة

أسئلة الاختبار

السؤال الاول	حدد نوع المفك المناسب لكل نوع من البراغي
السؤال الثاني	ضع علامة (✓) على أداة الشد




السؤال الاول: حدد نوع المفك المناسب لكل نوع من البراغي (كتابة الرقم)

2



1



		نوع البرغي
2		رقم المفك المناسب

نموذج اختبار

اسم الوحدة	يظهر معرفة ومهارة في أصل الصيانة العامة	مخرج التعلم	يستخدم أدوات الصيانة الأساسية وفق الطرق الصحيحة واحتياجاتها
معايير الأداء	جميع معايير الوحدة	السنة الدراسية / الفصل الدراسي	2024
اسم الطالب/ة	أه	اسم المجموعة	2
اسم الطالب/ة	أه	اسم المجموعة	2

أسئلة الاختبار

السؤال الاول	حدد نوع المفك المناسب لكل نوع من البراغي
السؤال الثاني	ضع علامة (✓) على أداة الشد



السؤال الاول: حدد نوع المفك المناسب لكل نوع من البراغي (كتابة الرقم)

2



1



نوع البرغي		نوع البرغي	
رقم المفك المناسب		نوع البرغي	





نموذج اختبار

يُظهر معرفة بأنواع أدوات القص الأساسية في الصيانة واستخداماتها		مخرج التعلم	يظهر معرفة ومهارة في أعمال الصيانة العامة	اسم الوحدة
الفصل الثالث	2024	السنة الدراسية / الفصل الدراسي	يُميز بين أدوات ومعدات القص واستخداماته	معياري الأداء
2		اسم المجموعة	يوريه	اسم الطالب/ة

أسئلة الاختبار

حدد آلة المقص الحديد	السؤال الاول
----------------------	--------------



نموذج اختبار				
يُظهر معرفة بأنواع أدوات القص الأساسية في الصيانة واستخداماتها		مخرج التعلم	يظهر معرفة ومهارة في أعمال الصيانة العامة	اسم الوحدة
الفصل الثالث	2024	السنة الدراسية / الفصل الدراسي	يُميز بين المقص الكهربائي وجهاز الجراند واستخداماتها	معياري الأداء
		اسم المجموعة	151	اسم الطالب/ة


أسئلة الاختبار	
حدد آلة المقص الكهربائي	السؤال الأول





نموذج اختبار				
يُظهر معرفة بأنواع أدوات القص الأساسية في الصيانة واستخداماتها		مخرج التعلم	يظهر معرفة ومهارة في أعمال الصيانة العامة	اسم الوحدة
الفصل الثالث	2024	السنة الدراسية / الفصل الدراسي	يُميز بين أدوات ومعدات القص واستخداماته	معياري الأداء
2		اسم المجموعة	10	اسم الطالب/ة

أسئلة الاختبار	
حدد آلة المقص الحديد	السؤال الاول




نموذج اختبار

يُظهر معرفة بأنواع أدوات القص الأساسية في الصيانة واستخداماتها		مخرج التعلم	يظهر معرفة ومهارة في أعمال الصيانة العامة	اسم الوحدة
الفصل الثالث	2024	السنة الدراسية / الفصل الدراسي	يُميز بين المقص الكهربائي وجهاز الجرانر واستخداماتها	معياري الأداء
		اسم المجموعة	١٤٩	اسم الطالب/ة

أسئلة الاختبار



حدد آلة المقص الكهربائي	السؤال الأول
-------------------------	--------------





نموذج اختبار				
يُظهر معرفة بأنواع أدوات القص الأساسية في الصيانة واستخداماتها		مخرج التعلم	يظهر معرفة ومهارة في أعمال الصيانة العامة	اسم الوحدة
الفصل الثالث	2024	السنة الدراسية / الفصل الدراسي	يُميز بين أدوات ومعدات القص واستخداماته	معياري الأداء
		اسم المجموعة	وعر	اسم الطالب/ة



أسئلة الاختبار	
حدد آلة المقص الحديد	السؤال الاول





نموذج اختبار			
يُظهر معرفة بأنواع أدوات القص الأساسية في الصيانة واستخداماتها	مخرج التعلم	يظهر معرفة ومهارة في أعمال الصيانة العامة	اسم الوحدة
الفصل الثالث	2024	السنة الدراسية / الفصل الدراسي	يُميز بين أدوات ومعدات القص واستخداماته
2	اسم المجموعة	حماة	اسم الطالب/ة

أسئلة الاختبار	
حدد آلة المقص الحديد	السؤال الاول



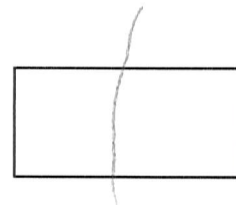



نموذج اختبار

يُظهر معرفة بأنواع أدوات القص الأساسية في الصيانة واستخداماتها		مخرج التعلم	يظهر معرفة ومهارة في أعمال الصيانة العامة	اسم الوحدة
الفصل الثالث	2024	السنة الدراسية / الفصل الدراسي	يُميز بين أدوات ومعدات القص واستخداماته	معياري الأداء
2		اسم المجموعة	خالد	اسم الطالب/ة

أسئلة الاختبار

حدد آلة المقص الحديد		السؤال الاول
----------------------	--	--------------





نموذج اختبار

يُظهر معرفة بأنواع أدوات القص الأساسية في الصيانة واستخداماتها		مخرج التعلم	يظهر معرفة ومهارة في أعمال الصيانة العامة	اسم الوحدة
الفصل الثالث	2024	السنة الدراسية / الفصل الدراسي	يُميز بين المقص الكهربائي وجهاز الجرانر واستخداماتها	معياري الأداء
		اسم المجموعة	قارن	اسم الطالب/ة


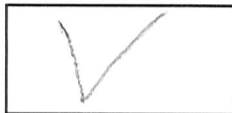
أسئلة الاختبار

حدد آلة المقص الكهربائي	السؤال الأول
-------------------------	--------------



نموذج اختبار				
يُظهر معرفة بأنواع أدوات القص الأساسية في الصيانة واستخداماتها		مخرج التعلم	يظهر معرفة ومهارة في أعمال الصيانة العامة	اسم الوحدة
الفصل الثالث	2024	السنة الدراسية / الفصل الدراسي	يُميز بين المقص الكهربائي وجهاز الجراند واستخداماتها	معياري الأداء
		اسم المجموعة	سماحه	اسم الطالب/ة



أسئلة الاختبار	
حدد آلة المقص الكهربائي	السؤال الأول





نموذج اختبار				
يستخدم أدوات القص الأساسية في الصيانة وفق الطرق الصحيحة		مخرج التعلم	يظهر معرفة ومهارة في أعمال الصيانة العامة	اسم الوحدة
الفصل الثالث	2024	السنة الدراسية / الفصل الدراسي	يُميز بين المقص الكهربائي وجهاز الجراند	معييار الأداء
2		اسم المجموعة	صمامه	اسم الطالب/ة


أسئلة الاختبار	
اختر من بين الصور جهاز الجراند	السؤال الأول





نموذج اختبار				
يستخدم أدوات القص الأساسية في الصيانة وفق الطرق الصحيحة		مخرج التعلم	يظهر معرفة ومهارة في أعمال الصيانة العامة	اسم الوحدة
الفصل الثالث	2024	السنة الدراسية / الفصل الدراسي	يُميز بين المقص الكهربائي وجهاز الجراند	معييار الأداء
2		اسم المجموعة	توريه	اسم الطالب/ة

أسئلة الاختبار	
اختر من بين الصور جهاز الجراند	السؤال الأول





نموذج اختبار

يستخدم أدوات الصيانة الأساسية وفق الطرق الصحيحة واحتياجاتها		مخرج التعلم	يظهر معرفة ومهارة في أعمال الصيانة العامة	اسم الوحدة
الفصل الثالث	2024	السنة الدراسية / الفصل الدراسي	جميع معايير المخرج	معياري الأداء
		اسم المجموعة	حوريه	اسم الطالب/ة

أسئلة الاختبار

السؤال الاول	رتب الصور حسب الترتيب الصحيح لخطوات استخدام مفك البراغي:
--------------	--



مسك المقبض باليد اليمنى بالطريقة الصحيحة	تحديد نوع المفك المناسب للبراغي المراد استخدامها	لف مفك البراغي من اليمين إلى اليسار (حسب اتجاه البرغي)	وصف الخطوة
1	2	3	رقم الخطوة



أسئلة الاختبار

ضع دائرة على المفك

السؤال الثاني




نموذج اختبار

يُظهر معرفة بأنواع أدوات القص الأساسية في الصيانة واستخداماتها		مخرج التعلم	يظهر معرفة ومهارة في أعمال الصيانة العامة	اسم الوحدة
الفصل الثالث	2024	السنة الدراسية / الفصل الدراسي	يُميز بين المقص الكهربائي وجهاز الجرانند واستخداماتها	معيّار الأداء
		اسم المجموعة	سورية	اسم الطالب/ة



أسئلة الاختبار

حدد آلة المقص الكهربائي	السؤال الأول
-------------------------	--------------



نموذج اختبار			
يُظهر معرفة بأنواع أدوات القص الأساسية في الصيانة واستخداماتها	مخرج التعلم	يظهر معرفة ومهارة في أعمال الصيانة العامة	اسم الوحدة
الفصل الثالث	2024	السنة الدراسية / الفصل الدراسي	يشرح أو يعبر عن طريقة عمل المقص الكهربائي
2	اسم المجموعة	حنا	اسم الطالب/ة

أسئلة الاختبار	
صل بين الصور بين معدات القص واستخداماتها	السؤال الأول




مقص كهربائي



نموذج اختبار			
يُظهر معرفة بأنواع أدوات القص الأساسية في الصيانة واستخداماتها	مخرج التعلم	يظهر معرفة ومهارة في أعمال الصيانة العامة	اسم الوحدة
الفصل الثالث	2024	السنة الدراسية / الفصل الدراسي	يشرح أو يعبر عن طريقة عمل المقص الكهربائي
		اسم المجموعة	اسم الطالب/ة
			١٥١

أسئلة الاختبار	
صل بين الصور بين معدات القص واستخداماتها	السؤال الأول





نموذج اختبار

يُظهر معرفة بأنواع أدوات القص الأساسية في الصيانة واستخداماتها		مخرج التعلم	يظهر معرفة ومهارة في أعمال الصيانة العامة	اسم الوحدة
الفصل الثالث	2024	السنة الدراسية / الفصل الدراسي	يشرح أو يعبر عن طريقة عمل المقص الكهربائي	معياري الأداء
		اسم المجموعة	وحر	اسم الطالب/ة

أسئلة الاختبار

صل بين الصور بين معدات القص واستخداماتها		السؤال الأول
--	--	--------------



نموذج اختبار

يُظهر معرفة بأنواع أدوات القص الأساسية في الصيانة واستخداماتها		مخرج التعلم	يظهر معرفة ومهارة في أعمال الصيانة العامة	اسم الوحدة
الفصل الثالث	2024	السنة الدراسية / الفصل الدراسي	يشرح أو يعبر عن طريقة عمل المقص الكهربائي	معياري الأداء
~		اسم المجموعة	عامه	اسم الطالب/ة

أسئلة الاختبار

صل بين الصور بين معدات القص واستخداماتها		السؤال الأول
--	--	--------------



نموذج اختبار

يُظهر معرفة بأنواع أدوات القص الأساسية في الصيانة واستخداماتها		مخرج التعلم	يظهر معرفة ومهارة في أعمال الصيانة العامة	اسم الوحدة
الفصل الثالث	2024	السنة الدراسية / الفصل الدراسي	يشرح أو يعبر عن طريقة عمل المقص الكهربائي	معياري الأداء
2		اسم المجموعة	لوزرع	اسم الطالب/ة

أسئلة الاختبار

صل بين الصور بين معدات القص واستخداماتها		السؤال الأول
--	--	--------------





نموذج اختبار			
اسم الوحدة	يظهر معرفة ومهارة في أعمال الصيانة العامة	مخرج التعلم	يستخدم أدوات الصيانة الأساسية وفق الطرق الصحيحة واحتياجاتها
معياري الأداء	جميع معايير المخرج	السنة الدراسية / الفصل الدراسي	2024
اسم الطالب/ة	حارر	اسم المجموعة	2

أسئلة الاختبار	
السؤال الاول	رتب الصور حسب الترتيب الصحيح لخطوات استخدام مفك البراغي:



وصف الخطوة	لف مفك البراغي من اليمين إلى اليسار (حسب اتجاه البرغي)	تحديد نوع المفك المناسب للبراغي المراد استخدامها	مسك المقبض باليد اليمنى بالطريقة الصحيحة
رقم الخطوة			



أسئلة الاختبار


ضع دائرة على المفك

السؤال الثاني



نموذج اختبار			
اسم الوحدة	يظهر معرفة ومهارة في أعمال الصيانة العامة	مخرج التعلم	يستخدم أدوات الصيانة الأساسية وفق الطرق الصحيحة واحتياجاتها
معيار الأداء	جميع معايير المخرج	السنة الدراسية / الفصل الدراسي	2024
اسم الطالب/ة	اله	اسم المجموعة	7

أسئلة الاختبار	
السؤال الاول	رتب الصور حسب الترتيب الصحيح لخطوات استخدام مفك البراغي:



وصف الخطوة	لف مفك البراغي من اليمين إلى اليسار (حسب اتجاه البرغي)	تحديد نوع المفك المناسب للبراغي المراد استخدامها	مسك المقبض باليد اليمنى بالطريقة الصحيحة
رقم الخطوة	3	2	1

نموذج اختبار			
اسم الوحدة	يظهر معرفة ومهارة في أعمال الصيانة العامة	مخرج التعلم	يستخدم أدوات الصيانة الأساسية وفق الطرق الصحيحة واحتياجاتها
معيار الأداء	جميع معايير المخرج	السنة الدراسية / الفصل الدراسي	2024
اسم الطالب/ة	وع	اسم المجموعة	2

أسئلة الاختبار	
السؤال الاول	رتب الصور حسب الترتيب الصحيح لخطوات استخدام مفك البراغي:





وصف الخطوة	لف مفك البراغي من اليمين إلى اليسار (حسب اتجاه البرغي)	تحديد نوع المفك المناسب للبراغي المراد استخدامها	مسك المقبض باليد اليمنى بالطريقة الصحيحة
رقم الخطوة	3	2	1



أسئلة الاختبار

ضع دائرة على المفك

السؤال الثاني






أسئلة الاختبار

ضع دائرة على المفك


السؤال الثاني





نموذج اختبار				
يستخدم أدوات الصيانة الأساسية وفق الطرق الصحيحة واحتياجاتها		مخرج التعلم	يظهر معرفة ومهارة في أعمال الصيانة العامة	اسم الوحدة
الفصل الثالث	2024	السنة الدراسية / الفصل الدراسي	جميع معايير المخرج	معياري الأداء
2		اسم المجموعة	مهام	اسم الطالب/ة

أسئلة الاختبار	
السؤال الاول	رتب الصور حسب الترتيب الصحيح لخطوات استخدام مفك البراغي:



مسك المقبض باليد اليمنى بالطريقة الصحيحة	تحديد نوع المفك المناسب للبراغي المراد استخدامها	لف مفك البراغي من اليمين إلى اليسار (حسب اتجاه البرغي)	وصف الخطوة
1	2	3	رقم الخطوة



أسئلة الاختبار

ضع دائرة على المفك

السؤال الثاني

