



نموذج اختبار 16

الفرق بين المقص الكهربائي وجهاز الجرانند واستخداماتها

يُظهر معرفة بأنواع أدوات القص الأساسية في الصيانة واستخداماتها	مخرج التعلم	يظهر معرفة ومهارة في أعمال الصيانة العامة	اسم الوحدة	
الفصل الثالث	2024	السنة الدراسية / الفصل الدراسي	يُميز بين المقص الكهربائي وجهاز الجرانند واستخداماتها	معيار الأداء
		اسم المجموعة	البرازيل	اسم الطالب/ة

أسئلة الاختبار

حدد آلة المقص الكهربائي	السؤال الأول
-------------------------	--------------



نموذج اختبار 16

الفرق بين المقص الكهربائي وجهاز الجرانر واستخداماتها



يُظهر معرفة بأنواع أدوات القص الأساسية في الصيانة واستخداماتها	مخرج التعلم	يظهر معرفة ومهارة في أعمال الصيانة العامة	اسم الوحدة	
الفصل الثالث	2024	السنة الدراسية / الفصل الدراسي	يُميز بين المقص الكهربائي وجهاز الجرانر واستخداماتها	معياري الأداء
HHH	اسم المجموعة	A B	اسم الطالب/ة	

أسئلة الاختبار

حدد آلة المقص الكهربائي	السؤال الأول
-------------------------	--------------



X



X



نموذج اختبار 16

الفرق بين المقص الكهربائي وجهاز الجرانيد واستخداماتها

يُظهر معرفة بأنواع أدوات القص الأساسية في الصيانة واستخداماتها	مخرج التعلم	يظهر معرفة ومهارة في أعمال الصيانة العامة	اسم الوحدة	
الفصل الثالث	2024	السنة الدراسية / الفصل الدراسي	يُميز بين المقص الكهربائي وجهاز الجرانيد واستخداماتها	معياري الأداء
	اسم المجموعة	ما	اسم الطالب/ة	

أسئلة الاختبار

حدد آلة المقص الكهربائي	السؤال الأول
-------------------------	--------------



نموذج اختبار 16

الفرق بين المقص الكهربائي وجهاز الجرانند واستخداماتها

يُظهر معرفة بأنواع أدوات القص الأساسية في الصيانة واستخداماتها	مخرج التعلم	يظهر معرفة ومهارة في أعمال الصيانة العامة	اسم الوحدة
الفصل الثالث	2024	السنة الدراسية / الفصل الدراسي	معياري الأداء
		اسم المجموعة	اسم الطالب/ة

أسئلة الاختبار

حدد آلة المقص الكهربائي	السؤال الأول
-------------------------	--------------

