


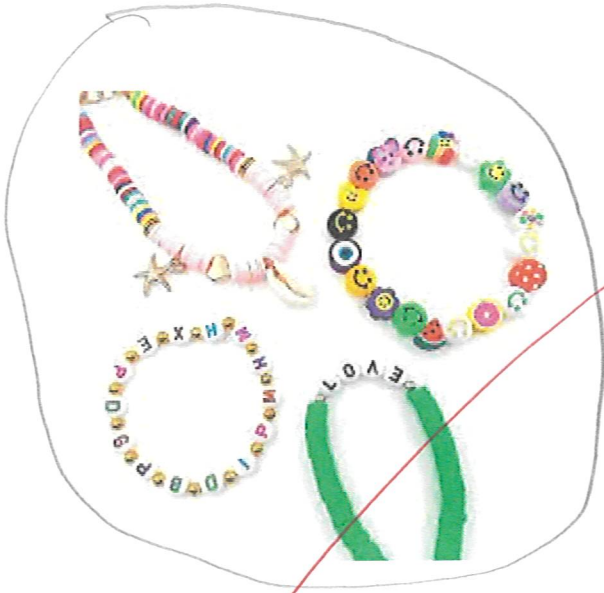
نموذج اختبار 16 تصميم منتجات الكروشيه والخرز			
اسم الوحدة	يُظهر معرفة ومهارة في تصنيع المنتجات اليدوية	مخرج التعلم	• يستخدم الأدوات اللازمة لتصنيع المنتجات اليدوية من أنواع الإكسسوارات بطريقة صحيحة وأمنة
معايير الأداء	<ul style="list-style-type: none">• يصمم المنتجات المصنوعة من خيوط الكروشيه بخطوات متسلسلة بطريقة صحيحة وأمنة.• يصمم المنتجات المصنوعة من الخرز و الاحجار بخطوات متسلسلة بطريقة صحيحة وأمنة.	السنة الدراسية / الفصل الدراسي	2024 الفصل الثالث
اسم الطالب/ة	زييد عمران	اسم المجموعة	

اسئلة الاختبار	
السؤال الأول	ضع دائرة حول المنتجات المصنوعة من خيوط الكروشيه تطبيق عملي لمنتج مصنوع من خيوط الكروشيه




اسئلة الاختبار

السؤال الثاني : ضع دائرة حول المنتجات من الخرز و الاحجار



نموذج اختبار 16			
تصميم منتجات الكروشيه والخرز			
اسم الوحدة	يُظهر معرفة ومهارة في تصنيع المنتجات اليدوية	مخرج التعلم	• يستخدم الأدوات اللازمة لتصنيع المنتجات اليدوية من أنواع الإكسسوارات بطريقة صحيحة وأمنة
معيار الأداء	• يصمم المنتجات المصنوعة من خيوط الكروشيه بخطوات متسلسلة بطريقة صحيحة وأمنة. • يصمم المنتجات المصنوعة من الخرز و الاحجار بخطوات متسلسلة بطريقة صحيحة وأمنة.	السنة الدراسية / الفصل الدراسي	2024
اسم الطالب/ة	فاخرة علي أحمد المنصوري	اسم المجموعة	الفصل الثالث

اسئلة الاختبار	
السؤال الأول	ضع دائرة حول المنتجات المصنوعة من خيوط الكروشيه تطبيق عملي لمنتج مصنوع من خيوط الكروشيه



اسئلة الاختبار


السؤال الثاني : ضع دائرة حول المنتجات من الخرز و الاحجار



نموذج اختبار 16			
تصميم منتجات الكروشيه والخرز			
اسم الوحدة	يظهر معرفة ومهارة في تصنيع المنتجات اليدوية	مخرج التعلم	• يستخدم الأدوات اللازمة لتصنيع المنتجات اليدوية من أنواع الإكسسوارات بطريقة صحيحة وأمنة
معيار الأداء	• يصمم المنتجات المصنوعة من خيوط الكروشيه بخطوات متسلسلة بطريقة صحيحة وأمنة. • يصمم المنتجات المصنوعة من الخرز و الاحجار بخطوات متسلسلة بطريقة صحيحة وأمنة.	السنة الدراسية / الفصل الدراسي	2024 الفصل الثالث
اسم الطالب/ة	سليمان سالم	اسم المجموعة	

اسئلة الاختبار

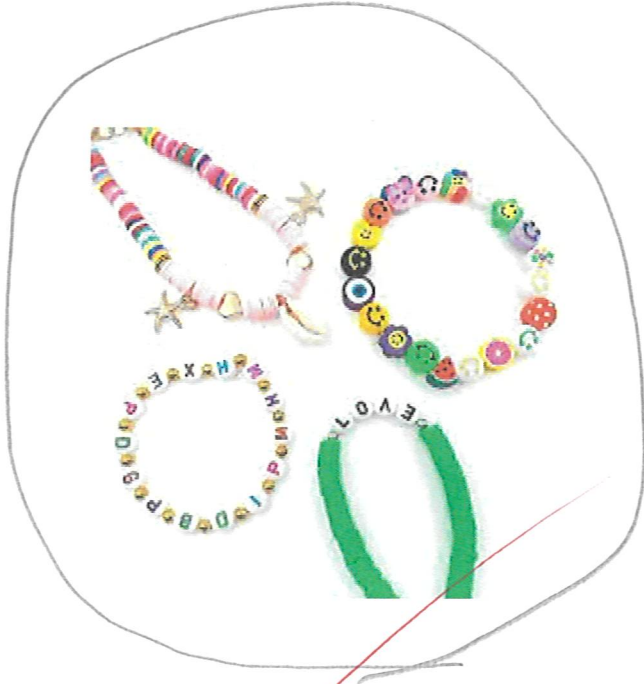
السؤال الأول	ضع دائرة حول المنتجات المصنوعة من خيوط الكروشيه تطبيق عملي لمنتج مصنوع من خيوط الكروشيه
--------------	--



اسئلة الاختبار



ساجي سالم

السؤال الثاني : ضع دائرة حول المنتجات من الخرز و الاحجار



نموذج اختبار 16			
تصميم منتجات الكروشيه والخرز			
اسم الوحدة	يُظهر معرفة ومهارة في تصنيع المنتجات اليدوية	مخرج التعلم	• يستخدم الأدوات اللازمة لتصنيع المنتجات اليدوية من أنواع الإكسسوارات بطريقة صحيحة وأمنة
معيار الأداء	• يصمم المنتجات المصنوعة من خيوط الكروشيه بخطوات متسلسلة بطريقة صحيحة وأمنة. • يصمم المنتجات المصنوعة من الخرز و الأحجار بخطوات متسلسلة بطريقة صحيحة وأمنة.	السنة الدراسية / الفصل الدراسي	2024 الفصل الثالث
اسم الطالب/ة	بختيار	اسم المجموعة	

اسئلة الاختبار	
السؤال الأول	ضع دائرة حول المنتجات المصنوعة من خيوط الكروشيه تطبيق عملي لمننح مصنوع من خيوط الكروشيه



اسئلة الاختبار

السؤال الثاني : ضع دائرة حول المنتجات من الخرز و الاحجار

