



نموذج اختبار 17 تنفيذ تصميم المنتجات			
اسم الوحدة	يُظهر معرفة ومهارة في تصنيع المنتجات اليدوية	مخرج التعلم	• يستخدم الأدوات اللازمة لتصنيع المنتجات اليدوية من أنواع الإكسسوارات بطريقة صحيحة وأمنة
معيار الأداء	• يصمم المنتجات المصنوعة من خيوط الكروشية بخطوات متسلسلة بطريقة صحيحة وأمنة. • يصمم المنتجات المصنوعة من الخرز و الاحجار بخطوات متسلسلة بطريقة صحيحة وأمنة.	السنة الدراسية / الفصل الدراسي	2024 الفصل الثالث
اسم الطالب/ة	اسم المجموعة	Handwritten student and group names	

اسئلة الاختبار	
السؤال الأول	ضع دائرة حول المنتجات المصنوعة من الخيوط



اسئلة الاختبار




السؤال الثاني : ضع دائرة حول المنتجات المصنوعة من الريزن





نموذج اختبار 17 تنفيذ تصميم المنتجات			
اسم الوحدة	يظهر معرفة ومهارة في تصنيع المنتجات اليدوية	مخرج التعلم	• يستخدم الأدوات اللازمة لتصنيع المنتجات اليدوية من أنواع الإكسسوارات بطريقة صحيحة وأمنة
معياري الأداء	• يصمم المنتجات المصنوعة من خيوط الكروشية بخطوات متسلسلة بطريقة صحيحة وأمنة. • يصمم المنتجات المصنوعة من الخرز و الاحجار بخطوات متسلسلة بطريقة صحيحة وأمنة.	السنة الدراسية الفصل / الدراسي	2024 الفصل الثالث
اسم الطالب/ة	البراءة لاسلمة	اسم المجموعة	


اسئلة الاختبار	
السؤال الأول	ضع دائرة حول المنتجات المصنوعة من الخيوط



اسئلة الاختبار

السؤال الثاني : ضع دائرة حول المنتجات المصنوعة من الريزن

البراك سلة



X




A red scribble or signature mark.



نموذج اختبار 17 تنفيذ تصميم المنتجات			
اسم الوحدة	يظهر معرفة ومهارة في تصنيع المنتجات اليدوية	مخرج التعلم	• يستخدم الأدوات اللازمة لتصنيع المنتجات اليدوية من أنواع الإكسسوارات بطريقة صحيحة وأمنة
معياري الأداء	• يصمم المنتجات المصنوعة من خيوط الكروشية بخطوات متسلسلة بطريقة صحيحة وأمنة. • يصمم المنتجات المصنوعة من الخرز و الاحجار بخطوات متسلسلة بطريقة صحيحة وأمنة.	السنة الدراسية الفصل / الدراسي	2024 الفصل الثالث
اسم الطالب/ة		اسم المجموعة	

اسئلة الاختبار	
السؤال الأول	ضع دائرة حول المنتجات المصنوعة من الخيوط






اسئلة الاختبار

كس


السؤال الثاني : ضع دائرة حول المنتجات المصنوعة من الريزن





نموذج اختبار 17 تنفيذ تصميم المنتجات			
اسم الوحدة	يُظهر معرفة ومهارة في تصنيع المنتجات اليدوية	مخرج التعلم	• يستخدم الأدوات اللازمة لتصنيع المنتجات اليدوية من أنواع الإكسسوارات بطريقة صحيحة وأمنة
معياري الأداء	• يصمم المنتجات المصنوعة من خيوط الكروشية بخطوات متسلسلة بطريقة صحيحة وأمنة. • يصمم المنتجات المصنوعة من الخرز و الاحجار بخطوات متسلسلة بطريقة صحيحة وأمنة.	السنة الدراسية / الفصل الدراسي	2024 الفصل الثالث
اسم الطالب/ة	أحمد عبد الله العنوري	اسم المجموعة	

اسئلة الاختبار	
السؤال الأول	ضع دائرة حول المنتجات المصنوعة من الخيوط



اسئلة الاختبار

السؤال الثاني : ضع دائرة حول المنتجات المصنوعة من الريزن

