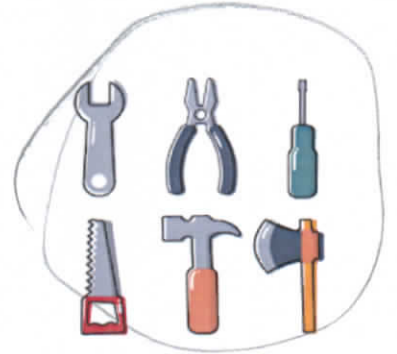
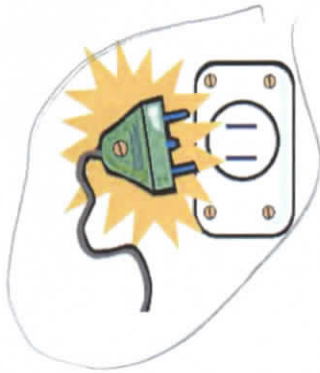


نموذج اختبار الاختبار الأول

اسم الوحدة		يُظهر معرفة ومهارة في تصنيع المنتجات اليدوية	مخرج التعلم	• يلتزم بشروط وإجراءات الأمن والسلامة في مكان العمل
اسم الطالب/ة	محمد عيسى	• ينفذ تعليمات وإرشادات الأمن والسلامة في بيئة العمل. • يُظهر معرفة بالمواد والأدوات والأماكن الخطرة في بيئة العمل.	السنة الدراسية / الفصل الدراسي	2024
اسم المجموعة	ع		الفصل الثالث	

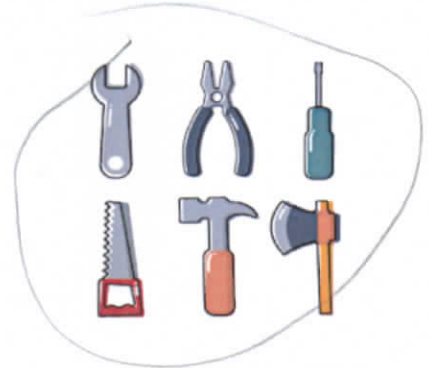
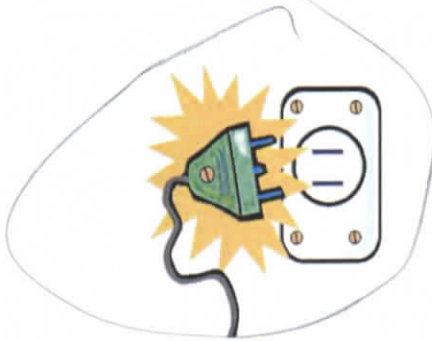
أسئلة الاختبار

السؤال الأول
1- ضع دائرة حول الأدوات والمواد الخطرة في بيئة العمل في الصورة التي أمامك 2- تطبيق عملي (اصنع طفافية حريق باستخدام الورق المقوى والصمغ)



نموذج اختبار الاختبار الأول		اسم الوحدة	يُظهر معرفة ومهارة في تصنيع المنتجات اليدوية	مخرج التعلم	• يلتزم بشروط وإجراءات الأمن والسلامة في مكان العمل
اسم الطالب/ة	محمد سالم	اسم المجموعة	2	السنة الدراسية / الفصل الدراسي	2024
معايير الأداء	• ينفذ تعليمات وإرشادات الأمن والسلامة في بيئة العمل. • يُظهر معرفة بالمواد والأدوات والأماكن الخطرة في بيئة العمل.	اسم الوحدة	اسم المجموعة	2024	الفصل الثالث

أسئلة الاختبار	
السؤال الأول	1- ضع دائرة حول الأدوات والمواد الخطرة في بيئة العمل في الصورة التي أمامك 2- تطبيق عملي (اصنع طفافية حريق باستخدام الورق المقوى والصمغ)



نموذج اختبار الاختبار الأول

اسم الوحدة	يُظهر معرفة ومهارة في تصنيع المنتجات اليدوية	مخرج التعلم	• يلتزم بشروط وإجراءات الأمن والسلامة في مكان العمل
معيار الأداء	<ul style="list-style-type: none">• ينفذ تعليمات وإرشادات الأمن والسلامة في بيئة العمل.• يُظهر معرفة بالمواد والأدوات والأماكن الخطرة في بيئة العمل.	السنة الدراسية / الفصل الدراسي	2024 الفصل الثالث
اسم الطالب/ة	٢	اسم المجموعة	٢

أسئلة الاختبار

السؤال الأول
1- ضع دائرة حول الأدوات والمواد الخطرة في بيئة العمل في الصورة التي أمامك 2- تطبيق عملي (اصنع طفافية حريق باستخدام الورق المقوى والصمغ)

