

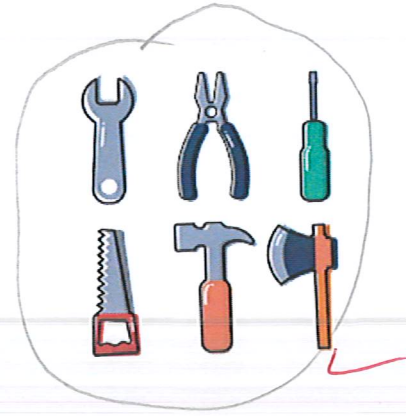




نموذج اختبار الاختبار الأول		اسم الوحدة
• يلتزم بشروط وإجراءات الأمن والسلامة في مكان العمل	مخرج التعلم	يُظهر معرفة ومهارة في تصنيع المنتجات اليدوية
الفصل الثالث	2024	السنة الدراسية / الفصل الدراسي
		• ينفذ تعليمات وإرشادات الأمن والسلامة في بيئة العمل. • يُظهر معرفة بالمواد والأدوات والأماكن الخطرة في بيئة العمل.
	اسم المجموعة	البراهمة
		اسم الطالب/ة

أسئلة الاختبار

السؤال الأول

- 1- ضع دائرة حول الأدوات والمواد الخطرة في بيئة العمل في الصورة التي أمامك
- 2- تطبيق عملي (اصنع طفاية حريق باستخدام الورق المقوى والصمغ)

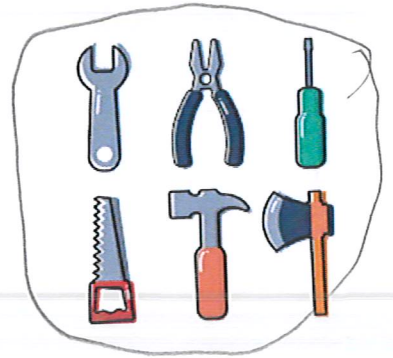




٧,٩٥



نموذج اختبار الاختبار الأول		اسم الوحدة
• يلتزم بشروط وإجراءات الأمن والسلامة في مكان العمل	مخرج التعلم	يُظهر معرفة ومهارة في تصنيع المنتجات اليدوية
الفصل الثالث	2024	معايير الأداء
	السنة الدراسية / الفصل الدراسي	• ينفذ تعليمات وإرشادات الأمن والسلامة في بيئة العمل. • يُظهر معرفة بالمواد والأدوات والأماكن الخطرة في بيئة العمل.
	اسم المجموعة	اسم الطالب/ة

أسئلة الاختبار	
السؤال الأول	1- ضع دائرة حول الأدوات والمواد الخطرة في بيئة العمل في الصورة التي أمامك 2- تطبيق عملي (اصنع طفاية حريق باستخدام الورق المقوى والصمغ)



60

(Handwritten signature)





نموذج اختبار الاختبار الأول		اسم الوحدة
• يلتزم بشروط وإجراءات الأمن والسلامة في مكان العمل	مخرج التعلم	يُظهر معرفة ومهارة في تصنيع المنتجات اليدوية
الفصل الثالث	2024	معيار الأداء
	السنة الدراسية / الفصل الدراسي	• ينفذ تعليمات وإرشادات الأمن والسلامة في بيئة العمل. • يُظهر معرفة بالمواد والأدوات والأماكن الخطرة في بيئة العمل.
	اسم المجموعة	اسم الطالب/ة

أسئلة الاختبار

السؤال الأول

- 1- ضع دائرة حول الأدوات والمواد الخطرة في بيئة العمل في الصورة التي أمامك ✓
- 2- تطبيق عملي (اصنع طفاية حريق باستخدام الورق المقوى والصمغ) ✓


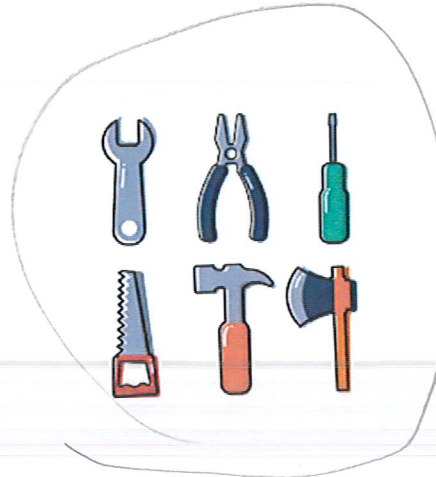




90



نموذج اختبار الاختبار الأول		اسم الوحدة
• يلتزم بشروط وإجراءات الأمن والسلامة في مكان العمل	مخرج التعلم	يُظهر معرفة ومهارة في تصنيع المنتجات اليدوية
الفصل الثالث	2024	معيار الأداء
	السنة الدراسية / الفصل الدراسي	• ينفذ تعليمات وإرشادات الأمن والسلامة في بيئة العمل. • يُظهر معرفة بالمواد والأدوات والأماكن الخطرة في بيئة العمل.
	اسم المجموعة	اسم الطالب/ة فاطمة محمد العبدوي

أسئلة الاختبار	
السؤال الأول	1- ضع دائرة حول الأدوات والمواد الخطرة في بيئة العمل في الصورة التي أمامك 2- تطبيق عملي (اصنع طفاية حريق باستخدام الورق المقوى والصمغ)



X. 100