




16

Zayed Higher Organization
for People of Determination






مؤسسة زايد العليا
لأصحاب الهمم

الاختبار			
يُشكل القطع الخشبية باستخدام الغراء والمسامير والبراغي والدّسر	مخرج التعلم	يُظهر معرفة ومهارة في تصنيع المنتجات الخشبية	اسم الوحدة
الفصل الثالث	2024	السنة الدراسية / الفصل الدراسي	معيّار الأداء
٢	اسم المجموعة	محمد جابر	اسم الطالب/ة
ضع علامة صح على الادوات اللازمة لتثبيت المسامير			السؤال الأول





الاختبار			
اسم الوحدة	يُظهر معرفة ومهارة في تصنيع المنتجات الخشبية	مخرج التعلم	يُشكل القطع الخشبية باستخدام الغراء والمسامير والبراغي والدّسر
معيّار الأداء	يطبق تشكيل وتثبيت المنتجات الخشبية من خلال استخدام المسامير وتحضير الأدوات اللازمة للعمل	السنة الدراسية / الفصل الدراسي	2024 الفصل الثالث
اسم الطالب/ة	س ح س ع	اسم المجموعة	٢
السؤال الأول	ضع علامة صح على الادوات اللازمة لتثبيت المسامير		





الاختبار			
يُشكل القطع الخشبية باستخدام الغراء والمسامير والبراغي والدّسر	مخرج التعلم	يُظهر معرفة ومهارة في تصنيع المنتجات الخشبية	اسم الوحدة
الفصل الثالث	2024	السنة الدراسية / الفصل الدراسي	معيّار الأداء
ع		اسم المجموعة	اسم الطالب/ة
ضع علامة صح على الادوات اللازمة لتثبيت المسامير			السؤال الأول

