

### نموذج اختبار

اسم الوحدة		يُظهر معرفة ومهارة في تصنيع المنتجات اليدوية	مخرج التعلم	• يستخدم الأدوات اللازمة لتصنيع المنتجات اليدوية من أنواع الإكسسوارات بطريقة صحيحة وأمنة .
اسم الطالب/ة	و ع ر	اسم المجموعة	السنة الدراسية / الفصل الدراسي	2023-2024 الفصل الثالث
معيار الأداء	• يحضر الأدوات الخاصة بصناعة الحلّي والإكسسوارات. • يصمم المصوغات المصنوعة من الخرز والأحجار بخطوات متسلسلة بطريقة صحيحة وأمنة.			

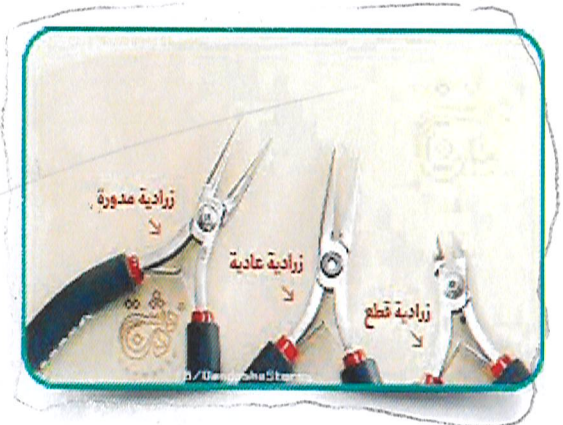
### الاسئلة الاختبار

السؤال الأول	ضع دائرة على الأدوات الخاصة بصناعة الحلّي والإكسسوارات.
السؤال الثاني	عمل شكل من مادة الريزن

ضع دائرة على الأدوات الخاصة بصناعة الحلّي والإكسسوارات.



د



✓


### نموذج اختبار

اسم الوحدة		يُظهر معرفة ومهارة في تصنيع المنتجات اليدوية	مخرج التعلم	• يستخدم الأدوات اللازمة لتصنيع المنتجات اليدوية من أنواع الإكسسوارات بطريقة صحيحة وآمنة .
اسم الطالب/ة	صالح	اسم المجموعة	2023-2024	الفصل الثالث
معيار الأداء	• يحضر الأدوات الخاصة بصناعة الحلبي والإكسسوارات. • يصمم المصوغات المصنوعة من الخرز والأحجار بخطوات متسلسلة بطريقة صحيحة وآمنة.	السنة الدراسية / الفصل الدراسي		

### الاسئلة الاختبار

السؤال الأول	ضع دائرة على الأدوات الخاصة بصناعة الحلبي والإكسسوارات.
السؤال الثاني	عمل شكل من مادة الريزن

ضع دائرة على الأدوات الخاصة بصناعة الحلبي والإكسسوارات.





### نموذج اختبار

• يستخدم الأدوات اللازمة لتصنيع المنتجات اليدوية من أنواع الإكسسوارات بطريقة صحيحة وأمنة .		مخرج التعلم	يُظهر معرفة ومهارة في تصنيع المنتجات اليدوية	اسم الوحدة
الفصل الثالث	2023-2024	السنة الدراسية / الفصل الدراسي	• يحضر الأدوات الخاصة بصناعة الحلبي والإكسسوارات. • يصمم المصوغات المصنوعة من الخرز والأحجار بخطوات متسلسلة بطريقة صحيحة وأمنة.	معياري الأداء
		اسم المجموعة	أبت	اسم الطالب/ة

### الاسئلة الاختبار

السؤال الأول	ضع دائرة على الأدوات الخاصة بصناعة الحلبي والإكسسوارات.
السؤال الثاني	عمل شكل من مادة الريزن

ضع دائرة على الأدوات الخاصة بصناعة الحلبي والإكسسوارات.



### نموذج اختبار

اسم الوحدة		يُظهر معرفة ومهارة في تصنيع المنتجات اليدوية	مخرج التعلم	• يستخدم الأدوات اللازمة لتصنيع المنتجات اليدوية من أنواع الإكسسوارات بطريقة صحيحة وأمنة .
اسم الطالب/ة	توريبه علي العبدون	اسم المجموعة	2023-2024	الفصل الثالث
معياري الأداء	<ul style="list-style-type: none"> <li>• يحضر الأدوات الخاصة بصناعة الحلبي والإكسسوارات.</li> <li>• يصمم المصوغات المصنوعة من الخرز والأحجار بخطوات متسلسلة بطريقة صحيحة وأمنة.</li> </ul>	السنة الدراسية / الفصل الدراسي		


### الاسئلة الاختبار

السؤال الأول	ضع دائرة على الأدوات الخاصة بصناعة الحلبي والإكسسوارات.
السؤال الثاني	عمل شكل من مادة الريزن

ضع دائرة على الأدوات الخاصة بصناعة الحلبي والإكسسوارات.



معاينة



✓



### نموذج اختبار

اسم الوحدة		يظهر معرفة ومهارة في تصنيع المنتجات اليدوية	مخرج التعلم	• يستخدم الأدوات اللازمة لتصنيع المنتجات اليدوية من أنواع الإكسسوارات بطريقة صحيحة وأمنة .
اسم الطالب/ة	حماة	اسم المجموعة	2023-2024	الفصل الثالث
معيار الأداء	• يحضر الأدوات الخاصة بصناعة الحلبي والإكسسوارات. • يصمم المصوغات المصنوعة من الخرز والأحجار بخطوات متسلسلة بطريقة صحيحة وأمنة.	السنة الدراسية / الفصل الدراسي		

### الاسئلة الاختبار

السؤال الأول	ضع دائرة على الأدوات الخاصة بصناعة الحلبي والإكسسوارات.
السؤال الثاني	عمل شكل من مادة الريزن

ضع دائرة على الأدوات الخاصة بصناعة الحلبي والإكسسوارات.



حماة



✓

نموذج اختبار			
اسم الوحدة	يُظهر معرفة ومهارة في تصنيع المنتجات اليدوية	مخرج التعلم	• يستخدم الأدوات اللازمة لتصنيع المنتجات اليدوية من أنواع الإكسسوارات بطريقة صحيحة وأمنة
معيار الأداء	• يصمم المنتجات المصنوعة من خيوط الكروشية بخطوات متسلسلة بطريقة صحيحة وأمنة. • يصمم المنتجات المصنوعة من الخرز و الأحجار بخطوات متسلسلة بطريقة صحيحة وأمنة.	السنة الدراسية / الفصل الدراسي	2024 الفصل الثالث
اسم الطالب/ة	لماة	اسم المجموعة	

اسئلة الاختبار	
السؤال الأول	ضع دائرة حول المنتجات المصنوعة من الخيوط








اسئلة الاختبار

السؤال الثاني : ضع دائرة حول المنتجات المصنوعة من الريزن

صواب



✓

✓





نموذج اختبار			
اسم الوحدة	يُظهر معرفة ومهارة في تصنيع المنتجات اليدوية	مخرج التعلم	• يستخدم الأدوات اللازمة لتصنيع المنتجات اليدوية من أنواع الإكسسوارات بطريقة صحيحة وأمنة
معيار الأداء	• يصمم المنتجات المصنوعة من خيوط الكروشية بخطوات متسلسلة بطريقة صحيحة وأمنة. • يصمم المنتجات المصنوعة من الخرز و الاحجار بخطوات متسلسلة بطريقة صحيحة وأمنة.	السنة الدراسية / الفصل الدراسي	2024 الفصل الثالث
اسم الطالب/ة	تورينة عبد الحكيم	اسم المجموعة	

اسئلة الاختبار	
السؤال الأول	ضع دائرة حول المنتجات المصنوعة من الخيوط








اسئلة الاختبار

السؤال الثاني : ضع دائرة حول المنتجات المصنوعة من الريزن



بوزن



### نموذج اختبار

• يستخدم الأدوات اللازمة لتصنيع المنتجات اليدوية من أنواع الإكسسوارات بطريقة صحيحة وأمنة		مخرج التعلم	يُظهر معرفة ومهارة في تصنيع المنتجات اليدوية	اسم الوحدة
الفصل الثالث	2024	السنة الدراسية / الفصل الدراسي	<ul style="list-style-type: none"><li>• يصمم المنتجات المصنوعة من خيوط الكروشية بخطوات متسلسلة بطريقة صحيحة وأمنة.</li><li>• يصمم المنتجات المصنوعة من الخرز و الاحجار بخطوات متسلسلة بطريقة صحيحة وأمنة.</li></ul>	معيار الأداء
		اسم المجموعة	آيت	اسم الطالب/ة

### اسئلة الاختبار

السؤال الأول	ضع دائرة حول المنتجات المصنوعة من الخيوط
--------------	--









اسئلة الاختبار

السؤال الثاني : ضع دائرة حول المنتجات المصنوعة من الريزن



١٥١

✓

✓




### نموذج اختبار

اسم الوحدة		يُظهر معرفة ومهارة في تصنيع المنتجات اليدوية	مخرج التعلم	• يستخدم الأدوات اللازمة لتصنيع المنتجات اليدوية من أنواع الإكسسوارات بطريقة صحيحة وأمنة
اسم الطالب/ة	طار	• يصمم المنتجات المصنوعة من خيوط الكروشية بخطوات متسلسلة بطريقة صحيحة وأمنة. • يصمم المنتجات المصنوعة من الخرز و الاحجار بخطوات متسلسلة بطريقة صحيحة وأمنة.	السنة الدراسية الفصل / الدراسي	2024 الفصل الثالث
اسم المجموعة				

### اسئلة الاختبار

السؤال الأول	ضع دائرة حول المنتجات المصنوعة من الخيوط
--------------	--








اسئلة الاختبار

السؤال الثاني : ضع دائرة حول المنتجات المصنوعة من الريزن





طاب

2



نموذج اختبار			
اسم الوحدة	يُظهر معرفة ومهارة في تصنيع المنتجات اليدوية	مخرج التعلم	• يستخدم الأدوات اللازمة لتصنيع المنتجات اليدوية من أنواع الإكسسوارات بطريقة صحيحة وأمنة
معيار الأداء	• يصمم المنتجات المصنوعة من خيوط الكروشية بخطوات متسلسلة بطريقة صحيحة وأمنة. • يصمم المنتجات المصنوعة من الخرز و الاحجار بخطوات متسلسلة بطريقة صحيحة وأمنة.	السنة الدراسية / الفصل الدراسي	2024 الفصل الثالث
اسم الطالب/ة	9 عر	اسم المجموعة	

اسئلة الاختبار	
السؤال الأول	ضع دائرة حول المنتجات المصنوعة من الخيوط








اسئلة الاختبار

السؤال الثاني : ضع دائرة حول المنتجات المصنوعة من الريزن



91





### نموذج اختبار

• يستخدم الأدوات اللازمة لتصنيع المنتجات اليدوية من أنواع الإكسسوارات بطريقة صحيحة وآمنة		مخرج التعلم	يظهر معرفة ومهارة في تصنيع المنتجات اليدوية	اسم الوحدة
الفصل الثالث	2024	السنة الدراسية / الفصل الدراسي	<ul style="list-style-type: none"><li>• يصمم المنتجات المصنوعة من خيوط الكروشية بخطوات متسلسلة بطريقة صحيحة وآمنة.</li><li>• يصمم المنتجات المصنوعة من الخرز و الاحجار بخطوات متسلسلة بطريقة صحيحة وآمنة.</li></ul>	معيار الأداء
		اسم المجموعة	صحا صه	اسم الطالب/ة

### اسئلة الاختبار

ضع دائرة حول المنتجات المصنوعة من خيوط الكروشية تطبيق عملي لمنتج مصنوع من خيوط الكروشيه	السؤال الأول
--	--------------







اسئلة الاختبار

السؤال الثاني : ضع دائرة حول المنتجات من الخرز و الاحجار

سماه





### نموذج اختبار

اسم الوحدة		يُظهر معرفة ومهارة في تصنيع المنتجات اليدوية	مخرج التعلم	• يستخدم الأدوات اللازمة لتصنيع المنتجات اليدوية من أنواع الإكسسوارات بطريقة صحيحة وأمنة
اسم الطالب/ة	ايه	اسم المجموعة	2024	الفصل الثالث
معيار الأداء	• يصمم المنتجات المصنوعة من خيوط الكروشية بخطوات متسلسلة بطريقة صحيحة وأمنة. • يصمم المنتجات المصنوعة من الخرز و الاحجار بخطوات متسلسلة بطريقة صحيحة وأمنة.	السنة الدراسية / الفصل الدراسي		

### اسئلة الاختبار

السؤال الأول	ضع دائرة حول المنتجات المصنوعة من خيوط الكروشية تطبيق عملي لمنتج مصنوع من خيوط الكروشيه








اسئلة الاختبار

السؤال الثاني : ضع دائرة حول المنتجات من الخرز و الاحجار




### نموذج اختبار

• يستخدم الأدوات اللازمة لتصنيع المنتجات اليدوية من أنواع الإكسسوارات بطريقة صحيحة وأمنة		مخرج التعلم	يُظهر معرفة ومهارة في تصنيع المنتجات اليدوية	اسم الوحدة
الفصل الثالث	2024	السنة الدراسية / الفصل الدراسي	<ul style="list-style-type: none"><li>• يصمم المنتجات المصنوعة من خيوط الكروشية بخطوات متسلسلة بطريقة صحيحة وأمنة.</li><li>• يصمم المنتجات المصنوعة من الخرز و الاحجار بخطوات متسلسلة بطريقة صحيحة وأمنة.</li></ul>	معياري الأداء
		اسم المجموعة	سورية	اسم الطالب/ة

### اسئلة الاختبار

السؤال الأول	ضع دائرة حول المنتجات المصنوعة من خيوط الكروشية تطبيق عملي لمنتج مصنوع من خيوط الكروشيه
--------------	---







اسئلة الاختبار

السؤال الثاني : ضع دائرة حول المنتجات من الخزف و الاحجار



### نموذج اختبار

• يستخدم الأدوات اللازمة لتصنيع المنتجات اليدوية من أنواع الإكسسوارات بطريقة صحيحة وأمنة		مخرج التعلم	يُظهر معرفة ومهارة في تصنيع المنتجات اليدوية	اسم الوحدة
الفصل الثالث	2024	السنة الدراسية / الفصل الدراسي	<ul style="list-style-type: none"><li>• يصمم المنتجات المصنوعة من خيوط الكروشية بخطوات متسلسلة بطريقة صحيحة وأمنة.</li><li>• يصمم المنتجات المصنوعة من الخرز و الاحجار بخطوات متسلسلة بطريقة صحيحة وأمنة.</li></ul>	معيار الأداء
		اسم المجموعة	طالب	اسم الطالب/ة

### اسئلة الاختبار

السؤال الأول	ضع دائرة حول المنتجات المصنوعة من خيوط الكروشية تطبيق عملي لمنتج مصنوع من خيوط الكروشيه
--------------	--



✓







اسئلة الاختبار

السؤال الثاني : ضع دائرة حول المنتجات من الخرز و الاحجار



طارة




### نموذج اختبار

اسم الوحدة		يُظهر معرفة ومهارة في تصنيع المنتجات اليدوية	مخرج التعلم	• يستخدم الأدوات اللازمة لتصنيع المنتجات اليدوية من أنواع الإكسسوارات بطريقة صحيحة وأمنة
اسم الطالب/ة	وكر	اسم المجموعة	السنة الدراسية الفصل / الدراسي	2024 الفصل الثالث
معيار الأداء	• يصمم المنتجات المصنوعة من خيوط الكروشية بخطوات متسلسلة بطريقة صحيحة وأمنة. • يصمم المنتجات المصنوعة من الخرز و الاحجار بخطوات متسلسلة بطريقة صحيحة وأمنة.			

### اسئلة الاختبار

السؤال الأول	ضع دائرة حول المنتجات المصنوعة من خيوط الكروشية تطبيق عملي لمنتج مصنوع من خيوط الكروشيه
--------------	--







اسئلة الاختبار

السؤال الثاني : ضع دائرة حول المنتجات من الخرز و الاحجار





### نموذج اختبار

• يستخدم الأدوات اللازمة لتصنيع المنتجات اليدوية من أنواع الإكسسوارات بطريقة صحيحة وأمنة		مخرج التعلم	يُظهر معرفة ومهارة في تصنيع المنتجات اليدوية	اسم الوحدة
الفصل الثالث	2024	السنة الدراسية / الفصل الدراسي	<ul style="list-style-type: none"><li>• يصمم المنتجات المصنوعة من الخيوط بخطوات متسلسلة بطريقة صحيحة وأمنة.</li><li>• يصمم المنتجات المصنوعة من مادة (الريزن) بخطوات متسلسلة بطريقة صحيحة وأمنة.</li></ul>	معيان الأداء
		اسم المجموعة	اسم الطالب/ة	

### اسئلة الاختبار

السؤال الأول	ضع دائرة حول المصنوعات من (الخيوط و الريزن)
--------------	---





### نموذج اختبار

اسم الوحدة		يظهر معرفة ومهارة في تصنيع المنتجات اليدوية	مخرج التعلم	• يستخدم الأدوات اللازمة لتصنيع المنتجات اليدوية من أنواع الإكسسوارات بطريقة صحيحة وأمنة
اسم الطالب/ة	اسم المجموعة	• يصمم المنتجات المصنوعة من الخيوط بخطوات متسلسلة بطريقة صحيحة وأمنة. • يصمم المنتجات المصنوعة من مادة (الريزن) بخطوات متسلسلة بطريقة صحيحة وأمنة.	السنة الدراسية / الفصل الدراسي	2024 الفصل الثالث

### اسئلة الاختبار

السؤال الأول	ضع دائرة حول المصنوعات من (الخيوط و الريزن)



### نموذج اختبار

اسم الوحدة		يُظهر معرفة ومهارة في تصنيع المنتجات اليدوية	مخرج التعلم	• يستخدم الأدوات اللازمة لتصنيع المنتجات اليدوية من أنواع الإكسسوارات بطريقة صحيحة وأمنة
اسم الطالب/ة	دور	• يصمم المنتجات المصنوعة من الخيوط بخطوات متسلسلة بطريقة صحيحة وأمنة. • يصمم المنتجات المصنوعة من مادة (الريزن) بخطوات متسلسلة بطريقة صحيحة وأمنة.	السنة الدراسية / الفصل الدراسي	2024
اسم المجموعة			الفصل الثالث	

### اسئلة الاختبار

السؤال الأول	ضع دائرة حول المصنوعات من (الخيوط و الريزن)



✓

✓

✓





### نموذج اختبار

اسم الوحدة		يُظهر معرفة ومهارة في تصنيع المنتجات اليدوية	مخرج التعلم	• يستخدم الأدوات اللازمة لتصنيع المنتجات اليدوية من أنواع الإكسسوارات بطريقة صحيحة وأمنة
اسم الطالب/ة	طار	اسم المجموعة	السنة الدراسية / الفصل الدراسي	2024 الفصل الثالث
معيار الأداء	• يصمم المنتجات المصنوعة من الخيوط بخطوات متسلسلة بطريقة صحيحة وأمنة. • يصمم المنتجات المصنوعة من مادة (الريزن) بخطوات متسلسلة بطريقة صحيحة وأمنة.			

### اسئلة الاختبار

السؤال الأول ضع دائرة حول المصنوعات من (الخيوط و الريزن)



### نموذج اختبار

اسم الوحدة		يُظهر معرفة ومهارة في تصنيع المنتجات اليدوية	مخرج التعلم	• يستخدم الأدوات اللازمة لتصنيع المنتجات اليدوية من أنواع الإكسسوارات بطريقة صحيحة وأمنة
اسم الطالب/ة	9 عر	اسم المجموعة	السنة الدراسية / الفصل الدراسي	2024 الفصل الثالث
معايير الأداء	• يصمم المنتجات المصنوعة من الخيوط بخطوات متسلسلة بطريقة صحيحة وأمنة. • يصمم المنتجات المصنوعة من مادة (الريزن) بخطوات متسلسلة بطريقة صحيحة وأمنة.			

### اسئلة الاختبار

السؤال الأول	ضع دائرة حول المصنوعات من (الخيوط والريزن)
--------------	--

