





الاختبار 16	
طريقة استخدام المسامير	
اسم الوحدة	يُظهر معرفة ومهارة في تصنيع المنتجات الخشبية
مخرج التعلم	يُشكل القطع الخشبية باستخدام الغراء والمسامير والبراغي والدُّسر
معيار الأداء	السنة الدراسية / الفصل الدراسي الدراسي
اسم الطالب/ة	فاخرة علي أحمد المنصوري
اسم المجموعة	2024 الفصل الثالث
السؤال الأول	ضع علامة صح على الادوات اللازمة لتثبيت المسامير






الاختبار 16 طريقة استخدام المسامير			
يُشكل القطع الخشبية باستخدام الغراء والمسامير والبراغي والدُّسر	مخرج التعلم	يُظهر معرفة ومهارة في تصنيع المنتجات الخشبية	اسم الوحدة
2024 الفصل الثالث	السنة الدراسية / الفصل الدراسي	يطبق تشكيل وتثبيت المنتجات الخشبية من خلال استخدام المسامير وتحضير الأدوات اللازمة للعمل	معيار الأداء
	اسم المجموعة	سلمى سالم	اسم الطالب/ة
ضع علامة صح على الادوات اللازمة لتثبيت المسامير			السؤال الأول





الاختبار 16 طريقة استخدام المسامير			
يُشكل القطع الخشبية باستخدام الغراء والمسامير والبراغي والدُّسُر	مخرج التعلم	يُظهر معرفة ومهارة في تصنيع المنتجات الخشبية	اسم الوحدة
2024 الفصل الثالث	السنة الدراسية / الفصل الدراسي	يطبق تشكيل وتثبيت المنتجات الخشبية من خلال استخدام المسامير وتحضير الأدوات اللازمة للعمل	معيار الأداء
	اسم المجموعة	زييد عمران	اسم الطالب/ة
ضع علامة صح على الادوات اللازمة لتثبيت المسامير			السؤال الأول





الاختبار 16			
طريقة استخدام المسامير			
اسم الوحدة	يُظهر معرفة ومهارة في تصنيع المنتجات الخشبية	مخرج التعلم	يُشكل القطع الخشبية باستخدام الغراء والمسامير والبراغي والدّسر
معيار الأداء	يطبق تشكيل وتثبيت المنتجات الخشبية من خلال استخدام المسامير وتحضير الأدوات اللازمة للعمل	السنة الدراسية / الفصل الدراسي	2024 الفصل الثالث
اسم الطالب/ة	بخينة	اسم المجموعة	
السؤال الأول	ضع علامة صح على الادوات اللازمة لتثبيت المسامير		

