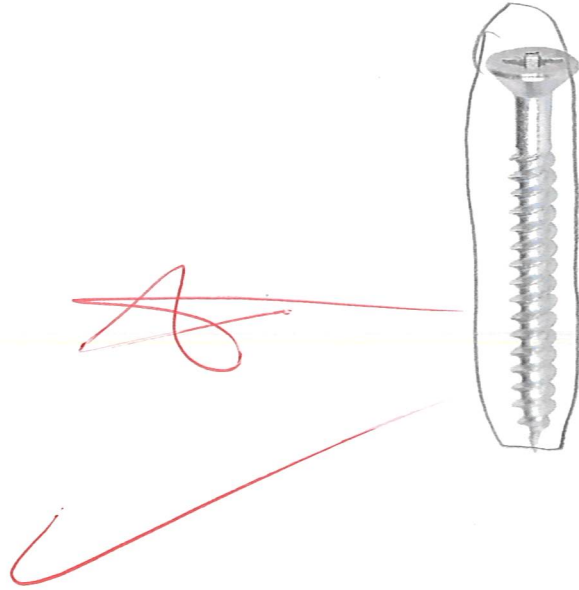




الاختبار 17 طريقة استخدام البراغي

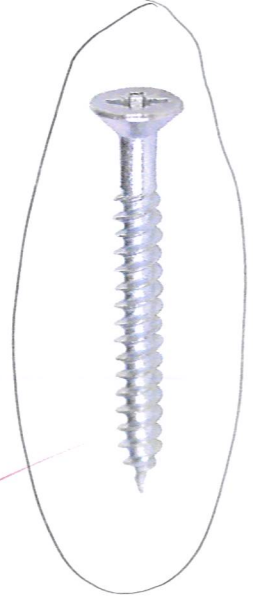

اسم الوحدة	يُظهر معرفة ومهارة في تصنيع المنتجات الخشبية	مخرج التعلم	يُشكل القطع الخشبية باستخدام الغراء والمسامير والبراغي والدّسر
معيار الأداء	يطبق تشكيل وتثبيت المنتجات الخشبية من خلال استخدام البراغي وتحضير الأدوات اللازمة للعمل	السنة الدراسية / الفصل الدراسي	2024 الفصل الثالث
اسم الطالب/ة	زياد عمران	اسم المجموعة	
السؤال الأول	ضع دائرة على صورة البرغي . مع تطبيق طريقة تثبيت البرغي على قطعة الخشب.		





الاختبار 17 طريقة استخدام البراغي

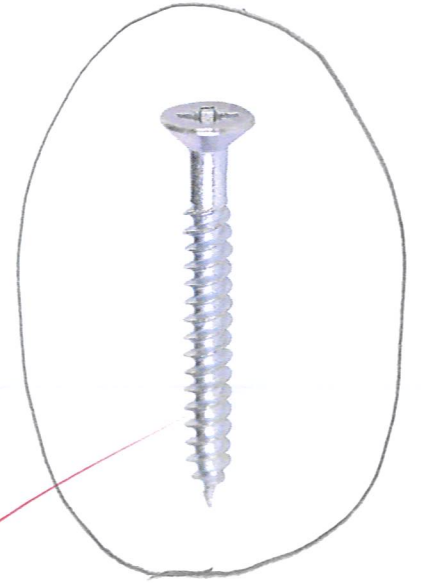
اسم الوحدة	يُظهر معرفة ومهارة في تصنيع المنتجات الخشبية	مخرج التعلم	يُشكل القطع الخشبية باستخدام الغراء والمسامير والبراغي والدُّسر
معيار الأداء	يطبق تشكيل وتثبيت المنتجات الخشبية من خلال استخدام البراغي وتحضير الأدوات اللازمة للعمل	السنة الدراسية / الفصل الدراسي	2024 الفصل الثالث
اسم الطالب/ة	فاخرة علي أحمد المنصوري	اسم المجموعة	
السؤال الأول	ضع دائرة على صورة البرغي . مع تطبيق طريقة تثبيت البرغي على قطعة الخشب.		





الاختبار 17 طريقة استخدام البراغي


اسم الوحدة	يُظهر معرفة ومهارة في تصنيع المنتجات الخشبية	مخرج التعلم	يُشكل القطع الخشبية باستخدام الغراء والمسامير والبراغي والدّسر
معيار الأداء	يطبق تشكيل وتثبيت المنتجات الخشبية من خلال استخدام البراغي وتحضير الأدوات اللازمة للعمل	السنة الدراسية / الفصل الدراسي	2024 الفصل الثالث
اسم الطالب/ة	سليم سالم	اسم المجموعة	
السؤال الأول	ضع دائرة على صورة البرغي . مع تطبيق طريقة تثبيت البرغي على قطعة الخشب.		





الاختبار 17 طريقة استخدام البراغي

اسم الوحدة	يُظهر معرفة ومهارة في تصنيع المنتجات الخشبية	مخرج التعلم	يُشكل القطع الخشبية باستخدام الغراء والمسامير والبراغي والدّسر
معيار الأداء	يطبق تشكيل وتثبيت المنتجات الخشبية من خلال استخدام البراغي وتحضير الأدوات اللازمة للعمل	السنة الدراسية / الفصل الدراسي	2024 الفصل الثالث
اسم الطالب/ة	بجيتة	اسم المجموعة	
السؤال الأول	ضع دائرة على صورة البرغي . مع تطبيق طريقة تثبيت البرغي على قطعة الخشب.		



٤

