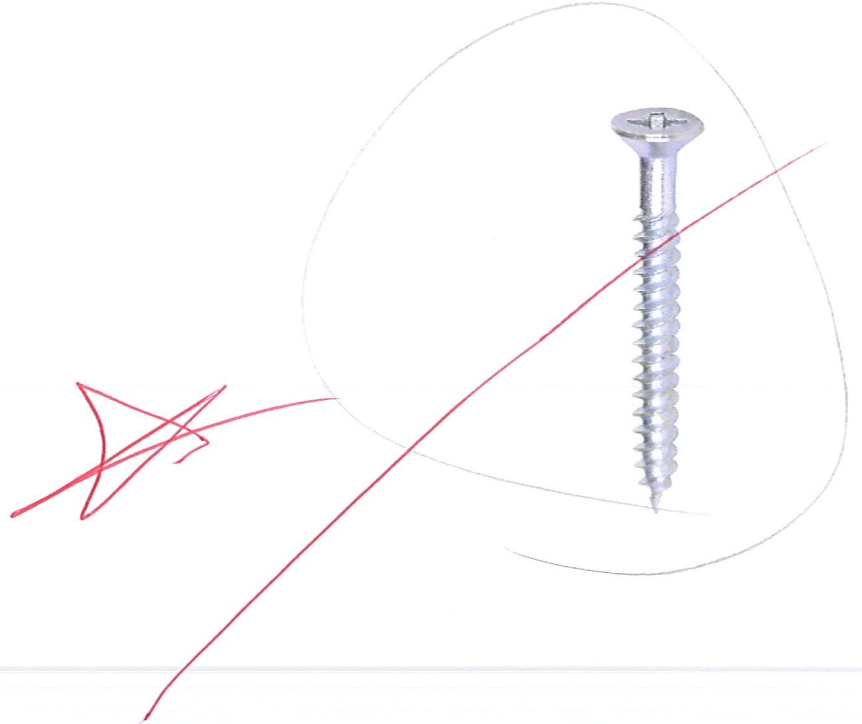




الاختبار 17 طريقة استخدام البراغي

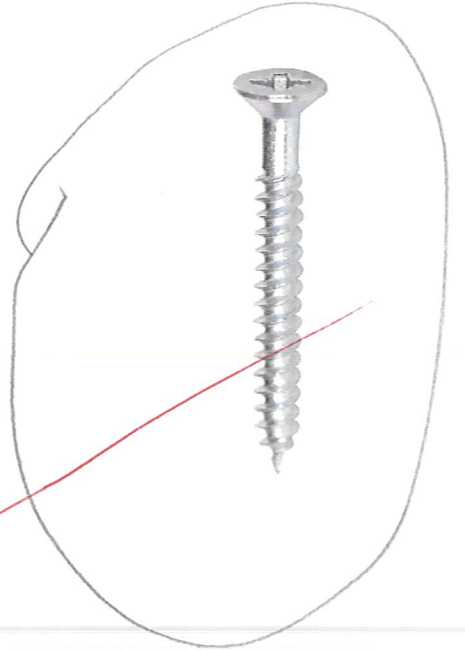

اسم الوحدة	يُظهر معرفة ومهارة في تصنيع المنتجات الخشبية	مخرج التعلم	يُشكل القطع الخشبية باستخدام الغراء والمسامير والبراغي والذسّر
معيار الأداء	يطبق تشكيل وتثبيت المنتجات الخشبية من خلال استخدام البراغي وتحضير الأدوات اللازمة للعمل	السنة الدراسية / الفصل الدراسي	2024 الفصل الثالث
اسم الطالب/ة		اسم المجموعة	
السؤال الأول	<p>ضع دائرة على صورة البرغي . مع تطبيق طريقة تثبيت البرغي على قطعة الخشب.</p>		





الاختبار 17 طريقة استخدام البراغي



يُشكل القطع الخشبية باستخدام الغراء والمسامير والبراغي والدُّسَر		مخرج التعلم	يُظهر معرفة ومهارة في تصنيع المنتجات الخشبية	اسم الوحدة
الفصل الثالث	2024	السنة الدراسية / الفصل الدراسي	يطبق تشكيل وتثبيت المنتجات الخشبية من خلال استخدام البراغي وتحضير الأدوات اللازمة للعمل	معيّار الأداء
		اسم المجموعة	حسن	اسم الطالب/ة
ضع دائرة على صورة البرغي . مع تطبيق طريقة تثبيت البرغي على قطعة الخشب.				السؤال الأول





الاختبار 17 طريقة استخدام البراغي

اسم الوحدة	يُظهر معرفة ومهارة في تصنيع المنتجات الخشبية	مخرج التعلم	يُشكل القطع الخشبية باستخدام الغراء والمسامير والبراغي والدّسر
معيار الأداء	يطبق تشكيل وتثبيت المنتجات الخشبية من خلال استخدام البراغي وتحضير الأدوات اللازمة للعمل	السنة الدراسية / الفصل الدراسي	2024 الفصل الثالث
اسم الطالب/ة	البراغي	اسم المجموعة	
السؤال الأول	ضع دائرة على صورة البرغي . مع تطبيق طريقة تثبيت البرغي على قطعة الخشب.		





الاختبار 17 طريقة استخدام البراغي

اسم الوحدة	يُظهر معرفة ومهارة في تصنيع المنتجات الخشبية	مخرج التعلم	يُشكل القطع الخشبية باستخدام الغراء والمسامير والبراغي والدّسر
معيار الأداء	يطبق تشكيل وتثبيت المنتجات الخشبية من خلال استخدام البراغي وتحضير الأدوات اللازمة للعمل	السنة الدراسية / الفصل الدراسي	2024 الفصل الثالث
اسم الطالب/ة	AH AH	اسم المجموعة	AB ABH
السؤال الأول	ضع دائرة على صورة البرغي . مع تطبيق طريقة تثبيت البرغي على قطعة الخشب.		

