




| الاختبار 19<br>طرق الدهان   |      |                                   |  |              |
|---|------|-----------------------------------|--|--------------|
| • يُشكل القطع الخشبية باستخدام الغراء والمسامير والبراغي والدُّسر |      | مخرج التعلم                       | يُظهر معرفة ومهارة في تصنيع المنتجات الخشبية   | اسم الوحدة   |
| الفصل الثالث  | 2024 | السنة الدراسية /<br>الفصل الدراسي | يُعد المنتجات الخشبية لعملية الدهان من خلال إزالة الأصباغ والحروق الناتجة عن عملية التثبيت | معيار الأداء |
|   |      | اسم المجموعة                      | فاخرة علي أحمد المنصور   | اسم الطالب/ة |

السؤال الاول ضع دائرة حول الصورة الصحيحة التي تعبر عن طرق عملية دهان الخشب



| الاختبار 19<br>طرق الدهان  |      |                                   |  |               |
|--|------|-----------------------------------|--|---------------|
| • يُشكل القطع الخشبية باستخدام الغراء والمسامير والبراغي والدُّسْر |      | مخرج التعلم                       | يُظهر معرفة ومهارة في تصنيع المنتجات الخشبية   | اسم الوحدة    |
| الفصل الثالث   | 2024 | السنة الدراسية /<br>الفصل الدراسي | يُعد المنتجات الخشبية لعملية الدهان من خلال إزالة الأصباغ والحروق الناتجة عن عملية التثبيت | معيّار الأداء |
|  |      | اسم المجموعة                      | دا ١٧  | اسم الطالب/ة  |

السؤال الاول ضع دائرة حول الصورة الصحيحة التي تعبر عن طرق عملية دهان الخشب



معا  
صحيحة  
كلية



## الاختبار 19 طرق الدهان

|   |      |                                   |  |              |
|---|------|-----------------------------------|--|--------------|
| يُشكل القطع الخشبية باستخدام الغراء والمسامير والبراغي والدُّسر |      | مخرج التعلم                       | يُظهر معرفة ومهارة في تصنيع المنتجات الخشبية   | اسم الوحدة   |
| الفصل الثالث  | 2024 | السنة الدراسية /<br>الفصل الدراسي | يُعد المنتجات الخشبية لعملية الدهان من خلال إزالة الأصباغ والحروق الناتجة عن عملية التثبيت | معيار الأداء |
|   |      | اسم المجموعة                      | زييد كوران   | اسم الطالب/ة |

ضع دائرة حول الصورة الصحيحة التي تعبر عن طرق عملية دهان الخشب

السؤال الاول



## الاختبار 19 طرق الدهان

|   |      |                                   |  |              |
|---|------|-----------------------------------|--|--------------|
| • يُشكل القطع الخشبية باستخدام الغراء والمسامير والبراغي والدُّسر |      | مخرج التعلم                       | يُظهر معرفة ومهارة في تصنيع المنتجات الخشبية   | اسم الوحدة   |
| الفصل الثالث  | 2024 | السنة الدراسية /<br>الفصل الدراسي | يُعد المنتجات الخشبية لعملية الدهان من خلال إزالة الأصباغ والحروق الناتجة عن عملية التثبيت | معيار الأداء |
|   |      | اسم المجموعة                      | سالم سالم  | اسم الطالب/ة |

السؤال الاول  
ضع دائرة حول الصورة الصحيحة التي تعبر عن طرق عملية دهان الخشب

